

Salih, arkadaşının doğum gününe gitmek için sabah erkenden uyanıp hazırlandı. Annesi ve babası ile birlikte heyecanla evden çıktı. Yolun yarısına geldikleri zaman babasına arkadaşına aldığı hediye evde unuttuğunu söyledi. Babası, Salih ve annesini önce doğum gününün yapılacağı yere bıraktı. Daha sonra eve dönüp Salih'in hediyesini alıp geri döndü. Salih, babasının hediye getirdiğini görünce çok sevindi. Arkadaşına hediyelerini verdi. Arkadaşı, Salih'in aldığı hediye çok beğendi.

1 ve 2 ve 3. soruyu metne göre cevaplayalım.

1. Salih nereye gitmek için hazırlandı?
 - A. Okula
 - B. Geziye
 - C. Doğum gününe
2. Salih, hediye unuttuğunu ilk olarak kime söylemiştir?
 - A. Annesine
 - B. Babasına
 - C. Arkadaşına
3. Metinde altı çizili kelimenin eş anlamlısı aşağıdakilerden hangisidir?
 - A. ödül
 - B. armağan
 - C. ceza

4.

bahçeyi	dedem
suladı	sabah

Yukarıdaki kelimelerle kurallı ve anlamlı bir cümle oluşturulduğu zaman hangi kelime sonda yer alır?

- A. sabah B. suladı C. dedem




5.

Okul	Manisa
Bebek	İngilizce

Yukarıda verilen kelimelerden kaç tanesi özel isimdir?

- A. 2
B. 3
C. 4

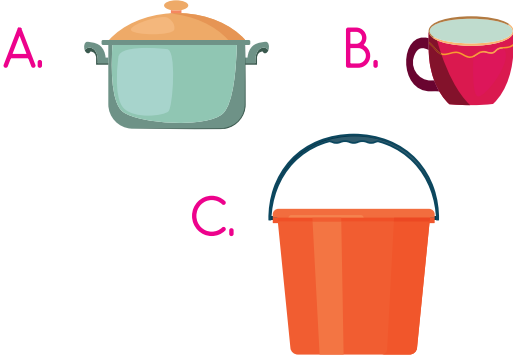
6.

	1 - Daha sonra parka gittik.
	2 - Önce evden çıktım.
	3 - Sonra arkadaşalarımla buluştum.

Yukarıdaki olayların oluş sıralamasına göre sıralanışı aşağıdakilerden hangisidir?

- A. 3 - 2 - 1
B. 1 - 3 - 2
C. 2 - 3 - 1

7. Aşağıdaki kaplardan hangisi daha fazla sıvı alır?



8.



Yukarıdaki kabın içindeki sıvı aşağıdaki kaplardan birine doldurulacaktır. Aşağıdakilerden hangisine doldurulursa kap daha kısa sürede boşalır?



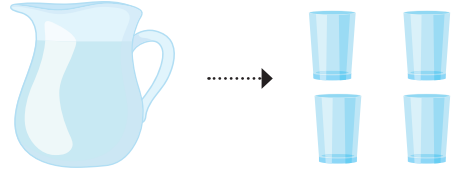
9.

K	Bir bardak su
T	Bir kepçe çorba
I	Bir kova yağ
A	Bir kaşık su

Yukarıdaki sıvılar en azdan en çok olana doğru sıralanacaktır. Buna göre oluşacak şifre aşağıdakilerden hangisidir?

A. KATI B. ATKI C. KITA

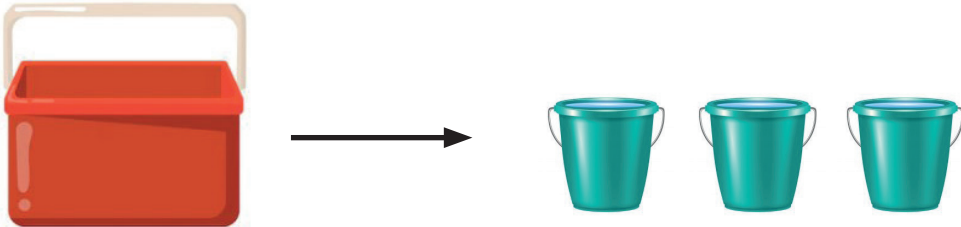
10.



Yukarıdaki sürahinin doldurabileceği bardak sayısı yukarıda verilmiştir. Buna göre 2 sürahi kaç bardak suyu doldurur?

A. 8 B. 9 C. 10

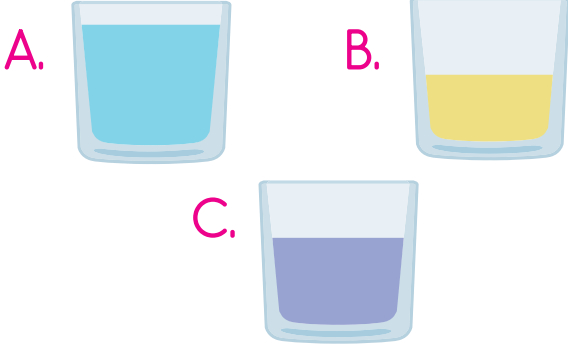
11.



Mehmet Bey, hayvanlarına su verdiği kabı doldurmak için 3 kova su döküyor. Kabın yarısının dolduğunu görüyor. Mehmet Bey, hayvanları için aynı boyutta iki kap kullandığına göre bu kapları kaç kova ile doldurabilir?

A. 8 B. 12 C. 20

12. Aşağıdaki kaplardan hangisi daha fazla sıvı ile doludur?



Okulumuzda bir çok atık geri dönüşüm için kutulara atılıyor.

Ahmet'in okulunda aşağıdakilerden hangisinin atığı geri dönüşüm kutularına atılıyor olamaz?



14. Aşağıdaki ifadelerden hangisi yanlıştır?

- A. Bir yılda 4 mevsim vardır.
 B. Dünya'mızı aydınlatan ve ısıtan Ay'dır.
 C. Dünya'mızın şekli küreye benzer.

15. Aşağıdaki ifadelerden hangisi yanlıştır?

- A. Sonbahar mevsiminde okullar başlar.
 B. Yaz mevsimi yılın en sıcak mevsimidir.
 C. Her mevsimde 4 ay vardır.

ADI :

SOYADI :

SINIFI :

PUANI :

soruyagesel.com

1	A	B	C	D
2	A	B	C	D
3	A	B	C	D
4	A	B	C	D
5	A	B	C	D
6	A	B	C	D
7	A	B	C	D
8	A	B	C	D
9	A	B	C	D
10	A	B	C	D
11	A	B	C	D
12	A	B	C	D
13	A	B	C	D
14	A	B	C	D
15	A	B	C	D