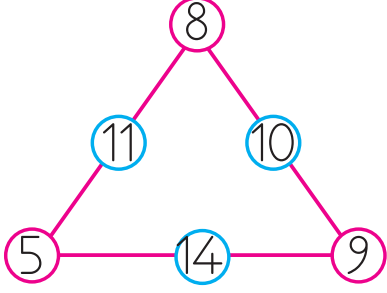








11.



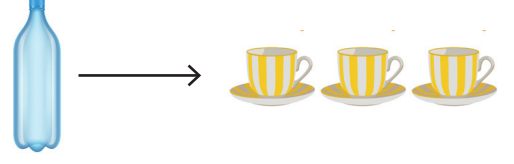
Murat üçgenin köşelerindeki sayılardan en büyüğü ile kenarlarındaki sayılardan en küçüğünü topluyor. Murat'ın bulduğu sayı kaçtır?

 Çözüm:


12. Sude'nin kumbarasında 1 tane 10 TL, 1 tane 5 TL, 2 tane 1 TL vardır. Sude'nin 20 liralık oyuncacı alması için kaç liraya ihtiyacı vardır?

 Çözüm:


13.




Bir şişe sudan 3 bardak su çıkmaktadır. Buna göre 3 şişe sudan kaç bardak su çıkar?

 Çözüm:

14. ● ▲ ▲ ■ ● ▲ ▲ ■ ● ▲ ??  
Yukarıdaki örüntüde eksik olan geometrik şekillerin köşe sayıları toplamı kaçtır?

 Çözüm:

15. Bir gölette 12 balıktan 8'i kırmızı, kalanı ise mavidir. Kırmızı balıkların yarısı, mavi balıkların ise tamamı yumurtlamıştır. Yumurtlamayan balık sayısı kaçtır?

 Çözüm: