



## KURNAZ TİLKİLER

Bir ormanda barış içinde yaşayan birçok hayvan varmış. Bu ormanda hüküm süren barış ortamı ve adalet herkesin dilindeymiş. Ormanda tüm hayvanlar kendi üzerine düşen işleri yapıyor, buranın güzelleşmesine katkı sağlıyorlarmış. Ormandaki besin kaynaklarından yararlanan hayvanlar hiçbir zaman aç kalmıyormuş.

Bir gün buraya komşu ormandan bir grup tilki gelmiş. Ormanın kralı aslana, çevreden duyduklarından çok etkilendiklerini, buranın parçası olmayı istediklerini söylemişler. Ormanın kralı diğer hayvanların da fikrini almış ve durumu kabul etmiş. Bir süre bu tilkiler diğer hayvanlara da uyararak ormanda uyumlu biçimde yaşamışlar.

Bir gün şiddetli bir kuraklık başlamış. Kuraklıkla birlikte besin kaynakları azalmış. Azalan besin kaynakları hayvanların daha çok çalışıp daha az yemesine neden oluyormuş. Ama tilkiler bu durumdan hiç memnun değilmiş. Geceleri kalkıp ormandaki tüm yiyecekleri yemeye başlamışlar ama bu onları mutlu edememiş. Tilki sürüsünden Taki, bir plan yapıp tüm hayvanları bu ormandan uzaklaştırabilirlerse ormanın tamamen onlara kalacağını, böylelikle daha çok besin bulabileceklerini arkadaşlarına söylemiş. Arkadaşları bu fikri çok mantıklı bulmuş. Önce hayvanları birbirlerine karşı kıskırtmışlar. Bu plan tutmamış, çünkü hayvanlar arası sevgi dayanışma buna engel olmuş. Daha sonra akıllarına bir plan daha gelmiş. Hayvanlara nehrin diğer ucunda daha güzel bir orman bulunduğunu, bu ormana bir sal inşa edilerek gidilebileceğini söylemişler. Her gittikleri hayvan tilkileri dinliyormuş fakat buna inanmıyormuş. Daha sonra tilkiler aralarında konuşup kartal ile anlaşmaya karar vermişler. Çünkü kartal ormanda çok vakit geçirmiyormuş ve diğer hayvanlarla arası o kadar da iyi değilmiş. Kartaldan, karşı ormana uçtuğunu ve gerçekten orada sınırsız kaynaklar olduğunu söylemesini istemişler. Kartal ilk başta bu fikri kabul etmemiş fakat daha sonra ona da mantıklı gelmiş. Çünkü azalan besin onu da zorlamaya başlamış. Kartal dışarıdan geldiği bir gün, tüm hayvanları bir araya toplayıp tilkilerin söylediklerini gözleriyle gördüğünü anlatmış. Bir grup hayvan buna inanmış. Bu yalana inanan hayvanlar hemen bir sal yapımına başlamışlar. Ormanın çeşitli yerlerinden tahtalar bulup bu salın yapımını bir günde tamamlamışlar. Ertesi gün oraya gitmek için sala binmişler. Kartal bir süre uçarak bu sala eşlik etmiş. Daha sonra ortadan kaybolmuş. Tilki ise son anda soldan atlayıp ormana geri dönmüşler. Hayvanlar uzun süre sonra bu yere varmışlar. Ama bu yerde anlatılan hiçbir şey yokmuş. Geri dönmeleri de imkansızmış çünkü nehirdeki akıntı buna izin vermiyormuş. Giden hayvanlardan sonra tilkiler rahat etmişler.

Tilkiler ve kartal tarafından kandırılan hayvanlar ellerinde olan besin kaynaklarını da kaybetmişler. Uzun süre zorluklar içinde yaşamışlar.

👉 Aşağıdaki soruları cevaplayalım.

1. Metnin ana fikri nedir?

İyilik yapıyor gibi görünen insanlar olabilir. Herkese güvenmemeliyiz.

2. Metnin konusu nedir?

Kuraklığın artması ile hayvanların yaşamlarını sürdürmeleri için çözüm yolları araması.

3. Orman, çevre tarafından nasıl biliniyormuş?

Barış ve adaletin olduğu bir yer olarak biliniyormuş.

4. Ormana daha sonradan gelip burada yaşamak istediğini söyleyen kimdir?

Bir grup tilki ormanda yaşamak istediğini söylemiş.

5. Ormandaki besin kaynakları neden azalmaya başlamış?

Şiddetli kuraklık sebebiyle azalmaya başlamış.

6. Tilkilerin hayvanları birbirlerine karşı kıskırtma fikri neden tutmamış?

Hayvanlar arası sevgi ve dayanışma buna engel olmuş.

7. Tilkiler hayvanları kandırmak için kim ile iş birliği yapmışlar?

Kartal ile iş birliği yapmışlar.

8. Hayvanlar, karşı ormana nasıl gitmişler?

- A. gemi ile  
 B. sal ile  
 C. yürüyerek  
 D. kartalın sırtında

9. Metnin son cümlesindeki eylemin zamanı aşağıdakilerden hangisidir?


- A. Gelecek zaman  
 B. Şimdiki zaman *yaşamışlar*  
 C. Geniş zaman  
 D. Geçmiş zaman

10. Aşağıdaki cümlelerin hangisinde eylem gelecekte yapılacaktır?

- A. Ailece piknik yaptık.  
 B. Abimle İstanbul'a gideceğim.  
 C. Her sabah süt içerim.  
 D. Evde ödevini yapıyor.

11. Aşağıda verilen eylemlerin geçmiş, gelecek ve şimdiki zamanlı olacak şekilde yazalım.

	Geçmiş	Gelecek	Şimdiki
yap	yaptı	yapacak	yapıyor
boz	bozdu	bozacak	bozuyor
kır	kırdı	kıracak	kırıyor
yüz	yüzdü	yüzecek	yüzlüyor

 Aşağıda verilen sözcüklerin numarasını Türkçe karşılıklarının bulunduğu daireye yazıp şifreyi çözelim.

monoton  
1.

amatör  
2.

8 L  
7 A  
6 K  
5 A  
4 T  
3 B  
2 O  
1 P

aygıt  
R

sinirli  
T

cihaz  
3.

agresif  
4.

gösteri  
A

yıldız  
K

transfer  
5.

star  
6.

deneysiz  
O

aktarım  
A

şov  
7.

absürt  
8.

ŞİFRE

manasız  
L


sıradan  
P

 Aşağıda verilen cümlelerdeki yabancı sözcüklerin Türkçe karşılıklarını bulalım, cümle içinde kullanalım.

 Sizin jenerasyonda bu oyun sevilmezdi.

 Gelecek nesillere örnek olalım

 Yazdığı kitabın patentini daha almadı.

 Şarkı sözlerinin buluş belgesini aldı

 Filmin galasına yüzlerce insan katıldı.

 Filmin ilk gösterimine ben de katıldım

 Oyunun finali çok çekişmeli geçti.

 Film mutlu son ile bitti

 O laptop sürekli bozuluyor.

 Abime dizüstü bilgisayar aldık



 Aşağıdaki cümlelerden karşılaştırma belirtenlerin yıldızını boyayalım.

 Ali, Emre kadar hızlı koşamaz.



 Mehmet ile parka gidiyoruz.



 Hastalandığı için okula gelememiş.



 Dünkü biber daha acıydı.



 Suna ile Selda aynı yaşıdır.



 Senin gibi oynamak isterdim.



 Ada, Yağız'dan daha uzun boyludur.



 Ayakabısı yırtıldığından giyemedi.




 Aşağıda görselde verilen varlıkları karşılaştıracak cümleler kuralım.





Tavşan kaplumbağadan hızlı koşar.



Tır karada, uçak havada gider.

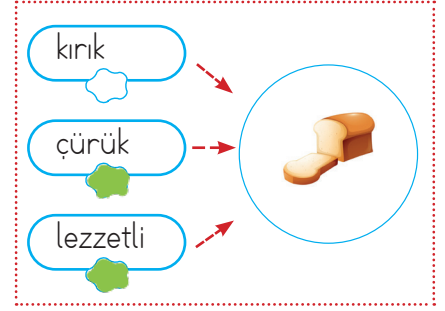
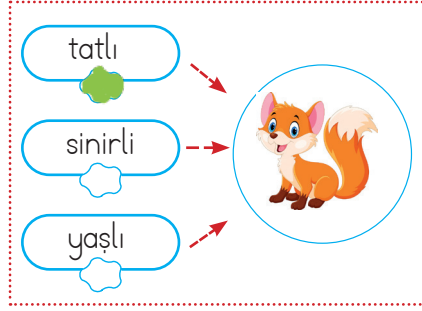
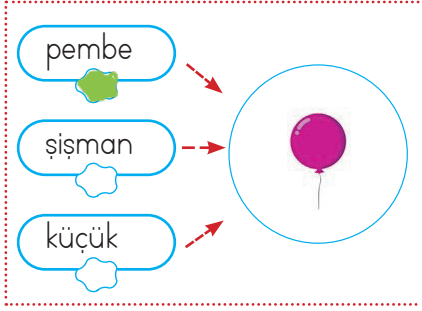
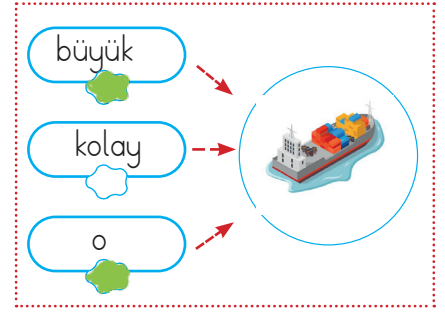
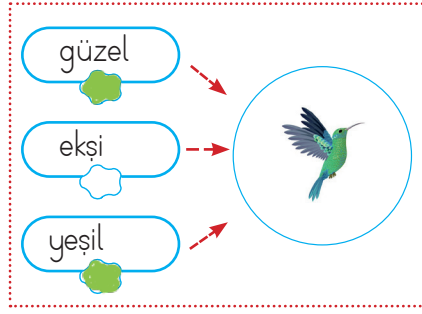
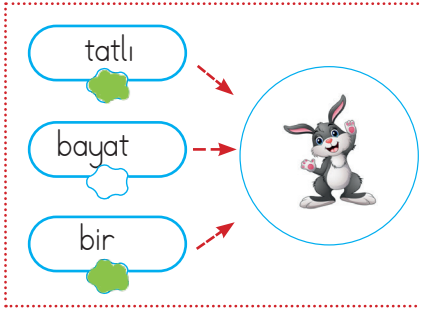


Kartal da güvercin gibi kuştur.

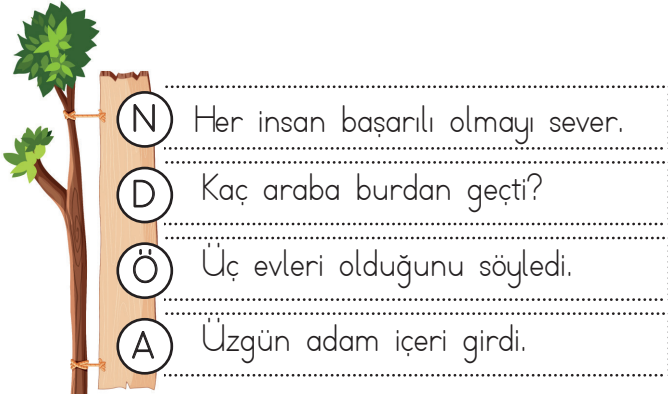


Limon ekşi, muz tatlıdır.

✏️ Aşağıdaki resimlere uygun ön adların dairesini yeşile, uygun olmayanları kırmızıya boyayalım.



✏️ Aşağıdaki cümlelerde geçen ön adların varlığın hangi özelliğini belirttiğini belirleyelim. Harflerini karşıya yazalım, şifreyi çözelim.



✏️ Aşağıdaki kutularda verilen ön ad türüne uygun kelimeler yazalım.

sayı → Bahçede **dört** ağaç var.

şekil → **Yuvarlak** masanın ayağı kırılmış.

sıra → **ikinci**... derse giriyoruz.

işaret → **Bu**... araba çok hızlıymış.

soru → **Hangi**... dersi seversin?


belgisiz → **Biradık**... insan bunu bilmez.

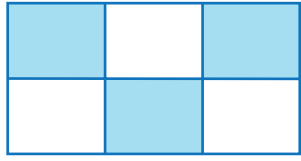
durum → **Güneşli**... havayı çok severim.

işaret → Babam, **bu**... resmi beğendi.

renk → **Kırmızı**... ayakkabısını giymiş.


durum → **Sinirli**... müdür buraya geldi.

 Aşağıdaki şekillerin boyalı kısımlarının ifade ettiği kesirleri ve okunuşları örnekteki gibi yazalım.



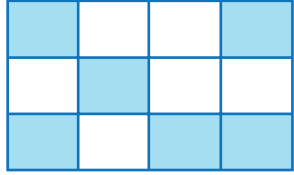
$$\rightarrow \frac{3}{6}$$

Üç bölü altı  
veya  
Altıda üç



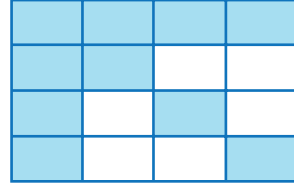
$$\rightarrow \frac{2}{4}$$

İki bölü dört  
veya  
Dörtte iki



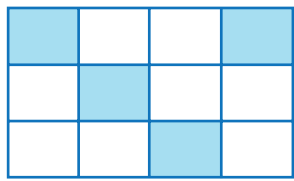
$$\rightarrow \frac{6}{12}$$

Altı bölü on iki  
veya  
On ikide altı



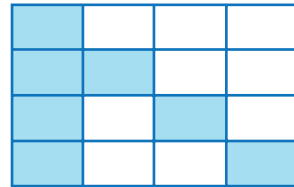
$$\rightarrow \frac{10}{16}$$

On bölü on altı  
veya  
On altıda on



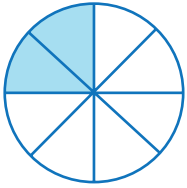
$$\rightarrow \frac{4}{12}$$

Dört bölü on iki  
veya  
On ikide dört



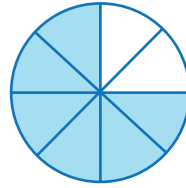
$$\rightarrow \frac{7}{16}$$

Yedi bölü on altı  
veya  
On altıda yedi



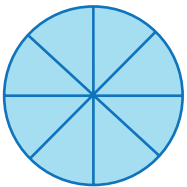
$$\rightarrow \frac{2}{8}$$

İki bölü sekiz  
veya  
Sekizde iki



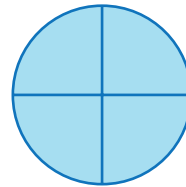
$$\rightarrow \frac{6}{8}$$

Altı bölü sekiz  
veya  
Sekizde altı



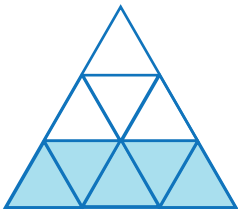
$$\rightarrow \frac{8}{8}$$

Sekiz bölü sekiz  
veya  
Sekizde sekiz



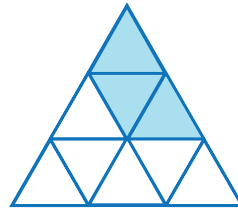
$$\rightarrow \frac{4}{4}$$

Dört bölü dört  
veya  
Dörtte dört



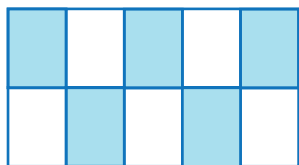
$$\rightarrow \frac{5}{9}$$

Bes bölü dokuz  
veya  
Dokuzda beş



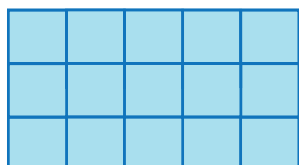
$$\rightarrow \frac{3}{9}$$

Üç bölü dokuz  
veya  
Dokuzda üç



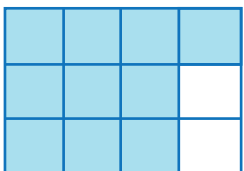
$$\rightarrow \frac{5}{10}$$

Bes bölü on  
veya  
Onda bes



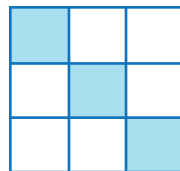
$$\rightarrow \frac{15}{15}$$

On beş bölü on beş  
veya  
On beşte on beş



$$\rightarrow \frac{10}{12}$$

On bölü on iki  
veya  
On ikide on



$$\rightarrow \frac{3}{9}$$

Üç bölü dokuz  
veya  
Dokuzda üç



Aşağıdaki noktalı yerlere basit kesir olacak şekilde örnekteki gibi sayılar yazınız.	Aşağıdaki noktalı yerlere bileşik kesir olacak şekilde örnekteki gibi sayılar yazınız.	Aşağıdaki noktalı yerlere örnekteki gibi sayılar yazıp tam sayılı kesirler oluşturunuz.
$\frac{1}{9}$ $\frac{8}{9}$ $\frac{1}{10}$	$\frac{5}{3}$ $\frac{10}{5}$ $\frac{10}{10}$	$31\frac{4}{5}$ $5\frac{7}{8}$
$\frac{5}{6}$ $\frac{4}{7}$	$\frac{11}{8}$ $\frac{15}{9}$	$12\frac{4}{5}$ $3\frac{7}{8}$
$\frac{9}{10}$ $\frac{3}{12}$	$\frac{17}{13}$ $\frac{22}{14}$	$4\frac{7}{9}$ $9\frac{3}{10}$
$\frac{3}{6}$ $\frac{4}{9}$	$\frac{6}{3}$ $\frac{11}{4}$	$5\frac{3}{8}$ $1\frac{5}{9}$
$\frac{1}{3}$ $\frac{2}{8}$	$\frac{5}{2}$ $\frac{7}{6}$	$6\frac{7}{12}$ $2\frac{4}{13}$
$\frac{17}{19}$ $\frac{6}{21}$	$\frac{19}{12}$ $\frac{15}{14}$	$9\frac{8}{16}$ $7\frac{6}{18}$
$\frac{14}{20}$ $\frac{9}{22}$	$\frac{15}{15}$ $\frac{28}{17}$	$10\frac{9}{15}$ $4\frac{5}{14}$
$\frac{5}{8}$ $\frac{7}{13}$	$\frac{36}{29}$ $\frac{28}{16}$	$1\frac{7}{17}$ $3\frac{9}{19}$
$\frac{6}{9}$ $\frac{10}{11}$	$\frac{18}{5}$ $\frac{19}{19}$	$8\frac{13}{20}$ $4\frac{17}{25}$
$\frac{20}{24}$ $\frac{18}{27}$	$\frac{50}{40}$ $\frac{54}{50}$	$2\frac{21}{28}$ $11\frac{18}{35}$
$\frac{41}{42}$ $\frac{10}{25}$	$\frac{45}{42}$ $\frac{30}{25}$	$3\frac{12}{30}$ $6\frac{27}{36}$
$\frac{19}{20}$ $\frac{20}{25}$	$\frac{23}{23}$ $\frac{20}{4}$	$16\frac{3}{45}$ $9\frac{9}{50}$

→ Aşağıda okunuşları verilen kesirleri örnekteki gibi yazarak şekille gösterebiliriz ve kesir çeşitlerini yazalım.

Okunuşu	Kesir	Model	Çeşidi
Üç bölü sekiz	$\frac{3}{8}$		Basit kesir
On üçte üç	$\frac{3}{13}$		Basit kesir
Yedi bölü yedi	$\frac{7}{7}$		Bileşik kesir
Üç tam beşte üç	$3\frac{3}{5}$		Bileşik kesir
Dört tam bir bölü iki	$4\frac{1}{2}$		Tam sayılı kesir
Bir tam onda bir	$1\frac{1}{10}$		Tam sayılı kesir
Dokuz bölü dokuz	$\frac{9}{9}$		Bileşik kesir
On üç bölü on bir	$\frac{13}{11}$		Bileşik kesir
On bölü on	$\frac{10}{10}$		Bileşik kesir
iki tam yedi bölü sekiz	$2\frac{7}{8}$		Tam sayılı kesir
Beş bölü on	$\frac{5}{10}$		Basit kesir
Üç tam beşte iki	$3\frac{2}{5}$		Tam sayılı kesir





Aşağıdaki kesirleri küçükten büyüğe doğru sembol kullanarak sıralayalım.



$$\frac{1}{4} \quad \frac{3}{4} \quad \frac{2}{4}$$

$$\frac{1}{4} < \frac{2}{4} < \frac{3}{4}$$



$$\frac{2}{8} \quad \frac{8}{8} \quad \frac{1}{8}$$

$$\frac{1}{8} < \frac{2}{8} < \frac{8}{8}$$



$$\frac{4}{9} \quad \frac{7}{9} \quad \frac{3}{9} \quad \frac{8}{9}$$

$$\frac{3}{9} < \frac{4}{9} < \frac{7}{9} < \frac{8}{9}$$



$$\frac{11}{20} \quad \frac{15}{20} \quad \frac{18}{20}$$

$$\frac{11}{20} < \frac{15}{20} < \frac{18}{20}$$



$$\frac{6}{7} \quad \frac{7}{7} \quad \frac{3}{7}$$

$$\frac{3}{7} < \frac{6}{7} < \frac{7}{7}$$



$$\frac{3}{6} \quad \frac{5}{6} \quad \frac{9}{6}$$

$$\frac{3}{6} < \frac{5}{6} < \frac{9}{6}$$



$$\frac{3}{11} \quad \frac{7}{11} \quad \frac{9}{11} \quad \frac{1}{11}$$

$$\frac{1}{11} < \frac{3}{11} < \frac{7}{11} < \frac{9}{11}$$



$$\frac{9}{30} \quad \frac{10}{30} \quad \frac{7}{30}$$

$$\frac{7}{30} < \frac{9}{30} < \frac{10}{30}$$



$$\frac{8}{12} \quad \frac{3}{12} \quad \frac{4}{12}$$

$$\frac{3}{12} < \frac{4}{12} < \frac{8}{12}$$



$$\frac{9}{22} \quad \frac{6}{22} \quad \frac{11}{22} \quad \frac{3}{22}$$

$$\frac{3}{22} < \frac{6}{22} < \frac{9}{22} < \frac{11}{22}$$



Aşağıdaki kesirleri büyükten küçüğe doğru sembol kullanarak sıralayalım.



$$\frac{4}{8} \quad \frac{6}{8} \quad \frac{3}{8}$$

$$\frac{6}{8} > \frac{4}{8} > \frac{3}{8}$$



$$\frac{5}{13} \quad \frac{3}{13} \quad \frac{12}{13}$$

$$\frac{12}{13} > \frac{5}{13} > \frac{3}{13}$$



$$\frac{9}{18} \quad \frac{7}{18} \quad \frac{17}{18}$$

$$\frac{17}{18} > \frac{9}{18} > \frac{7}{18}$$



$$\frac{6}{9} \quad \frac{9}{9} \quad \frac{3}{9} \quad \frac{7}{9}$$

$$\frac{9}{9} > \frac{7}{9} > \frac{6}{9} > \frac{3}{9}$$



$$\frac{8}{15} \quad \frac{9}{15} \quad \frac{7}{15} \quad \frac{11}{15}$$

$$\frac{11}{15} > \frac{9}{15} > \frac{8}{15} > \frac{7}{15}$$



$$\frac{8}{32} \quad \frac{5}{32} \quad \frac{9}{32}$$

$$\frac{9}{32} > \frac{8}{32} > \frac{5}{32}$$



$$\frac{4}{23} \quad \frac{10}{23} \quad \frac{9}{23}$$

$$\frac{10}{23} > \frac{9}{23} > \frac{4}{23}$$



$$\frac{4}{4} \quad \frac{2}{4} \quad \frac{3}{4}$$

$$\frac{4}{4} > \frac{3}{4} > \frac{2}{4}$$



$$\frac{7}{10} \quad \frac{4}{10} \quad \frac{6}{10}$$

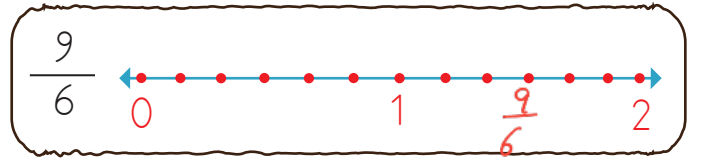
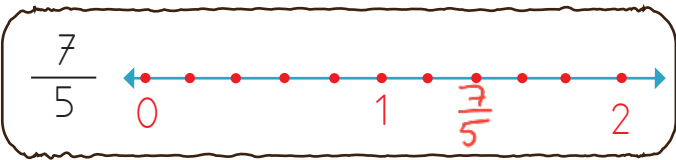
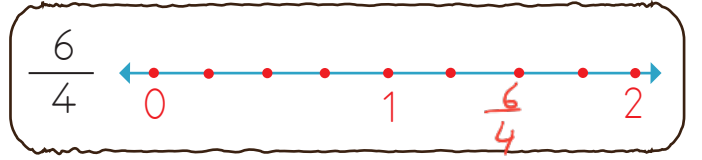
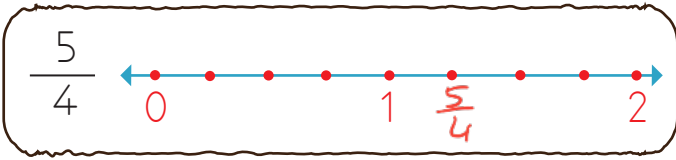
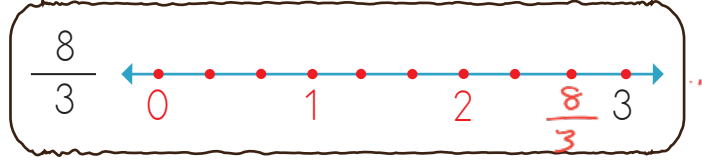
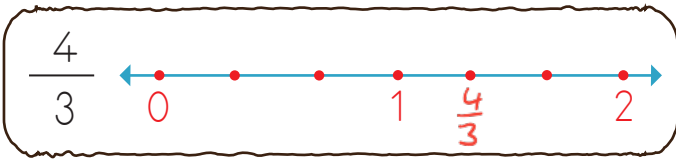
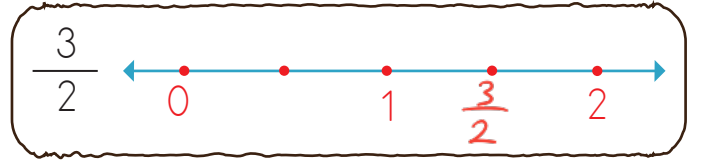
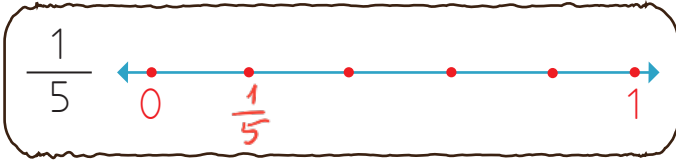
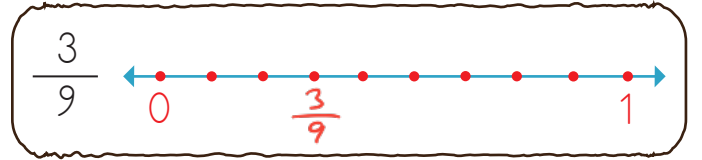
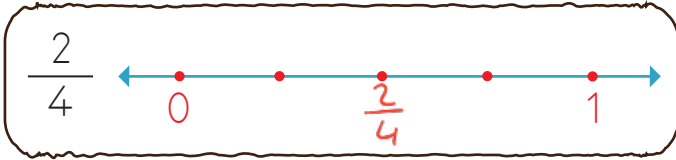
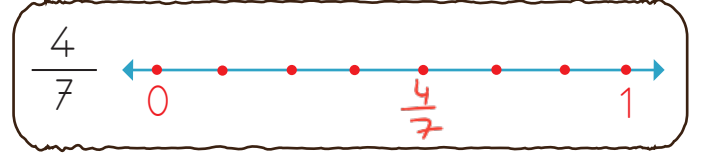
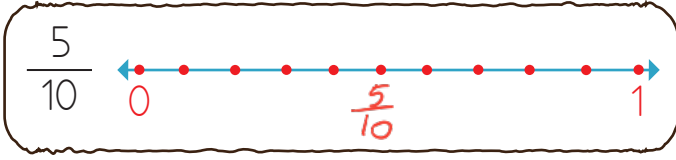
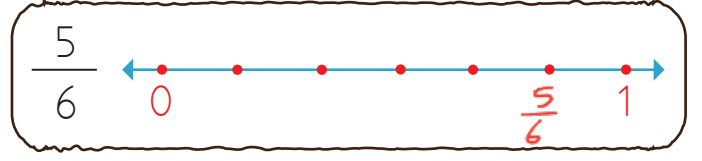
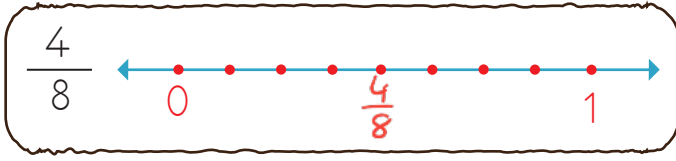
$$\frac{7}{10} > \frac{6}{10} > \frac{4}{10}$$



$$\frac{3}{8} \quad \frac{7}{8} \quad \frac{6}{8} \quad \frac{9}{8}$$

$$\frac{9}{8} > \frac{7}{8} > \frac{6}{8} > \frac{3}{8}$$

→ Aşağıda verilen kesirleri sayı doğrusunda gösteriniz.



 Aşağıda verilen sayıların belirtilen kesir kadarını bulalım.

$$27\text{'nin } \frac{2}{3} \text{ 'ü}$$



$$\text{Çözüm : } 27 \div 3 = 9 \\ 9 \times 2 = 18$$

$$96\text{'nin } \frac{9}{12} \text{ 'si}$$



$$\text{Çözüm : } 96 \div 12 = 8 \\ 8 \times 9 = 72$$

$$48\text{'in } \frac{7}{8} \text{ 'i}$$



$$\text{Çözüm : } 48 \div 8 = 6 \\ 6 \times 7 = 42$$

$$125\text{'in } \frac{4}{5} \text{ 'i}$$



$$\text{Çözüm : } 125 \div 5 = 25 \\ 25 \times 4 = 100$$

$$36\text{'nin } \frac{2}{3} \text{ 'ü}$$



$$\text{Çözüm : } 36 \div 3 = 12 \\ 12 \times 2 = 24$$

$$44\text{'nin } \frac{3}{4} \text{ 'ü}$$



$$\text{Çözüm : } 44 \div 4 = 11 \\ 11 \times 3 = 33$$

$$49\text{'un } \frac{5}{9} \text{ 'u}$$



$$\text{Çözüm : } 49 \div 9 = 7 \\ 7 \times 5 = 35$$

$$154\text{'ün } \frac{6}{7} \text{ 'si}$$



$$\text{Çözüm : } 154 \div 7 = 22 \\ 22 \times 6 = 132$$

$$81\text{'nin } \frac{7}{9} \text{ 'u}$$



$$\text{Çözüm : } 81 \div 9 = 9 \\ 9 \times 7 = 63$$

$$360\text{'in } \frac{4}{6} \text{ 'si}$$



$$\text{Çözüm : } 360 \div 6 = 60 \\ 60 \times 4 = 240$$

$$88\text{'in } \frac{3}{8} \text{ 'i}$$



$$\text{Çözüm : } 88 \div 8 = 11 \\ 11 \times 3 = 33$$

$$220\text{'nin } \frac{11}{20} \text{ 'si}$$



$$\text{Çözüm : } 220 \div 20 = 11 \\ 11 \times 11 = 121$$

$$169\text{'un } \frac{8}{13} \text{ 'ü}$$



$$\text{Çözüm : } 169 \div 13 = 13 \\ 13 \times 8 = 104$$

$$300\text{'ün } \frac{13}{15} \text{ 'i}$$



$$\text{Çözüm : } 300 \div 15 = 20 \\ 20 \times 13 = 260$$

$$99\text{'un } \frac{3}{3} \text{ 'ü}$$



$$\text{Çözüm : } 99 \div 3 = 33 \\ 33 \times 3 = 99$$



275 sayısının  $\frac{1}{5}$ 'i kaç eder?  
→ 5 parçada 1 tanesi

$$\begin{array}{r} 275 \overline{) 5} \\ \underline{-25} \phantom{5} \\ 25 \phantom{5} \\ \underline{-25} \\ 00 \end{array}$$



Çözüm:



448 sayfalık kitabın  $\frac{3}{4}$ 'ünü okuyan  
Ahmet'in okumadığı kaç sayfa  
kalmıştır?

$$\begin{array}{r} 448 \overline{) 4} \\ \underline{-4} \phantom{8} \\ 04 \\ \underline{-4} \\ 08 \\ \underline{-8} \\ 0 \end{array}$$

$$\begin{array}{r} 112 \\ \times 3 \\ \hline 336 \rightarrow \text{okunmuş} \end{array}$$

$$\begin{array}{r} 448 \\ \underline{-336} \\ 112 \text{ sayfa kaldı.} \end{array}$$



Çözüm:



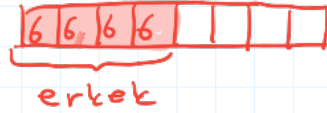
Bir sınıftaki 48 öğrenciden  $\frac{4}{8}$ 'i er-  
kektir. Sınıftaki erkek öğrenci sayısı  
kaçtır?

$$48 \div 8 = 6$$

$$6 \times 4 = 24 \rightarrow \text{erkek}$$



Çözüm:



Bir yılın  $\frac{3}{5}$  günü kadar çalışan  
Ahmet Bey'in çalışmadığı süre kaç  
gündür? Bir yıl = 365 gün



Çözüm:

$$\frac{5}{5} - \frac{3}{5} = \frac{2}{5}$$

$$365 \div 5 = 73$$

$$73 \times 2 = 146$$



Bir çiftlikte bulunan 80 hayvanın  $\frac{3}{4}$ 'ü  
inek,  $\frac{1}{4}$ 'ü keçidir. Buna göre bu  
çiftlikteki inek sayısı keçi sayısından ne  
kadar fazladır.



Çözüm:

$$80 \div 4 = 20$$

$$20 \times 3 = 60 \rightarrow \text{inek}$$

$$80 \div 4 = 20 \rightarrow \text{keçi}$$

$$\begin{array}{r} 60 \\ \underline{-20} \\ 40 \text{ fazladır.} \end{array}$$



Bir otobüsteki 87 yolcudan  $\frac{2}{3}$ 'ü  
kadın geriye kalanlar ise erkektir. Bu  
otobüsteki erkek sayısı kaçtır?



Çözüm:

$$\begin{array}{r} 87 \overline{) 3} \\ \underline{-5} \phantom{7} \\ 27 \\ \underline{-27} \\ 00 \end{array}$$

$$\begin{array}{r} 29 \\ \times 2 \\ \hline 58 \rightarrow \text{kadın} \end{array}$$

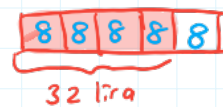
$$\begin{array}{r} 87 \\ \underline{-58} \\ 29 \rightarrow \text{erkek} \end{array}$$



Cebimdeki paranın  $\frac{4}{5}$ 'i 32 liradır.  
Buna göre cebimdeki para kaç liradır?



Çözüm:



$$32 \div 4 = 8$$

$$\text{Tamamı} = 5 \times 8 = 40 \text{ liradır.}$$



580 lira paranın önce  $\frac{1}{5}$ 'ini daha  
sonra  $\frac{2}{5}$ 'ini harcadım. Buna göre  
geriye kalan para kaç liradır?



Çözüm:





$$\begin{array}{r} 580 \overline{) 5} \\ \underline{-5} \phantom{8} \\ 08 \text{ önce} \\ \underline{-5} \\ 30 \\ \underline{-30} \\ 00 \end{array}$$

$$\begin{array}{r} 116 \\ \times 2 \\ \hline 232 \text{ sonra} \end{array}$$

$$\begin{array}{r} 580 \\ \underline{-232} \\ 348 \end{array}$$

$$\begin{array}{r} 580 \\ \underline{-348} \\ 232 \text{ lira} \end{array}$$

 Aşağıda verilen iletişim araçlarını geçmişten günümüze doğru sıralayalım.



 Verilen kelimeleri uygun boşluklara yazalım.

~~Sümerler~~

~~Thomas Edison~~

~~doğaya~~

~~sağlık~~

ulaşım

~~Graham Bell~~

~~teknoloji~~

~~eğitim~~

 Telefonu Graham Bell icat etmiştir.


 Stretoskop sağlık alanında kullanılan bir teknolojik alettir.

 Teknoloji bilinçsiz kullanıldığı zaman doğaya zarar verebilir.


 İlk kez tekerleği arabalarda, Sümerler kullanmıştır.

 Akıllı tahta, tepegöz gibi teknolojik ürünler eğitim alanında kullanılan teknolojik ürünlerdendir.

 Aydınlanmak için kullandığımız ampülü Thomas Edison icat etmiştir.

 Teknoloji yaptığımız işleri daha kolay ve kısa sürede yapabilmek için kullandığımız yöntem ve araçların her biridir.

 Günümüzdeki ulaşım araçlarıyla daha konforlu ve uzun süreli seyahat edilme imkanı bulunmaktadır.

 Verilen maddelerden katı olanlara (K), sıvı olanlara (S), gaz olanlara (G) yazalım.

yağ (S)	buz (K)	buhar (G)	doğal gaz (G)
hava (G)	su (S)	kolonya (S)	taş (K)
kalem (K)	tahta (K)	oksijen (G)	kitap (K)
ayran (S)	şişe (K)	azot (G)	cıva (S)

 Aşağıdaki tabloyu uygun şekilde dolduralım.











Özellik	Katı	Sıvı	Gaz
★ Kütlesi vardır.	✓	✓	✓
★ Buldukları kabın şeklini alırlar.		✓	✓
★ Ortama çok hızlı bir şekilde yayılırlar.			✓
★ Bir kaba konulduğunda kabın şeklini alırlar.		✓	✓
★ Belirli bir şekli vardır.	✓		
★ Sıkıştırılabilme özelliğine sahiptirler.			✓
★ Dışarıdan bir etki olmazsa şekilleri bozulmaz.	✓		
★ Akışkanlık özelliğine sahiptir.		✓	✓
★ Belirli bir hacimi vardır.	✓		

 Aşağıdaki tabloda verilen ifadeleri eşleştirelim.

Maddenin en düzenli hali	<input type="checkbox"/>	ve ortamı tamamen doldururlar.
Sıvı maddeler buldukları kabın şeklini alırlar	<input type="checkbox"/>	gaz haline örnek olarak verebiliriz.
Gaz maddeler sıkıştırılabilme özelliğine sahiptir	<input type="checkbox"/>	katı halidir.
Su buharını maddenin	<input type="checkbox"/>	ancak gazlar gibi sıkıştırılamazlar.



 Aşağıdaki ifadelerden doğru olanlara "D", yanlış olanlara "Y" yazalım.

-  (D) Isı alan maddenin sıcaklığı artar.
-  (D) Maddeler ısı alıp verdiği bir halden başka bir hale geçebilir.
-  (Y) Sıcak ve soğuk maddeler birbirleriyle temas edince ısı alışverişi olmaz.
-  (D) Termometre sıcak bir ortama konulduğu zaman içindeki cıvanın seviyesi artar.
-  (Y) Sıvı maddeler belirli bir sıcaklığı aldıktan sonra katı veya gaz hale geçebilir.
-  (D) Katı maddeler ısı alarak sıvı hale geçer.
-  (Y) Sıvı maddelerin ısı alarak gaz haline gelmesine erime denir.
-  (D) Bir maddenin sıcaklığı termometre ile ölçülür.
-  (D) Maddenin ısı vererek sıvı halden katı hale geçmesine donma denir.
-  (D) Erime, donma ve buharlaşma maddelerin hal değişimine örnektir.

 Aşağıdaki tabloda verilen ifadeleri örnekteki gibi işaretleyelim.

Olay	Erir	Donar
Oda sıcaklığında kalan buzun sıvı hale geçmesi.	X	
Kutuplardaki buzulların durumu	X	
Eriyen çikolatanın buz dolabına konulduktan sonra katılaşması		X
Kışın göllerin suyunun buz tutması		X
Sıcakta dondurmanın damlamaya başlaması	X	
Kızgın tavaya atılan tereyağının hal değişimi	X	
Kışın çatılardaki yağmur suyunun buzlaşması		X

A. Cümlelerle saatleri eşleştirelim.

A It's five o'clock.

B It's nine o'clock.

C It's seven o'clock.

D It's twelve o'clock.


E It's ten o'clock.

F It's eleven o'clock.

B. Karışık halde verilmiş haftanın günlerini yazalım.

YASARUDT  
SATURDAY

ESUTADY  
TUESDAY



SRTHDYUA  
THURSDAY

DWESENAYD  
WEDNESDAY

UNASYD  
SUNDAY

NOMYAD  
MONDAY

IRDFYA  
FRIDAY

1. Aşağıdaki cümlelerin hangisinde eylem şimdiki zamanlıdır?
- A. Babam iş çıkışı markete gidecek.  
 B. Ali bugün okula gelmedi.  
 C. Serdar uçağa binmiş.  
 D. Mehmet soru çözüyor.

2.



Aşağıdakilerden hangisi yukarıdaki varlığı işaret yoluyla belirtmiştir?

- A. Hangi  
 B. Yeşil  
 C. Güzel  
 D. Bu

3.

- Buz gibi havada gittiler.  
 Senin kadar hızlı koşamaz.  
 Ayağını incittiği için doktora gitti.  
 Bu soğukta dışarı çıkmamalısın.

Yukarıdaki cümlelerden hangisi karşılaştırma anlamı içerir?

- A.   
 B.   
 C.   
 D.

4.

star	aygıt	agresif	şov
------	-------	---------	-----

Yukarıdaki kelimelerden kaç tanesi Türkçeye yabancı dillerden girmiştir?

- A. 1      B. 2      C. 3      D. 4

5. Aşağıdaki cümlelerden hangisinde eylem kullanılmamıştır?

- A. Oradan geçerken Mehmet'i gördüm.  
 B. Abim dün hastanedeydi.  
 C. Ahmet ormanda koşmaya gitti.  
 D. Selim evde ders çalışıyor.

6.

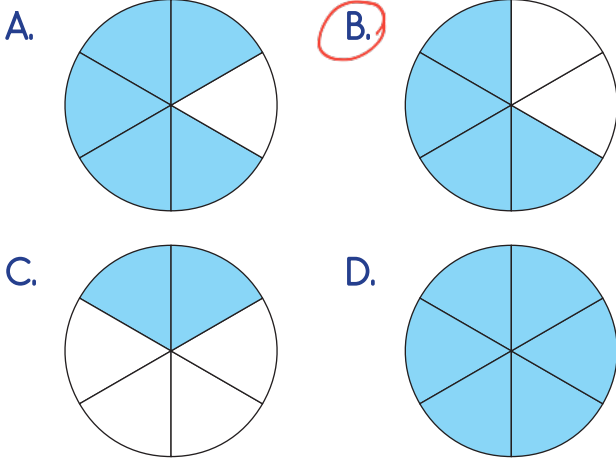


Onlar bugün maçta bizden daha iyi oynadılar.

Yukarıdaki cümle ile ilgili aşağıdaki söylenenlerden hangisi yanlıştır?

- A. Sebep sonuç ilişkisi vardır.   
 B. Eylemi geçmiş zamanlıdır.   
 C. Karşılaştırma yapılmıştır.   
 D. Adıl kullanılmıştır.

1. Aşağıdaki modellerden hangisi  $\frac{4}{6}$  kesrini ifade eder?



2. Aşağıdaki kesirlerden hangisinin çesidi diğerlerinden farklıdır?

A.  $\frac{9}{12}$  B.  $\frac{23}{28}$  C.  $\frac{34}{32}$  D.  $\frac{6}{7}$

Basit Bileşik

3.

4	4	4	4
4	4	4	4

3 tane = 12

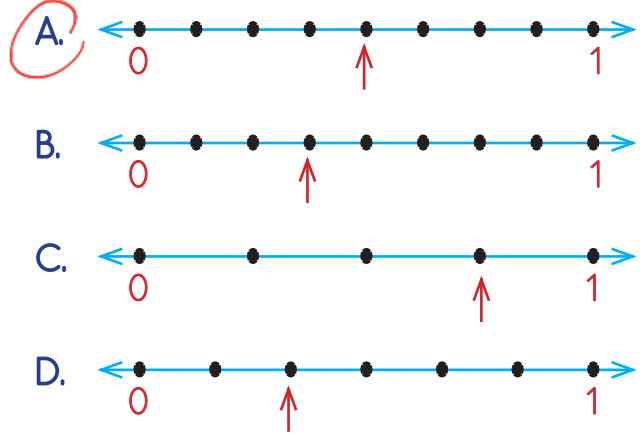
Yukarıdaki modelde boyalı eş parçalar 12 sayısına karşılık gelmektedir. Buna göre modelin tamamı kaç sayısına karşılık gelir?

- A. 28  
B. 32  
C. 36  
D. 40

$$12 \div 3 = 4$$

$$8 \times 4 = 32$$

4.  $\frac{4}{8}$  kesrinin sayı doğrusunda gösterimi aşağıdakilerden hangisidir?



5. 364 sayfalık kitabın  $\frac{5}{7}$ 'sini okuyan Velî'nin okumadığı kaç sayfa kalmıştır?

- A. 94 B. 104 C. 114 D. 124

$$\begin{array}{r} 364 \overline{) 7} \\ -35 \phantom{0} \\ \hline 14 \\ -14 \\ \hline 00 \end{array}$$

$$\begin{array}{r} 52 \\ \times 5 \\ \hline 260 \end{array} \rightarrow \text{okudu}$$

$$\begin{array}{r} 364 \\ -260 \\ \hline 104 \end{array} \rightarrow \text{sayfa kaldı}$$

6. Aşağıdaki verilen kesirlerin ifade ettiği sayıların hangisi en büyüktür?

- A. 145'in  $\frac{4}{5}$ 'i  
 $145 \div 5 = 29$   
 $29 \times 4 = 116$
- B. 156'nin  $\frac{2}{3}$ 'ü  
 $156 \div 3 = 52$   
 $52 \times 2 = 104$
- C. 152'nin  $\frac{7}{8}$ 'i  
 $152 \div 8 = 19$   
 $19 \times 7 = 133$
- D. 180'nin  $\frac{6}{9}$ 'u  
 $180 \div 9 = 20$   
 $20 \times 6 = 120$

1. İletişim alanında insanlık aşağıdakilerden hangisini diğerlerinden daha önce kullanmıştır?



2. Aşağıdaki teknolojik aletlerden hangisinin fazla kullanımı sonucunda sosyal ilişkilerin azalması, gözlerin bozulması gibi sorunlar ortaya çıkar?



3. "Ampül" icat eden mucit hangi seçenekte doğru olarak verilmiştir?

- A. Thomas Edison  
 B. Graham Bell  
 C. Nicola Tesla  
 D. Albert Einstein

4. Ülkemize ilk defa İbrahim Müteferrika'nın getirdiği icat aşağıdakilerden hangisidir?

- A. Daktilo  
 B. Matbaa  
 C. Projeksiyon  
 D. Fotokopi makinesi

5. Aşağıdaki ifadelerden hangisi yanlıştır?

- A. Cep telefonları mümkün olduğu kadar insanların uyuduğu ortamda bulundurulmamalıdır. ✓  
 B. Teknolojik atıklar doğada kısa sürede yok olmaz. ✓  
 C. Kullanılmış piller geri dönüşüm kutusuna atılmalıdır. ✓  
 D. Kültürü arttırmak için çok uzun süre televizyon izlenmelidir. ✗





6. İnsanların gök cisimlerini iyi tanımasına ve bu konuda bilimsel araştırma yapılmasına olanak sağlayan icat aşağıdakilerden hangisidir?







1. Aşağıdakilerden hangisi maddenin gaz haline örnektir?

- A. Kolonya
- B. Kalem
- C. Kum
- D. Su buharı

2. Aşağıdaki maddelerden hangisi içerisinde sıkıştırılmış gaz barındırır?

- A. 
- B. 
- C. 
- D. 

3. Aşağıdaki maddelerden hangisi hal değişimine uğramaz?

- A. 
- B. 
- C. 
- D. 

4. Aşağıdakilerden hangisinde farklı bir hal değişimi görülür?

- A. Oda sıcaklığında kalan buzun sıvı hale geçmesi.
- B. Sıcakta dondurmanın damlamaya başlaması *erime*
- C. Kızgın tavaya atılan tereyağının hal değişimi
- D. Kışın çatılardaki yağmur suyunun donması

5.



Yukarıdaki görsel aşağıdaki olaylardan hangisi ile açıklanır?

- A. Sıvılar, ısı alarak gaz hale geçer.
- B. Katılar, ısı alarak sıvı hale geçer.
- C. Gazlar, ısı alarak katı hale geçer.
- D. Gazlar, ısı vererek katı hale geçer.

6. Aşağıdaki ifadelerden hangisi yanlıştır?

- A. Gaz maddeler konuldukları kabın tamamına yayılırlar.
- B. Sıvıların buldukları kabın şeklini alırlar fakat sıkıştırılmazlar.
- C. Katı maddelerin belirli bir şekli vardır.
- D. Sıvılar ısı vererek gaz hale geçer.