

Akşam olmuştu. Dedem gözlüklerini taktı ve bizi yanına çağırdı:

- Gelin bakalım çocuklar. Şimdi hikaye zamanı, dedi.

Kardeşim Selim hızla yanımdan geçti. Benden daha istekliydi. Koltuğun kenarına oturdu. Ben de dedemin yanına oturdum. Dedem çok güzel hikaye okuyordu. O hikaye okurken sanki olayları biz yaşıyorduk. Dedem başladı anlatmaya:

- Kartal yukarıya doğru yükseldi. Daha sonra ceylanın üzerine doğru inişe geçti. Tam ceylanı yakalayacakken önüne bir kurbağa çıktı...

Dedem hikayeyi anlatırken kartalın hareketlerini yapıyordu. Ayrıca sesler de çıkarıyordu. Hikaye hiç bitmesin istiyorduk ama sonuna gelmişti. Hikayeyi bitirdi ve uyku vaktinin geldiğini anladık. Yarın yeni bir hikaye ile karşımıza çıkacaktı. Bunu bilmenin rahatlığıyla mışıl mışıl uyuduk.



Sorular

1) Hikayeye uygun bir başlık yazalım.

Hikaye Zamanı

2) Dedem gözlüklerini taktıktan sonra ne yaptı?

Bizi yanına çağırdı.

3) Koltuğun kenarına kim oturdu?

Kardeşi Selim oturdu.

4) Aşağıdakilerden hangisi metnin başlığı olabilir?

- A. Dedemin Hikayeleri
 B. Babamın Komik Hareketleri
 C. Dedem Uçuyor

5) Resimdeki erkek çocuğun adı nedir?

- A. Selim
 B. Selin
 C. Serdar

Dedemin Çiftliği

Güzel bir yaz sabahıydı. Elif sabahın erken saatlerinde, heyecanlı bir şekilde uyanmıştı. Babası söz vermişti, dedesinin çiftliğine gideceklerdi. Elif hem dedesini görecek hem de çiftlikteki hayvanlarla zaman geçirecekti. Kısa bir süre sonra çiftliğe vardılar. Dedesiyle zaman geçiren Elif, hızlıca çok sevdiği keçilere koştu. Keçilerle oyunlar oynadı, onlara kendi eliyle ot yedirdi. Elif'in ve keçilerin mutluluğu görülmeye değerdi.



Sorular

1) Elif, sabah nasıl uyanmıştı?

Elif sabah heyecanlı uyanmıştı.

2) Elif, neden heyecanlıydı?

Elif, dedesinin çiftliğine gideceği için heyecanlıydı.

3) Elif, çiftliğe varınca ne yapmış?

Dedesiyle ve keçilerle zaman geçirmiş.

4) Elif keçilerle nasıl zaman geçirmiş?

Oyunlar oynamış ve kendi eliyle ot yedirmiş.

5) Metnin başlığı kaç harften oluşmuştur?

A. 8 B. 12 **C. 15**

6) Görseldeki kızın elbisesi hangi renktir?

A. yeşil
B. kırmızı
 C. sarı

7) Yukarıdaki görselde aşağıdakilerden hangisi yoktur?

A. keçi ✓
 B. ot ✓
C. tavşan

✎ Aşağıdaki resmi boyamak için yönergeleri okuyalım. Okuduğumuz bu yönergelere göre resmi boyayalım. Yönergenin dışında kalan yerleri istediğimiz renge boyayalım.



YÖNERGELER

- ➔ Dinozoru kahverengiye, gözlerini yeşile boya.
- ➔ Dağları açık kahverengiye boya.
- ➔ Dinozorum önündeki taşları maviye boya.
- ➔ Dinozorum yumurtasını griye boya.
- ➔ Arkadaki ağacın gövdesi kahverengi, yaprakları yeşil olsun.
- ➔ Sol üst köşeye güneş çiz ve sarıya boya.
- ➔ Dinozorum altındaki toprak turuncu olsun.
- ➔ Dinozorum üzerindeki salıngozu kahverengiye boya.

✎ Aşağıda baş harfi ve harf sayısı verilen kelimeleri yazalım.

| | | | | | |
|---|-------------|---|-------------|---|-------------|
| 5 | B.alık..... | 5 | T.eker..... | 3 | Y.il..... |
| 3 | A.yı..... | 4 | N.ane..... | 3 | P.il..... |
| 4 | Ç.ita..... | 4 | M.ine..... | 4 | İ.lke..... |
| 4 | E.rik..... | 3 | K.il..... | 4 | U.slu..... |
| 3 | S.öz..... | 3 | Z.il..... | 5 | D.ünya..... |






✎ Aşağıdaki kelimelerin ünlü ve ünsüz harflerini ve harf sayılarını yazalım.

| Kelime | Ünlü Harfler | Ünsüz Harfler | Harf Sayısı |
|-----------|--------------|---------------|-------------|
| Kelebek | e | k,l,b,k | 7 |
| Çiçekler | i,e | ç,k,l,r | 8 |
| Salyangoz | a,o | s,l,y,n,g,z | 9 |
| Salatalık | a,l | s,l,t,k | 9 |
| Domates | o,a,e | d,m,t,s | 7 |

✎ Aşağıda verilen kelimelerin alfabemizin kaçıncı harfiyle başladığını örnekteki gibi yazalım.

| | | | | | |
|---|-------|----|--------|----|------|
| 7 | fare | 2 | balık | 15 | lale |
| 8 | geyik | 29 | zürafa | 17 | nine |
| 4 | çatal | 14 | kalp | 21 | ray |

✎ Aşağıdaki kelimelerin ünlü ve ünsüz harflerini ve harf sayılarını yazalım.

| Varlık | Adı | Hecelenişi | Hece Sayısı |
|---|------------|---------------|-------------|
|  | Kaplumbağa | Kap-lum-ba-ğa | 4 |
|  | Güneş | Gü-neş | 2 |
|  | Köstebek | Kös-te-bek | 3 |
|  | Yıldız | Yıl-dız | 2 |
|  | Karınca | Ka-rın-ca | 3 |

✎ Aşağıda verilen kelimeleri satır sonuna sığmadığında doğru ayırma yöntemini göstererek örnekteki gibi ayıralım.

benekli →

| |
|------|
| be- |
| neki |

dörtlük →

| |
|-------|
| dört- |
| lük |

salıncak →

| |
|--------|
| sa- |
| lıncak |

kaplan →

| |
|------|
| kap- |
| lan |

gazete →

| |
|------|
| ga- |
| zete |


asalet →

| |
|------|
| asa- |
| let |


✎ Arının altındaki sözcük grupları zıt anlamlıysa "1" numarayı, zıt anlamlı değilse "2" numarayı boyayalım.



kapalı - açık




büyük - iri




yaşlı - ihtiyar




doğru - yanlış




yüksek - alçak




uzak - ırak



rüya - düş



gece - gündüz



beyaz - ak

✎ Aşağıdaki görsellerin altına örnekteki gibi o görseli çağrıştıran uygun sözcükler yazalım.



uçmak



bal



sevgi



arkadaş



deniz



sevimli




alarm




ötmek

✎ Aşağıdaki görsellere uygun cümleler yazalım.




Kardeşimle köpek sahiplendik.



Bulaşık yıkayarak anneme yardım ettim.



Dişlerimizi düzenli fırçalamalıyız.



Basketbol oynamayı seviyorum.

✎ Aşağıda karışık olarak verilen sözcüklerden anlamlı ve kurallı cümleler oluşturalım.

aynasını arabanın kapıya

çarptı babam

→ Babam arabanın aynasını kapıya çarptı.

okurum yatmadan kitap

ben önce

→ Ben yatmadan önce kitap okurum.

✎ Aşağıda ifadelerden cümle olanların kutucuklarını işaretleyelim.

Dedem bana masal anlattı.

Okuyorum

Masanın altında benim

Köye gittik

Çocuklar parka

En sevdiği kazağını giymiş.


 Olayları okuş sırasına göre numaralandıralım.

- 3 Daha sonra musluğu kapattı.
- 1 Önce musluğu açtı.
- 2 Sonra elini yıkadı.

- 3 Daha sonra okumaya başladı.
- 2 Sonra sayfasını açtı.
- 1 Önce kitabını aldı.

- 1 Önce eczaneye gitti.
- 2 Sonra ilacını aldı.
- 3 Daha sonra evine döndü.

- 2 Sonra bağcıklarını bağladı.
- 3 Daha sonra dışarı çıktı.
- 1 Önce ayakkabısını giydi.

 Aşağıdaki olayları "önce - sonra - daha sonra" kavramlarını kullanarak doğru şekilde yazalım.



Kedileri çağırdı.
Kedilere yemek verdi.
Kediler yanına geldi.

Önce kedileri çağırdı.
Sonra kediler yanına geldi.
Daha sonra kedilere yemek verdi.



Sınıfa girdik.
Sıralarımıza oturduk.
İçeri giriş zili çaldı.

Önce ..içeri giriş zili çaldı..
Sonra ..sınıfa girdik..
Daha sonra ..sıralarımıza oturduk..



Babam kapıyı açtı.
Poşetleri masaya bıraktı.
Elindeki poşetlerle içeri girdi.

Önce ..babam kapıyı açtı..
Sonra ..elindeki poşetlerle içeri girdi..
Daha sonra ..poşetleri masaya bıraktı..

✎ Aşağıda yazılan isimlerden özel ad olanların başındaki şapkayı yeşile boyayalım.

| | | | |
|--|---|--|---|
|  Ankara |  Kanepe |  Sinek |  Erhan |
|  Sibel |  Karabaş |  Kalemlik |  İstanbul |
|  Hastalık |  Rüzgarlık |  Büşra |  Türkiye |
|  Murat |  Oyuncak |  Ceviz |  Adana |

✎ Aşağıdaki özel isimlere gelen ekleri doğru şekilde ayıralım.

| | |
|---------------------------------------|-----------------------------------|
| Ankaranın → Ankara'nın | Sevgiye → <i>Sevgi'ye</i> |
| Murata → <i>Murat'a</i> | Pamukun → <i>Pamuk'un</i> |
| İstanbulda → <i>İstanbul'da</i> | İsmaili → <i>İsmail'i</i> |
| Burakta → <i>Burak'ta</i> | Cerenden → <i>Ceren'den</i> |

✎ Aşağıda yazılan sözcüklerde yazım yanlışları yapılmıştır. Sözcüklerin doğru yazılışlarını yazalım.

tiren

→ tren

sarmısak

→ sarımsak

kiprit

→ kibrit

şöför

→ şoför

yalnış

→ yanlış

pilaj

→ plaj

makina

→ makine

gaste

→ gazete

yanlız

→ yalnız

porkatal

→ portakal

sovan

→ soğan

laylon

→ naylon

eşki

→ eksi

televziyon

→ televizyon

pilan

→ plan

karete

→ karate

✎ Aşağıdaki cümlelerdeki yazım yanlışlarını örnekteki gibi düzelterek cümleyi tekrar yazalım.

babam ankaraya gitti.



Babam Ankara'ya gitti.

asya yemeğe sovan koydu.



Asya yemeğe soğan koydu.

alinin odası çok dağınıktı.



Ali'nin odası çok dağınıktı.

sedanın kipriği kısaydı.



Seda'nın kipiği kısaydı.

sabunun fiyatını sordum.



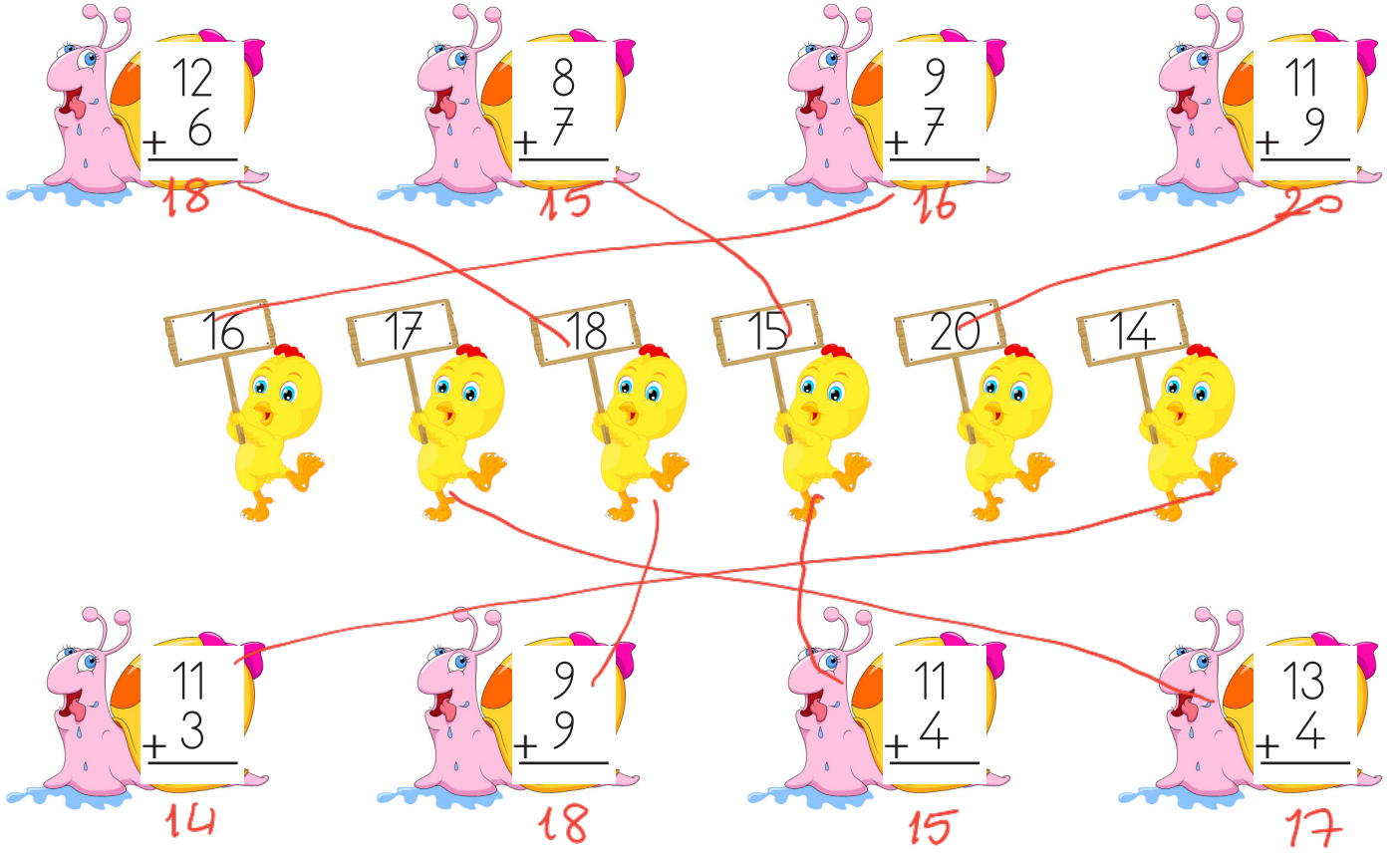
Sabunun fiyatını sordum.

adanada havalar çok sıcak.



Adana'da havalar çok sıcak.

 Aşağıdaki toplama işlemlerini yapalım. Sonuçlarını verilen sayılardan bulup eşleştirelim.



12
+ 6
—
18

8
+ 7
—
15

9
+ 7
—
16

11
+ 9
—
20

16

17

18

15

20

14

11
+ 3
—
14

9
+ 9
—
18


11
+ 4
—
15

13
+ 4
—
17


 Aşağıdaki örneği inceleyerek çıkarma işlemlerini yapalım.

| | | |
|-------------|-------------|-------------|
| 10 - 6 = 4 | 12 - 3 = 9 | 9 - 5 = 4 |
| 8 - 4 = 4 | 15 - 9 = 6 | 13 - 7 = 6 |
| 19 - 5 = 14 | 18 - 8 = 10 | 5 - 5 = 0 |
| 14 - 7 = 7 | 16 - 4 = 12 | 17 - 7 = 10 |


 Aşağıdaki toplama işlemlerine göre verilmeyen toplananları bulalım.




$$\begin{array}{r} 5 \\ + 2 \\ \hline 7 \end{array} \quad \begin{array}{r} 1 \\ + 3 \\ \hline \dots \end{array}$$




$$\begin{array}{r} 3 \\ + 5 \\ \hline 8 \end{array} \quad \begin{array}{r} 6 \\ + 6 \\ \hline 11 \dots \end{array}$$




$$\begin{array}{r} 6 \\ + 5 \\ \hline 11 \end{array} \quad \begin{array}{r} 4 \\ + 4 \\ \hline 9 \dots \end{array}$$




$$\begin{array}{r} 8 \\ + 8 \\ \hline 8 \end{array} \quad \begin{array}{r} 12 \\ + 12 \\ \hline 12 \dots \end{array}$$




$$\begin{array}{r} 7 \\ + 6 \\ \hline 13 \end{array} \quad \begin{array}{r} 4 \\ + 4 \\ \hline 10 \dots \end{array}$$




$$\begin{array}{r} 9 \\ + 6 \\ \hline 15 \end{array} \quad \begin{array}{r} 12 \\ + 12 \\ \hline 18 \dots \end{array}$$



$$\begin{array}{r} 9 \\ + 2 \\ \hline 11 \end{array} \quad \begin{array}{r} 5 \\ + 5 \\ \hline 7 \dots \end{array}$$



$$\begin{array}{r} 12 \\ + 5 \\ \hline 17 \end{array} \quad \begin{array}{r} 7 \\ + 7 \\ \hline 12 \dots \end{array}$$



$$\begin{array}{r} 4 \\ + 10 \\ \hline 14 \end{array} \quad \begin{array}{r} 12 \\ + 10 \\ \hline 22 \dots \end{array}$$

 Aşağıdaki toplama işlemlerini örnekteki gibi yapalım.

$$\begin{array}{l} 5 + 7 = 12 \\ \quad \swarrow \searrow \\ \quad 5 \quad 2 \\ 10 + 2 = 12 \end{array}$$

$$\begin{array}{l} 9 + 4 = 13 \\ \quad \swarrow \searrow \\ \quad 1 \quad 3 \\ 10 + 3 = 13 \end{array}$$

$$\begin{array}{l} 8 + 7 = 15 \\ \quad \swarrow \searrow \\ \quad 2 \quad 5 \\ 10 + 5 = 15 \end{array}$$

$$\begin{array}{l} 8 + 5 = 13 \\ \quad \swarrow \searrow \\ \quad 2 \quad 3 \\ 10 + 3 = 13 \end{array}$$

$$\begin{array}{l} 7 + 7 = 14 \\ \quad \swarrow \searrow \\ \quad 3 \quad 4 \\ 10 + 4 = 14 \end{array}$$

$$\begin{array}{l} 9 + 6 = 15 \\ \quad \swarrow \searrow \\ \quad 1 \quad 5 \\ 10 + 5 = 15 \end{array}$$

 Aşağıdaki problemleri çözelim.

1. Sude'nin kitabı 18 sayfadır. Kitabın 7 sayfasını okudu. Geriye okumadığı kaç sayfası kalmıştır?



Çözüm : 18
 $- 7$
 $\hline 11$ sayfası kaldı.

2. Akvaryuma 5 balık daha aldığımızda 11 balığımız oldu. İlk başta kaç balığımız vardı?



Çözüm : $\square \rightarrow 11$
 $+ 5$
 $\hline 11$ 6 balık vardı.

3. Aysun 7 yaşındadır. Kaç yıl sonra 15 yaşında olur?



Çözüm : 7
 $\square \rightarrow 15$
 $+ \square$
 $\hline 15$ 8

4. Bir ağaçtan 3 kuş uçunca ağaçta 9 kuş kalıyor. İlk başta ağaçta kaç kuş vardı?



Çözüm : $\square \rightarrow 9+3=12$
 $- 3$
 $\hline 9$

5. 1 onluk 7 birlikten oluşan sayının 6 eksiği kaçtır?



Çözüm : 1 onluk 7 birlik = 17
 $17 - 6 = 11$

6. Sınıfımızda 16 öğrenci vardır. 9 öğrenci kız olduğuna göre erkek öğrenci sayısı kaçtır?



Çözüm : 12 9
 Erkek ? $\rightarrow 16$
 $+ \square$
 $\hline 16$ 7

Aşağıdaki paraların toplamalarını bulup altlarına yazalım.



$5 + 1 + 1 + 1 = 8$ Lira.

$50 + 50 = 100$ kuruş
 100 kuruş = 1 Lira



$5 + 10 + 1 = 16$ Lira

100 kuruş = 1 Lira




$1 + 3 + 1 = 5$ Lira

$25 + 25 = 50$ kuruş




7 Lira 50 kuruş

Aşağıdaki bütünleri iki eş parçaya ayıralım. Noktalı yerleri örnekteki gibi dolduralım.



Bir bütün elma 2 yarım elma eder.



Bir bütün karpuz 2 yarım karpuz eder.



Bir bütün muz 2 yarım muz eder.



Bir bütün çilek, iki yarım çilek eder.




Aşağıdaki geometrik şekillerin köşe ve kenar sayılarını yazalım.



4 kenarı var.

4 köşesi var.




3 kenarı var.

3 köşesi var.

✏ Aşağıda verilen dijital saatlerin analog görünümüne uygun akrep ve yelkovanlar çizelim.



10 : 00



03 : 00



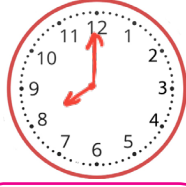
11 : 00




12 : 00



05 : 00



08 : 00



04 : 00




02 : 00

✏ Aşağıdaki görsellerden yuvarlanabilenleri işaretleyelim.



✏ Aşağıdaki görsellerden köşesi olanları işaretleyelim.



✏ Aşağıdaki örüntüleri uygun görseller çizerek tamamlayalım.



 Aşağıdaki tabloyu inceleyelim. Soruları cevaplayalım.

| Akvaryumdaki balıklar | |
|-----------------------|--------------|
| Balıklar | Balık sayısı |
| Mavi balık | 11 |
| Sarı balık | 9 |
| Mor balık | 14 |
| Yeşil balık | 5 |

1. Akvaryumda kaç mor balık var?

Akvaryumda 14 tane mor balık vardır.

2. Akvaryumda kaç yeşil balık var?

Akvaryumda 5 yeşil balık var.

3. Akvaryumdaki sarı ve yeşil balıkların toplam sayısı kaçtır?

$9 + 5 = 14$

4. Akvaryumdaki mor balık sayısı sarı balık sayısından kaç fazladır?

$14 - 9 = 5$ fazladır.

5. Akvaryumda en az ve en çok olan balıkların toplam sayısı kaçtır?

$5 + 14 = 19$



Çevremizde insanlar dışındaki canlılara da rastlarız. Bunlar bitkiler ve hayvanlardır. Hayvanların yaşadıkları yer ve beslenme şekilleri farklı olabilir. Bazı hayvanlar evcil, bazı hayvanlar vahşidir. Sebze ve meyve ise bitkisel ürünlerdir ve toprakta yetişir.



 Aşağıdaki sorulara cevap olabilecek görsellerin altındaki kutucuğu işaretleyelim.




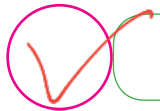
Hangisini yakın çevremizde görebiliriz.




Hangisi et ile beslenir?



 Aşağıdaki cümleleri okuyalım, doğru ifadelerin başındaki kutucuğu işaretleyelim.




Çevremizdeki bitkilere zarar vermemeliyiz.



Bütün hayvanlar et ile beslenir.



Hayvanların yaşadıkları yerler değişiklik gösterebilir.



Bazı hayvanlar insanların yaşadıkları yere daha yakındır.

1. Alfabemizde "M" harfinden önce ve sonra gelen harfler hangileridir?

A. O - R


B. L - K

C. L - N

2. Aşağıda görseldeki cisimlerin hangisinin isminin harf sayısı daha fazladır?



palyacı
7



3. Kaplumbağa sözcüğü hangi seçenekte hecelerine doğru bir şekilde ayrılmıştır?

A. Kap - lum -bağ -a

B. Kap - lum -ba -ğa

C. Kap - lum -bağa

4. Aşağıdaki sözcüklerden hangisi satır sonuna sığmadığında yanlış yazılmıştır?

A.ki-
taplık ✓

B.öğr-
etmen x öğretmen

C.ders-
lik ✓


5. Aşağıdaki cümlelerin hangisinin sonuna soru işareti konulmalıdır?

A. Kumandayı uzatır mısın?

B. Okula servisle gittim .

C. Akşam yemeğini çok beğendim .

6. Aşağıdaki görsellerin isimleri alfabetik sıraya konulursa, hangisi son sırada yer alır?




1. Aşağıdaki işlemlerden hangisinin sonucu farklıdır?

A.
$$\begin{array}{r} 12 \\ + 6 \\ \hline 18 \end{array}$$

B.
$$\begin{array}{r} 9 \\ + 9 \\ \hline 18 \end{array}$$

C.
$$\begin{array}{r} 8 \\ + 7 \\ \hline 15 \end{array}$$

2.



3 lira ile yukarıdaki açaaktan kaç tane alabiliriz?

A. 8 B. 7 C. 6

2 tane $\rightarrow 50 + 50 = 100$ kurşun
1 lira
3 kat \downarrow 2 tane 1 lira \downarrow 3 kat
? 3 lira \downarrow 3 kat
 $2 \times 3 = 6$

3.

$\bullet + 7 = 13$

Yukarıdaki toplama işleminde \bullet yerine hangi sayı gelmelidir?

A. 6 B. 5
C. 4

| Torbadaki Boncuklar | |
|---------------------|---------------|
| Boncuk | Boncuk sayısı |
| Kırmızı | 5 |
| Sarı | 7 |
| Yeşil | 11 |

4 ve 5. soruları verilen tabloya göre cevaplayalım.

4. Torbadaki kırmızı boncuklarla sarı boncukların toplamı kaçtır?

A. 12 B. 18 C. 16

5. Torbadaki kırmızı boncuklarla yeşil boncukların farkı kaçtır?

A. 4 B. 5 C. 6

$11 - 5 = 6$

6. Bahçede 1 civciv, 1 tavuk, 1 inek vardır. Bahçedeki hayvanların ayak sayıları toplamı kaçtır?

A. 10

B. 8

C. 12

$$\begin{array}{r} 2 \\ 2 \\ + 4 \\ \hline 8 \end{array}$$

1. Aşağıdaki eşleştirmelerden hangisi yanlıştır?

A. İnek - ahır

B. Keçi - ağıl

C. Kuş - kulu ~~be~~
kafes

2. Aşağıdaki bayramlardan hangisinde aile büyüklerimizin elini öperiz?

A. Ramazan Bayramı

B. Çocuk Bayramı

C. Zafer Bayramı

3. Aşağıdakilerden hangisi evcil bir hayvan değildir?



4.  Gül

 Meşe → ağacı

 Lale

Yukarıdaki sembollerle ifade edilenlerden hangileri çiçek isimleridir?

A.  

B.  

C.  

5. İnsanların ve hayvanların birbirine bağlıdır. Yukarıdaki ifadede boş bırakılan yere hangisi yazılmalıdır?

A. yaşamları

B. bitkilere

C. oyunları