







11.  Uzunluğu 3 cm olan silgim ile defterimi 8 defada ölçtüm.

Ali, aynı defteri uzunluğu 6 cm olan kalem ile kaç defada ölçer?


 Çözüm:

13. 08.50 ile 13.50 arası hafta içi her gün okula giden Ayça haftada kaç saatini okulda geçirmiş olur?


 Çözüm:

sonerhoca.net


12. Hasan günde 8 lira, kardeşi günde 5 lira harçlık almaktadır. Buna göre 1 haftanın sonunda Hasan'ın kardeşinden kaç lira fazla parası

 Çözüm:

14. 4 kaşık çay ile bir bardağın yarısı dolduğuna göre 3 bardak kaç kaşık ile dolar?

 Çözüm:

15. 4 kilogramı 32 lira olan elmanın yarım kilogramı kaç liradır?

 Çözüm: