




6.



Ayça, kalemlerin sayısını 20 olarak tahmin ediyor. Ayça, sarı kalemlerin sayısını doğru tahmin etmiştir. Buna göre Ayça'nın siyah kalemler için yaptığı tahmin, siyah kalemlerin gerçek değerinden kaç eksiktir?



Çözüm:


7. 2 deste silgim vardı. 9 tanesini kullandım. Geriye kaç silgim kaldı?



Çözüm:


8. 3 onluk ve 2 birlikten oluşan sayı 2 desteden kaç fazladır?



Çözüm:


9.



Yukarıdaki rakamlar kullanılarak oluşturulabilecek iki basamaklı en küçük sayı 2 desteden kaç fazladır?




Çözüm:


10. 2 deste toka, iki basamaklı en küçük sayıdan kaç fazladır?




Çözüm:



11.




Yukarıdaki akvaryumdaki balıkların arasına bir düzine kadar balık koyulup 5 tanesi çıkarılıyor. Son durumda akvaryumda kaç balık kalmıştır?

 Çözüm:



12.



Yukarıda verilen yıldızlardan her biri bir onluğu, karelerin ise bir birliği ifade etmektedir. 3 yıldızı, 10 karesi bulunan Emre'nin elde ettiği sayı 2 desteden kaç fazladır?

 Çözüm:



13. 5 destedeki birlik sayısı ile 70 sayısındaki onluk sayısının toplamı kaçtır?

 Çözüm:


14.

34

Verilen sayıya 4 birlik ekleyip 2 onluk çıkardığımızda hangi sayıyı elde ederiz?

 Çözüm:


15. 


R	34
---	----

R	28
---	----

R	43
---	----

  
İstanbul      Giresun      Kütahya

Bir tır önce plaka numarasının birler basamağındaki rakamın 4 olduğu şehre ardından Giresun'a gitmiştir. Buna göre en son gideceği şehrin plaka numarası 3 desteden kaç fazladır?

 Çözüm:
