

6.



Yukarıdaki köpek kemiklerin bir kısmını yediğinde bir deste kemiği kaldığını görüyor. Buna göre köpek kaç kemik yemiştir?



Çözüm:

7.



18 kalem 1 desteden fazladır.



19 top bir düzine toptan fazladır.

Çocukların ifadesinde boş bırakılan yerlere gelmesi gereken sayıların toplamı kaçtır?



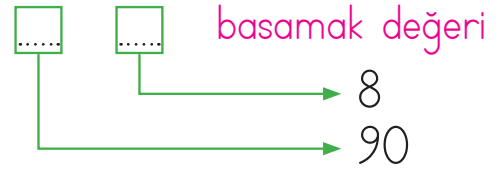
Çözüm:

8. En küçük iki basamaklı sayı iki desteden kaç eksiktir?



Çözüm:

9.



Yukarıdaki noktalı yerlere yazılması gereken sayıların toplamı kaçtır?



Çözüm:

10.



Emre

Aklımdan tuttuğum sayının onlar basamağı, birler basamağından iki fazladır.

Emre'nin aklımdan tutabileceği en küçük sayı bir düzineden kaç fazladır?

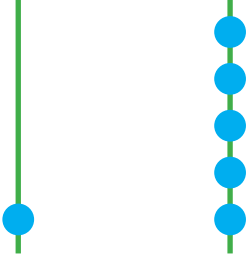


Çözüm:

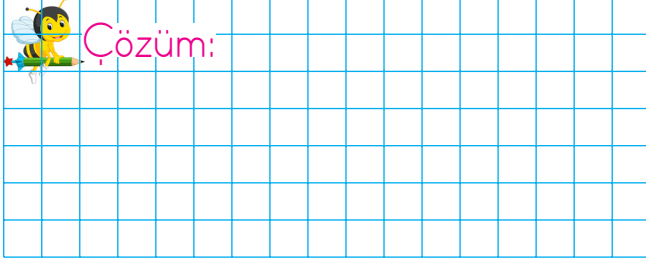
11.

onluk

birlik




Abaküsteki birlik kısımdan iki boncuk alınıp birler kısmına koyuluyor. Son durumda boncukların ifade ettiği sayı üç desteden kaç fazladır?




12.




Kaplumbağa ile tavşan birbirine doğru hareket ettiklerinde kırmızı noktada buluşmuştur. Kaplumbağanın gittiği nokta sayısı birler basamağının sayı değerini, tavşanın gittiği nokta sayısı onlar basamağının sayı değerini ifade etmektedir. Buna göre oluşan sayı kaçtır?




13. 67 sayısındaki birlik sayısı ile 78 sayısındaki birlik sayısının toplamı bir desteden kaç fazladır?



14. 46 sayısının onlar basamağındaki rakamının sayı değeri ile birler basamağındaki rakamının basamak değeri toplamı kaçtır?



15.



Çocuklar isimlerindeki hece sayısı kadar ağaçtan elma toplamıştır. Buna göre ağaçta kalan elma sayısı 1 düzineden kaç eksiktir?

