

1.

Mamutlar, filgiller ailesinin nesli tükenmiş bir cinsidir. Uzun kuyruklu dişlere sahip olan mamutlar oldukça büyüktür. 8 ton ağırlığa kadar ulaşabilirler. Boyları ise 4 metreye kadar ulaşabilir. Son üyeleri yaklaşık dört bin yıl önce yaşamıştır.

Yukarıdaki metne göre hangisi söylenebilir?

- A. Dört bin yaşında ölürler. —  
 B. Kıvrık dişleri vardır. ✓  
 C. Hepsi 8 tondur. —

2. ■ ile ★ eş anlamlıdır.  
 ■ ile ● zıt anlamlıdır.

Yukarıda verilen ifadeye göre hangisi doğrudur?

- A. ■ kapalı  
 ★ açık  
 ● aralıklı
- B. ■ ihtiyar  
 ★ yaşlı  
 ● genç } eş zıt
- C. ■ kara  
 ★ beyaz  
 ● siyah

3. Aşağıdaki cümlelerden hangisinde ses-teş sözcük vardır?

- A. Bahçedeki at koşuyordu. *atmak ve hayvan olan at (ses-teş)*  
 B. Ağaçtaki elmalar çürümüş.  
 C. Bilgisayarının kablosu arızalanmış.

4.



Çınar yeni ayakkabı almıştı. Ayakkabılarını nasıl bağlayacağını bilmiyordu. Her okula gidişinde annesi ayakkabılarını bağlardı. O yüzden de ayakkabı bağlamayı hiç öğrenememişti. Okulda olduğu bir gün oyun oynarken ayakkabısının bağı çözüldü. Fakat yanında ayakkabısını bağlamasına yardımcı olan annesi yoktu. Ayakkabısını bu yüzden bağlayamadı.

Yukarıdaki metnin ana fikri hangisi olabilir?

- A. Zor işleri halletmenin kolay yolu o işi bir başkasına yaptırmaktır.  
 B. Karşılaştığımız sorunun zorluğu karşısında vazgeçmeliyiz.  
 C. Bir işi bizim yerimize başkası yaparsa o işi öğrenemeyiz ve sorunumuza çözüm bulmakta zorlanabiliriz.

Babam taze salatalık aldı.

5. 1 babam 2 aldı 3 salatalık 4 taze

Yukarıdaki sözcüklerden anlamlı ve kurallı bir cümle oluşturmak istersek hangi sözcüklerin yerini değiştirmemiz gerekir?

- A. 1-3 B. 2-4 C. 1-2

6.



Kazandığın paradan daha fazlasını harcarsan sıkıntıya düşersin. Dolayısıyla harcamalarını gelirine uygun yapmalısın.

Didem Hanım'ın söyledikleri aşağıdaki atasözlerinden hangisiyle özetlenebilir?

- A. Bir elin nesi var, iki elin sesi var.  
 B. Sakla samanı gelir zamanı.  
 C. Ayağını yorganına göre uzat.

Kim \_\_\_\_\_ Neden \_\_\_\_\_

7. Ahmet, tartışmayı sevmediği için insanlarla ters düşmez. Yukarıdaki cümlede hangi sorunun cevabı yoktur?

- A. Niçin? ✓  
 B. Kim? ✓  
 C. Ne zaman? —

sonerhoca.net

8.



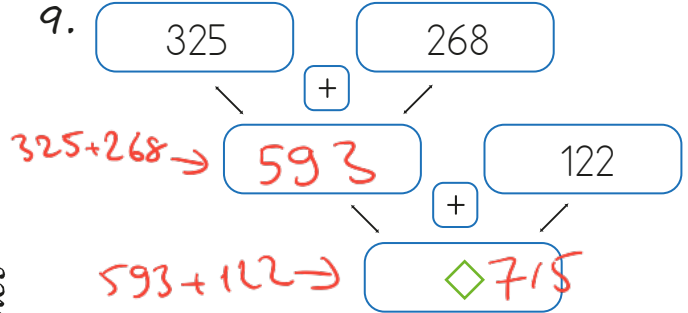
(298, 299)

297 ile 300 sayıları arasındaki sayıları en yakın yüzlüğe yuvarlayıp topladım.

Öykü'nün bulduğu sonuç kaçtır?

- A. 600 B. 597 C. 700
- 298 → 300  
 299 → 300 } 600

9.



Yukarıda verilen şemada  $\diamond$  sembolünün yerine yazılacak sayı aşağıdakilerden hangisinde doğru verilmiştir?

- A. 705 B. 722 C. 715

10. Bir kafede standart ücretler yanda yazmaktadır. Kafede müşterinin bu ürünleri isteme şekline göre fiyatlar artıp azalmaktadır. Bu ifadeler aşağıdaki gibidir.

- Getir: 5 lira daha pahalı  
 Getir misiniz: Standart ücret  
 Lütfen getir misiniz: 2 lira daha ucuz  
 Size zahmet olmazsa getir misiniz: 4 lira daha ucuz

Çay: 10 lira
Süt: 18 lira
Kahve: 25 lira

$$\begin{array}{r} 21 \\ 16 \\ +15 \\ \hline 52 \end{array}$$

Kafeye gelen bir grup müşteri aşağıdaki ifadelerini kullanmışlardır.

- Ahmet: Bir <sup>10</sup>çay getir.  $10 + 5 = 15$   
 Mehmet: Size zahmet olmazsa bir <sup>25</sup>kahve getir misiniz?  $25 - 4 = 21$   
 İnci: Lütfen bir <sup>18</sup>süt getir misiniz?  $18 - 2 = 16$

Buna göre bu grup ne kadar hesap ödemiştir?

- A. 53 B. 52 C. 50

11. " $K < 212 + 589$ " ifadesinin doğru olması için "K" yerine yazılabilecek en büyük doğal sayı kaçtır?

A. 800 B. 801 C. 802

En fazla 800 yazılabilir

12.

⊖	125	136	188
417		$\begin{array}{r} 417 \\ -136 \\ \hline 281 \end{array}$	
528	$\begin{array}{r} 528 \\ -125 \\ \hline 403 \end{array}$		$\begin{array}{r} 528 \\ -188 \\ \hline 340 \end{array}$

Yukarıdaki tabloda sembolle gösterilen sayılar kaçtır?

A. ★ → 403 ▲ → 282 ■ → 340

B. ★ → 402 ▲ → 281 ■ → 350

C. ★ → 403 ▲ → 281 ■ → 340

13.

$\begin{array}{r} 364 \\ +497 \\ \hline ABC \\ 861 \end{array}$	$\begin{array}{r} 618 \\ -CAB \\ \hline CAB \\ 632 \end{array}$
---	---

Toplama ve çıkarma işlemlerindeki her harf, bir rakamı göstermektedir. Buna göre çıkarma işleminin sonucu kaçtır?

A. 484 B. 368 C. 432

14. Küçüğü 264 olan ardışık iki sayının tahmini toplamı kaçtır?

A. 530 B. 524 C. 520

$\begin{array}{r} 264 \rightarrow 260 \\ 265 \rightarrow 270 \\ \hline 530 \end{array}$

15. Aşağıdaki varlıklardan hangisi herhangi bir etki olmadan tek başına hareket edebilir?



A. Canlı

B.



Cansız

C.



Cansız

16. Sallanan hareket → ■

Dönen hareket → ★

Hızlanan hareket → ●

Yukarıdaki hareket türleri sembollerle gösterilmiştir. Aşağıdaki örnek sembollerle eşleştirilirse hangi eşleşme doğru olur?

A. Vantilatör → ■ Dönen hareket

B. Salıncak → ★ Sallanan hareket

C. Düşen taş → ● Hızlanan hareket

17. Bir varlık zamanla hızını azaltıyorsa yavaşlama hareketi yapıyor demektir.

Yukarıdaki boşluğa hangisi gelir?

A. Hızlanma

B. Yavaşlama

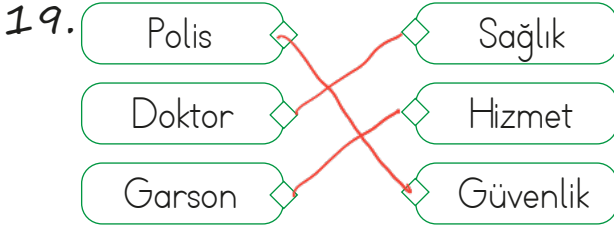
C. Dönme

18. Aşağıdakilerden hangisi insanlar arasında seviliş sayılan birinin özelliklerinden değildir?

A. Yardımsever

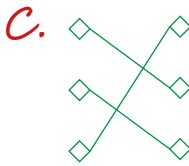
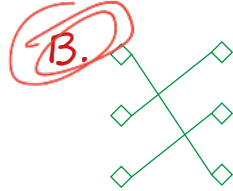
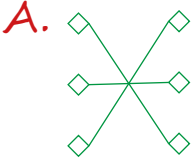
B. Saygılı

**C. Kindar**



Yukarıdaki meslekler hizmet alanları ile eşleştirilecektir.

Buna göre eşleşme sonrası görünüm nasıl olur?



20. Aşağıdakilerden hangisi arkadaşlık ilişkilerinde dürüst davranan bireylere aittir?

**A.** Arkadaşları tarafından sevilir. ✓

B. Arkadaşlık ilişkileri zarar görür. —

C. Kendilerine olan güvenleri zedelenir. —

ADI: .....

SOYADI: .....

SINIFI: .....

PUANI: .....

1	A	B	C
2	A	B	C
3	A	B	C
4	A	B	C
5	A	B	C
6	A	B	C
7	A	B	C
8	A	B	C
9	A	B	C
10	A	B	C
11	A	B	C
12	A	B	C
13	A	B	C
14	A	B	C
15	A	B	C
16	A	B	C
17	A	B	C
18	A	B	C
19	A	B	C
20	A	B	C