

Şakacı Fildir

Ahırdaki inekler, Fildir'in şakalarından bıkmıştı. Tüm şakaları sadece kendisine komik geliyordu. Diğer inekler bu durumdan şikayetçiydi. Aralarında toplanıp Fildir'a bir ders vermeye karar verdiler. Fildir'in yaptığı şakalardan birini ona yaptılar. Fildir bu durum karşısında ne yapacağını şaşırıldı. Şaka ona yapılmıca hiç de komik olmamıştı. Empati kurunca anladı ki kendine yapılmasını istemediği şeyi başkasına yapmamalıydı.

1 ve 2. soruları metne göre cevaplayalım.




1. Fildir'in şakaları kime komik geliyordu?

- A. Tüm hayvanlara
- B. Sahibine
- C. Kendisine

2. İnekler aralarında toplanıp ne yapmaya karar verdiler?

- A. Fildir'a ders vermeye
- B. Fildir'ı ahırdan atmaya
- C. Fildir'ı dövmeye

3. Aşağıda satır sonuna sığmayan kelimeler verilmiştir. Hangisinin ayrımı yanlıştır?

- A.  ara-
ba
- B.  kel-
ime
- C.  du-
man

4.

(A) Sınav

(Y) Okul

(D) Mevsim

(A) Güneş

Yukarıdaki sözcükler sözlük sırasına göre dizildiğinde hangi sözcük elde edilir?

- A. ADYA
- B. AYDA
- C. ADAY

5.

Filmin konusunu iyice kavradım.

Yukarıdaki cümlede altılı çizili sözcükle anlatılmak istenen aşağıdakilerden hangisidir?

- A. Beğenmek
- B. Anlamak
- C. Etkilenmek

6.



Öyle yoruldu
sabah uyanamadım.

Yukarıdaki cümle aşağıdakilerden hangisiyle tamamlanabilir?

A. ya da B. gibi C. ki

7.

Taze
Yeni
Katı

Yukarıdaki sözcüklerin zıt anlamlı-
ları yazıldığında oluşan sözcükle-
rin ilk harfleri ile oluşan sözcük
hangisidir?

A. BEN B. BEY C. BES

8.



- | | |
|---------|----------|
| ① görev | ④ harf |
| ② ikaz | ⑤ uyarı |
| ③ ses | ⑥ vazife |

Kurbağa sırasıyla birbiri eş anlamlı
sözcüklerin yazılı olduğu yaprakla-
ra sıçrayacaktır. Buna göre doğru
sıralama nasıl olur?

- A. 1-6, 2-4, 3-5
B. 1-6, 2-5, 3-4
C. 1-6, 3-5, 2-4

9. SORUYA GEL



Eller çok olunca yük hafifleşir.



Komşu komşunun külüne muhtaçtır.



Yaptığımız yardımı hemen unu-
talım.



Yardım küçük de olsa değerlidir,
sakın geç kalma.

Alper Öğretmen öğrencilerine yar-
dımlaşma konulu atasözü, slogan
ya da özgün cümleleri yazacakları
bir ödev vermiştir. Öğrencilerin ha-
zırladığı ödevleri aşağıdaki şekildeki
sıra ile panoya asmıştır ;

“Büyük” sözcüğünün zıt anlamlısı
olan cümleyi ilk sıraya,

Çoğul anlamı olan cümleyi ikinci
sıraya,

Atasözü olan cümleyi üçüncü sıra-
ya,

“Hatırlamak” sözcüğünün zıt an-
lamlısı olan cümleyi son sıraya

Buna göre cümlelere ait öğrencilerin
dizilimi hangi seçenekte verilmiştir?

A.



B.



C.



10. Hangi cümlenin sonuna soru işareti
konulmalıdır?

A.

Defterim evde kaldı

B.

Hangi çiçeği seversin

C.

Bir bardak su istiyorum

11. Bugünün işini yarına
Öfkeyle kalkan zararlar
Damlaya damlaya göl




Yukarıdaki atasözlerinde boş bırakılan yerlere gelmesi gereken sözcükler hangi seçenekte verilmiştir?

- A. olur B. bırakma C. bırakma
oturur oturur olur
bırakma olur oturur

12.



Yukarıdaki şekillerin içine varlıkların şeklini, durumunu, rengini belirten sözcükler yazılmıştır. Buna göre "ekmek" sözcüğü hangi şeklin içine yazılırsa ekmeğin şekli hakkında bilgi verir?

- A.  B.  C. 

13. Aşağıdakilerden hangisinde kesme işareti yanlış kullanılmıştır?

- A. Bursa'lı B. İzmir'de
C. Ayça'nın

14.



Adem

Kaleminide getir.



İpek

Köpeğim karabaş misafirleri görünce huylandı.



Nedim

Odama temizledim, oyuncaklarımı da topladım.

Yukarıda isimleri verilen çocuklardan hangisinin ifadesinde yazım yanlışı yoktur?

- A. Nedim
B. Adem
C. İpek

15.

Virgül (,)	3
Soru işareti (?)	1
Kesme işareti (')	1

Aşağıdaki cümlelerin hangisinde tabloda belirtilen sayıda noktalama işareti kullanılmıştır?

- A. Ayça Ahmet Ali okula mı gitmişler
B. Peynir yumurta zeytin domates ve salatalık Aslının mı
C. Türkçe matematik ve müzik Ömerin sevdiği dersler mi

1.




Yukarıdaki rakamlar kullanılarak oluşturulan sayılarla ilgili verilen bilgilerden hangisi yanlıştır?

- A. Bu rakamlarla bir düzineyi ifade eden sayı yazılabilir.
- B. Oluşan en büyük sayı 4 onluk 1 birlikten oluşur.
- C. 2 onluk 1 birlikten oluşan sayı yazılabilir.

2. 5 onluk 4 birlikten oluşan sayı ile iki basamaklı en küçük sayının toplamı kaçtır?

- A. 64
- B. 54
- C. 56

3.



Yukarıdaki çocuklar ellerinde tuttukları sayıların toplamını tahmin edip sonuçları ile karşılaştıracaktır. Buna göre hangi çocuğun yaptığı tahmin ile gerçek sonuç arasında fark en azdır?

- A. Suna
- B. Suat
- C. Berk

4.

65'ten başlayarak geriye doğru beşer ritmik sayarken söylenen altıncı sayıdır.

4'ten başlayarak ileriye doğru üçer ritmik sayarken söylenen yedinci sayıdır.

Yukarıdaki bilgilere göre aşağıdakilerden hangisi yanlıştır?

- A. ■ sayısı 4 onluktan oluşmak tadır.
- B. ▲ sayısının birler ve onlar basamağındaki rakam aynıdır.
- C. ■ sayısı ▲ sayısından 20 fazladır.

5.



$$\begin{array}{r} 28 \quad 53 \\ +25 \quad -18 \\ \hline \end{array}$$

Yukarıda verilen işlemleri yapalım. Toplama ve çıkarma terimleri arasındaki ilişkiye göre yanlışı işaretleyelim.

- A. Toplam ile eksilen sayı birbirine eşittir.
- B. Toplananlardan biri farka eşittir.
- C. Toplam, çıkan sayıdan 35 fazladır.

6.
$$\begin{array}{r} 42 \\ + \text{■} \text{■} \\ \hline 77 \end{array}$$

$$\begin{array}{r} 51 \\ + \text{●} \\ \hline 60 \end{array}$$

$$\begin{array}{r} \text{■} \text{■} \\ + \text{●} \\ \hline ? \end{array}$$

Yukarıdaki toplama işlemlerine göre "?" yerine hangi sayı gelmelidir?

- A.24 B.34 C.44

7.



Ali Bey ineğinden her gün 12 litre süt sağmaktadır. Ali Bey 9 litresini satıp geriye kalanını ailesiyle tükettiğine göre 5 günde sattığı süt miktarı ailesiyle tükettiği süt miktarından kaç fazladır?

- A.30 B.35 C.40

8. Bir bölme işleminde bölen 6, bölüm 3 ise bölünen kaçtır?

- A.12 B.15 C.18

9. SORUYA GEL



A	9	÷	4
B	24	×	3
C	1	÷	8

A ↘ ↘ ↗ B ↘ ↗ ↖ C ↗ ↗ →

Robot yukarıda yönergelere göre hareket edecek olup ikinci adımda belirtilen sembole göre işlem yapacaktır.

Buna göre robotun elde ettiği sonuçların büyükten küçüğe doğru sıralanışı hangi seçenekte verilmiştir?

- A. A, B, C B. B, A, C
C. C, B, A

10.

÷	4	3	2
21		🍈	
16			🍋
4	🍓		

Yukarıdaki tabloda verilen işleme göre 🍓 + 🍈 + 🍋 işleminin sonucu kaçtır?

- A.12 B.16 C.20

11.

×	7	8
3	21	■
4	▲	●

Yukarıda verilen çarpım tablosuna göre ■ + ● + ▲ işleminin sonucu kaçtır?

- A.82 B.74 C.84

14.

$$\begin{array}{r} 25 \\ \div 5 \\ = \end{array} \quad \begin{array}{r} 24 \\ \div \\ = \end{array}$$

$$20 \div \text{●} = \text{●} = \text{●}$$

Şemada verilen bölme işlemlerine göre dairenlerin içine gelmesi gereken sayıların toplamı hangi seçenekte verilmiştir?

- A.15 B.10 C.20

12.

$$\text{●} \times 5 = 5 \quad \text{▲} \times 8 = 0$$

$$\text{■} \times 1 = 3$$

Yukarıda sembollerle belirtilen yerlere hangisi gelemez?

- A.0 B.5 C.1

13.

21 3 —	16 2 —	18 3 —
-------------	-------------	-------------

Yukarıdaki bölme işlemlerinden hangisinin bölümü diğerlerinden küçüktür?

- A. ○ B. ○ C. □

15.

Aşağıdaki sayılardan hangisi, rakamları toplamına bölünürse bölüm 4 olur?

- A.12 B.15 C.20

1. Seçeneklerde verilen ifadelerden hangisi yanlıştır?

- A. İstiklal Marşı'mızı Mehmet Akif Ersoy yazmıştır.
- B. İstiklal Marşı'mız 10 kıtadan oluşmaktadır.
- C. Bayrak törenlerinde İstiklal Marşı'mızın tamamını okuruz.

2. Aşağıdakilerden hangisi dini bayramlarımızdan birisidir?

- A. Ramazan Bayramı
- B. Zafer Bayramı
- C. Cumhuriyet Bayramı

3. Aşağıda verilen durumlardan hangisinde 112 Acil Durum Merkezi aranmaz?

- A. Oturduğumuz bölgede bir yangın çıktığında
- B. Trafikte bir kaza olduğunda
- C. Sevdiğimiz bir oyuncuğımız kaybolduğunda

4.



Bağımsız ülkelerin bağımsızlık sembolleri vardır. Bunlara örnek verecek olursak

Efe'nin ifadesine göre boş bırakılan yere verilenlerden hangisi yazılmaz?

- A. Marş
- B. Bayrak
- C. Okul

5.



Nemrut Dağı



Kız Kalesi



Abant Gölü

Numaralandırılarak verilenlerden hangisi ülkemizde bulunan doğal güzelliklerdendir?

- A. 1 ve 2
- B. 2 ve 3
- C. 1 ve 3

6. Aşağıda verilen milli bayramlarımızdan hangisini ilkbahar mevsiminde kutlarız?

- A. Cumhuriyet Bayramı
- B. Zafer Bayramı
- C. Ulusal Egemenlik ve Çocuk Bayramı

7. Hava olayları ve mevsimlerle ilgili aşağıda verilen ifadelerden hangisi yanlıştır?

- A. Hava olaylarındaki değişiklikler, insanların günlük yaşamlarını ve giyim tercihlerini hiçbir şekilde etkilemez.
- B. İlkbahar mevsiminde havaların ısınmasıyla birlikte doğa canlanır ve çiçekler açmaya başlar.
- C. Kış mevsiminde hava sıcaklıkları düştüğü için daha kalın ve yünlü kıyafetler tercih ederiz.

8.



Yukarıdaki yöneticilerden kaç tanesi seçimle iş başına gelir?

- A. 1
- B. 2
- C. 3

9.

Mustafa Kemal 1881 yılında Selanik'te doğmuştur. Annesinin adı Zübeyde Hanım, babasının adı Ali Rıza Efendi'dir. Kardeşinin adı ise Makbule Hanım'dır. Mustafa Kemal Atatürk'ün ilk başladığı okul Şemsi Efendi İlkokuludur.

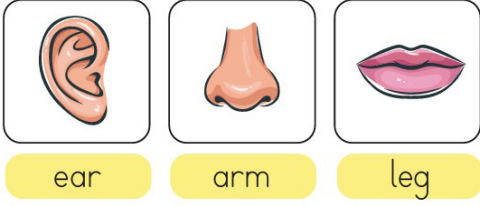
Yukarıda verilen bilgilerle ilgili seçeneklerde verilenlerden hangisi doğrudur?

- A. Mustafa Kemal Atatürk'ün doğduğu yer yanlış verilmiştir.
- B. Mustafa Kemal Atatürk'ün ilk gittiği okul bilgisi yanlıştır.
- C. Mustafa Kemal Atatürk'ün kız kardeşinin adı yanlış verilmiştir.

10. Aşağıdaki ifadelerden hangisi doğrudur?

- A. Karlı havalarda dışarı çıkarken ince ve kısa kollu kıyafetler giymeliyiz.
- B. Yağmurlu havalarda ıslanmamak için şemsiye veya yağmurluk kullanırız.
- C. Güneşli ve çok sıcak günlerde kalın, yünlü kazaklar giymek sağlığımız için iyidir.

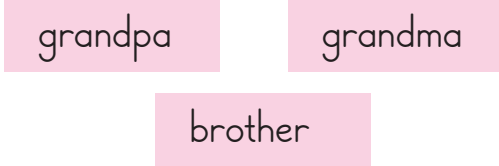
1.



Yukarıdaki görsellerden hangisinin İngilizce karşılığı doğru olarak verilmiştir?

- A. ear B. head C. mouth

2.



Aşağıda verilenlerden hangisi yukarıdaki kelimelerden birinin Türkçe karşılığı değildir?

- A. dede
B. erkek kardeş
C. anne

3.



How many pens are there?

- A. seven B. six
C. five

4.



Yukarıdaki İngilizce kelimelerle Türkçe karşılıkları eşleştirildiği zaman hangi kelime dışarıda kalır?

- A. sister B. aunt C. uncle

5.



bed



fridge



chair

Yukarıdaki kelimelerin altına İngilizce karşılıkları yazılmak istenmiştir. Yazılan tüm kelimelerin doğru olabilmesi için hangi iki kelime yer değiştirmelidir?

- A. bed – fridge
B. bed – chair
C. fridge – chair