

.....

 Yavaşça eğildi ve avucuna su alıp yüzünü yıkadı. Asya, çok rahatlamıştı. Daha sonra yaprakları gür bir ağacın gölgesine uzandı. Hem serinlik hem de çimenin kokusu Asya'yı mayıştırmıştı. Gözlerini kapatıp rüzgarın yüzüne vurmasını hissetti. Tam uykuya dalacakken kardeşinin sesi kulaklarını çınlattı. Sahilde oyun oynamak istiyordu. Ağacın dibinden kalkıp sahile doğru yürüdü.

İlk 2 soruyu metne göre cevaplayalım.

1. Paragraftaki boşluğa aşağıdakilerden hangisi gelebilir?

- A. Çok yorulduğu için evin çatısında sandalyeye oturdu.
- B. Deniz kenarına varmıştı.
- C. Çölde bindiği devenin sırtından indi.

2. Paragrafa göre aşağıdakilerden hangisi söylenemez?

- A. Yaprakları gür bir ağacın gölgesine uzandı.
- B. Asya avucuna su alıp yüzünü yıkadı.
- C. Kardeşi ormanda oyun oynamak istiyordu.

3.

El ele vermeyince taş yerinden oynamaz.

Yukarıdaki atasözünü hangi konu ile ilgilidir?

- A. Sağlık
- B. Tasarruf
- C. Yardımlaşma

4.



Arda

Sağlık



Tayfun

Tabip



Ekin

Hekim

Yukarıdaki öğrencilerden hangileri doktor sözcüğünün eş anlamlısını doğru söylemiştir?

- A. Arda - Ekin
- B. Ekin - Tayfun
- C. Arda - Tayfun

5.

ne güzel dağların var,
 Berrak akan suların var.
 Kalbimde eşsiz yerin var.
 Canım ülkem türkiyem.

Bu şiirin kaçınıcı dizelerinden büyük harflerin kullanılmasıyla ilgili yanlışlık yapılmıştır?

- A. 1 ve 2
- B. 2 ve 3
- C. 1 ve 4

6. Bulaşık makinesi bir yı-
kamada ortalama 12 litre
su tüketmektedir.
Buna göre bulaşık maki-
nesi haftada 1 sefer kullanıldığında
1 yılda kaç litre su tüketir?



A. 576 B. 624 C. 680

7. 3 kg portakaldan 1 L
portakal suyu elde
edilmektedir.
Buna göre 12 kg porta-
kaldan yandaki gibi ya-
rım litrelik kaplara doldurulmuş kaç
adet portakal suyu elde edilir?



A. 4 B. 6 C. 8

8. Ersin, ürettiği 10 litre zeytinya-
ğını yarım litrelik şişelere doldurarak
tanmesini 24 liradan satışa sundu.
Ersin, şişelerin tamamını satınca
kaç lira kazanır?

A. 240 B. 360 C. 480

9

KOYUN

İki buçuk
litre

İNEK

On altı
litre

KEÇİ

Bir buçuk
litre

Yukarıda bazı çiftlik hayvanlarının ver-
diği günlük süt miktarı verilmiştir.
Asya Hanım, çiftliğinde bulunan 4 keçi,
2 koyun ve 3 ineği her gün sağıp
sütlerini satıyor.
Buna göre Asya Hanım'ın iki haftada
sattığı süt miktarı kaç litredir?

A. 826 B. 800 C. 721

10. Yandaki damacanada
12 L su vardır. Su-
yun 9 L'si içildikten
sonra geri kalanı çeyrek
litrelik şişelere dolduruluyor.
Bu iş için kaç şişe kullanılmıştır?

12 L



A. 21 B. 18 C. 12

11.

Yanda içinde eşit miktarda limo-
nata bulunan iki sürahi, eşit
büyüklükte kupalar ve eşit bü-
yüklükte fincanlar bulunuyor.



Şekil 1



Şekil 2


Şekil 1'de sürahideki limonata, 3 kupa ve 2 fincanı tamamen dolduruyor. Şekil
1'de sürahideki limonata, 1 kupa ve 6 fincanı tamamen dolduruyor.

Buna göre 5 kupa ile kaç boş fincan doldurulabilir?

A. 5 B. 10 C. 15

12. 6 kilogram nardan 1 litre nar suyu elde ediliyor.
Buna göre, 10 litre nar suyu elde edebilmek için kaç kilogram nar gerekir?
- A. 60 B. 42 C. 16

13.



Yukarıda verilen eşit bölümlere ayrılmış kap tam dolu iken 63 L sıvı aldığına göre kabın içinde kaç litre sıvı vardır?

- A. 45 B. 36 C. 27


14. Aşağıdaki ifadelerden hangisi doğrudur?

- A. 5 çeyrek litre, 1 litreden azdır.
B. 8 yarım litre, 4 litreye eşittir.
C. 10 yarım litre, 5 litreden fazladır.

15. Uçak ile ilgili aşağıdakilerden hangisi doğrudur?

- A. Enerji kaynağı aküdür.
B. Enerji kaynağı bataryadır.
C. Enerji kaynağı şehir elektriğidir.

16.



Yukarıdaki durumda Özlem Hanım ne yapmalıdır?

- A. Sönmesini beklemelidir.
B. Kabloya su dökmelidir.
C. Şalteri kapatmalıdır.

17.

Prizlere emniyet kapakları takmalıyız.



Elektrikli araçlar tamir edilirken fişi prize takılmalıdır.



Kişiyi elektrik çarparken ona metal çubukla temas etmeliyiz.




Yukarıdaki kartların hangilerinde yanlış bilgi yazmaktadır?

- A. ● ■ B. ★ ● C. ★ ■

18. Ahmet yüzünü karınca yuvasının ağız kısmına doğru dönmüştür. Bu durumda Ahmetin önü hangi yönü gösterir?
- A. KUZEY
B. GÜNEY
C. DOĞU

19. - Ağacların yosun tutan tarafı güneyi gösterir.
- Pusulanın kırmızı ucu kuzeyi gösterir.
- Karıncaların yuvasının ağız tarafı güneyi gösterir.
- Kutup yıldızı güneyi gösterir.
Yukarıda verilen ifadelerden kaç tanesi doğrudur?
- A. 4 B. 2 C. 3

20.



- Yukarıda verilen hayvan için hangisi söylenemez?
- A. Etinden ve yününden yararlanılır.
B. Binek hayvanıdır.
C. Ot ile beslenir.

ADI:

SOYADI:

SINIFI:

PUANI:

1	A	B	C
2	A	B	C
3	A	B	C
4	A	B	C
5	A	B	C
6	A	B	C
7	A	B	C
8	A	B	C
9	A	B	C
10	A	B	C
11	A	B	C
12	A	B	C
13	A	B	C
14	A	B	C
15	A	B	C
16	A	B	C
17	A	B	C
18	A	B	C
19	A	B	C
20	A	B	C