

Hayvan Sever Yakup

Güzel, güneşli bir ilkbahar sabahıydı. Yakup erkenden kalktı, kahvaltısını yaptı. Bir an önce evlerinin bahçesine gitmek için sabırsızlanıyordu. Bahçede onu bekleyen bir arkadaşı vardı. Birkaç gün önce sokakta gördüğü, yardıma muhtaç bir köpeği sahiplenmişti. Ne zaman yardıma ve bakıma muhtaç bir hayvan görse dayanamaz, yardım ederdi. Hayvanlara yemek yedirir, onlarla oyunlar oynardı. Bazen de ailesinin yardımını alarak küçük kulübeden bir yuva yapardı. Bu, Yakup'un yardım ettiği ilk hayvan değildi. Daha önce de kedi, kuş ve köpeklere yardım etmişti. Zaten çevresinde de "Hayvansever Yakup" olarak biliniyordu. Onu gören arkadaşları ve ailesi, onunla gurur duyuyordu. Yardım ettiği, oyunlar oynadığı hayvanlar, Yakup'un mutluluk kaynağıydı.



SORULAR

1) Yakup niçin sabırsızlanıyormuş?

2) Yakup kimlere yardım ediyormuş?

3) Kimler Yakup ile gurur duyuyormuş?

4) "Zaman" kelimesinin eş anlamlısı aşağıdakilerden hangisidir?

A. Vakit

B. Yıl

C. Hafta

5) Aşağıdaki sözcüklerden hangisi cümle içinde büyük harfle başlar?

A. Arkadaş

B. Aile

C. Serhan



Yaşanmış ya da yaşanması mümkün olayların kişi, yer ve zaman belirtilerek anlatıldığı yazılara **öykü (hikâye)** denir. Yer, kişi, zaman, olay hikayenin unsurlarıdır.

✏️ Aşağıdaki soruları hayal gücümüzü kullanarak yanıtlayalım.

Küçük karıncanın adı ne olsun?

.....

Küçük karıncanın arkadaşının adı ne olsun?

.....

Küçük karınca ve arkadaşı nerede buluşsun?

.....

Küçük karınca ve arkadaşı nereye gitsinler?

.....

Küçük karınca ve arkadaşı hangi oyunu oynasınlar?

.....

Küçük karınca ve arkadaşı kiminle tanışsınlar?

.....

Küçük karınca ve arkadaşı ne zaman eve dönsünler?

.....

✏ Bir önceki sayfada sorulara verdiğimiz yanıtlara göre hayal gücümüzü kullanarak bir öykü yazalım. Öykümüze başlık koymayı unutmayalım.



 Aşağıdaki görsellerle ilgili cümleler kuralım.



Kurallı cümle

Devrik cümle

Soru cümlesi



Kurallı cümle

Devrik cümle

Soru cümlesi



Kurallı cümle

Devrik cümle

Soru cümlesi



Kurallı cümle

Devrik cümle

Soru cümlesi



Kurallı cümle

Devrik cümle

Soru cümlesi

 Aşağıda verilen cümlelerle ilgili soruları cevaplayalım.

Buket, marketten dönerken parka uğramış.

Kim?

Ne zaman?

Nereye?

.....

.....

.....

Sema ve Ayberk okula servisle geldiler.

Kim?

Nereye?

Nasıl?

.....

.....

.....

Annem, babam ile okuluma geldi.

Kim?

Nereye?

Kimle?

.....

.....

.....

Ali, dersi bitince köpeği ile bahçede oyun oynadı.

Kim?

Nerede?

Kimle?

.....

.....

.....

Parkta oyun oynarken gözlüğümün camı kırıldı.

Ne?

Nerede?

Ne zaman?

.....

.....

.....

Bu hafta babam işe gitmeyecekti.

Nereye?

Kim?

Ne zaman?

.....

.....

.....

✏️ Aşağıdaki cümlelerdeki yazım yanlışlarını düzeltelim. Cümleleri yeniden yazalım.



● cumhuriyet bayramını 29 ekimde kutladık.

●



● bugün ailemle sinemaya gideceğiz.

●



● tezyem ankarada özel bir şirkette çalışıyor.

●



● dayım malatyadan gelirken Kayısı almış.

●



● Köpeğimiz zeytin oyun oynamak istiyor.

●

✏️ Aşağıdaki sözcükleri büyük harflerin kullanımına dikkat ederek cümle içinde kullanalım.

23 nisan

menekşe caddesi

türkçe

pamuk

hasan

ordu mahallesi

Aşağıda verilenlerden özel adları maviye, tür adlarını kırmızıya boyayalım.



Millet

Van

Çocuk

İzmir

İncir

Türk

Şule

Elma

Anne

Atatürk

Aşağıdaki cümlelerdeki özel isimleri bulup altını çizelim.



Nasreddin Hoca'nın fıkralarını okudun mu?



Kedimiz Tekir evimizin yaramaz çocuğu gibi.








Ablam İngilizce kursuna gidiyor.









Babam iş toplantısı için Almanya'ya gidecek.






Verilen adların türünü altlarına örnekteki gibi yazalım.



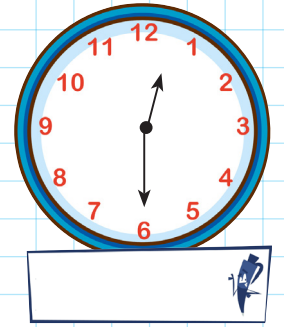
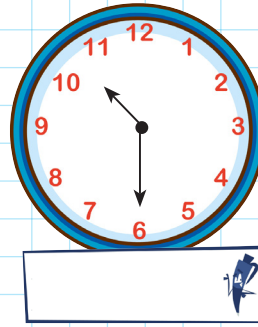
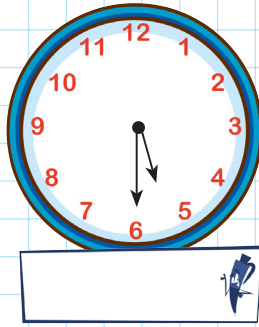

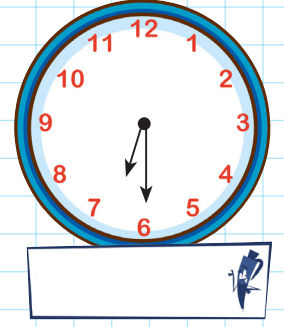

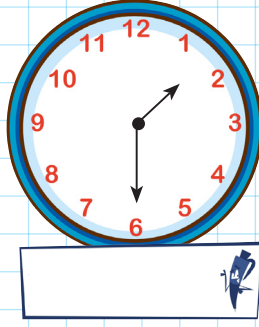

→ Aşağıdaki saatlerin kaçı gösterdiklerini altlarına yazalım.



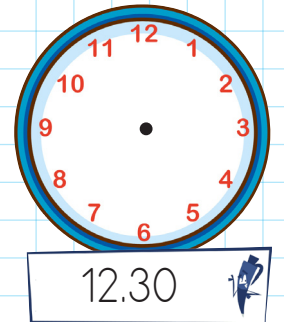
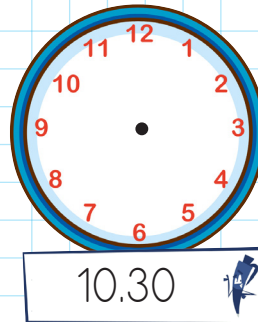


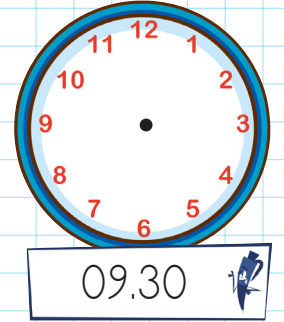
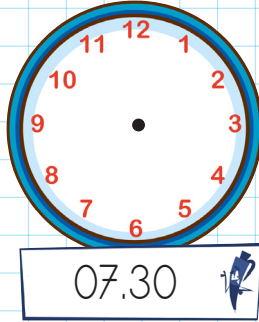

→ Aşağıdaki dijital saatlere göre analog saatlerin akrep ve yelkovanlarını çizelim.








→ Aşağıdaki saatlerin kaçı gösterdiklerini altlarına yazalım.




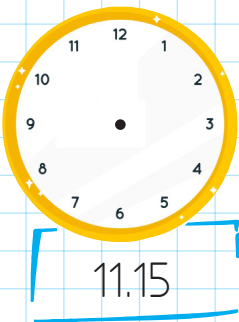

→ Aşağıdaki dijital saatlere göre analog saatlerin akrep ve yelkovanlarını çizelim.




→ Aşağıdaki saatlerin kaçı gösterdiklerini altlarına yazalım.



→ Aşağıdaki dijital saatlere göre analog saatlerin akrep ve yelkovanlarını çizelim.




➔ Aşağıdaki analog saatlerin öğleden önce ve öğleden sonra kaçı gösterdiklerini yazalım.




Öğleden önce:

Öğleden sonra:




Öğleden önce:

Öğleden sonra:




Öğleden önce:

Öğleden sonra:




Öğleden önce:

Öğleden sonra:




Öğleden önce:

Öğleden sonra:




Öğleden önce:

Öğleden sonra:




Öğleden önce:

Öğleden sonra:



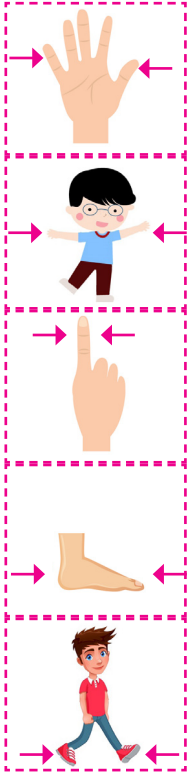
Öğleden önce:

Öğleden sonra:



Öğleden önce:

Öğleden sonra:



Karış: Elin baş parmağı ile serçe parmağı arasındaki uzunluk.


Kulaç: İki kolumuzu açtığımızda, ellerimizin parmak uçları arasındaki uzunluktur.

Parmak: El parmağının eni kadar olan uzunluktur.

Ayak: Ayağın baş parmağı ile topuğu arasındaki uzunluktur.

Adım: Bir adım attığımızda, arkada kalan ayağın parmak uçları ile öndeki ayağın parmak uçları arasındaki uzaklıktır.

✏️ Aşağıdaki kalemin boyunu parmakla ölçelim ve ölçüm sonucunu yazalım.



Kalemin boyu parmak uzunluğundadır.

✏️ Verilen nesnelere aşağıdakilerden hangisiyle ölçülebilir, yazalım.

Parmak

adım

kulaç

ayak

karış



Kitabın uzunluğunu ölçerken:

»»



Sınıfın uzunluğunu ölçerken:

»»



Siranın uzunluğunu ölçerken:

»»



Halının uzunluğunu ölçerken:

»»




Koridorun uzunluğunu ölçerken:


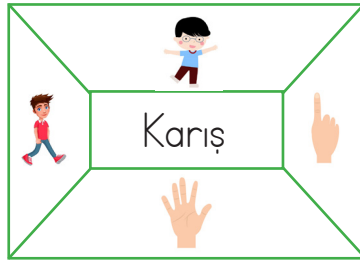
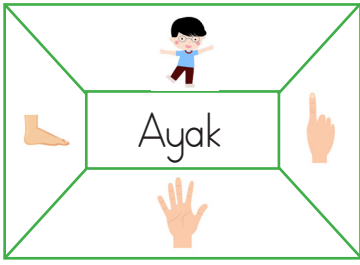
»»





Masanın uzunluğunu ölçerken:

»»

 Aşağıdaki şemalarda yazılı standart olmayan ölçme birimlerinin görselini boyayalım.



 Verilen varlıkların hangi standart olmayan ölçme birimleri ile ölçülebileceğini boşluklara yazalım.




.....

.....

.....

.....

 Evimizde kulaç, adım, ayak, karış ve parmak ile ölçebileceğimiz nesnelere seçelim. Bu nesnelere ölçüp sonuçları aşağıya yazalım.



Masanın uzunluğu 2 kulaçtır.



..... uzunluğu'tır



..... uzunluğu'tır




..... uzunluğu'tır




..... uzunluğu'dır



✎ Aşağıdaki verilen iplerin uzunluğunu üsttünde verilen şeritlerle örnekteki gibi çözerek ölçelim. Ölçüm sonuçlarını noktalı yerlere yazalım.



1.



→ 4 mavi şerit




→ ... pembe şerit



→ ... sarı şerit

2.



→ ... mavi şerit




→ ... pembe şerit



→ ... sarı şerit

3.



→ ... mavi şerit



→ ... pembe şerit



→ ... sarı şerit

4.



→ ... mavi şerit




→ ... pembe şerit



→ ... sarı şerit

5.



→ ... mavi şerit




→ ... pembe şerit



→ ... sarı şerit





Yukarıdaki cetvel 10 santimetre (cm) uzunluğundadır. Bu cetvel-
den 10 tane yan yana gelirse 1 metre (m) oluşur. 1 metre 100
cm'ye eşittir. Uzunlukları ölçerken metre, santimetre gibi uzunluk
ölçme birimleri kullanılır.

✎ Aşağıdaki nesnelere hangisi metre, hangisi santimetre ile ölçülür alt-
larına yazalım.



.....

✎ Aşağıdaki ölçme birimlerinden hangisi ile yapılan ölçüm işlemi her za-
man aynı çıkar işaretleyelim.

Santimetre

Kulaç

Metre

Parmak

Adım



✎ Metrenin hangi mesleklerde kullanıldığını araştırıp noktalı yerlere yazalım.



.....



.....



.....



.....

✎ Aşağıdaki soruları cevaplayalım.

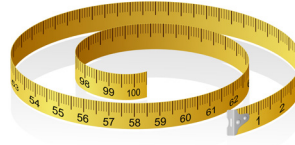

● Uzunluğu 1 metreden daha kısa olan uzunluklar hangi birim ile ölçülür?

.....

● Çevremizde metre ile ölçeceğimiz uzunluklara örnek verelim.

.....

✎ Aşağıdaki uzunluk ölçme araçlarını adları ile eşleştirelim.




Kırık metre

Mezura

Cetvel

Şerit metre

✎ Aşağıda Pınar, annesi ve babasına ait boy uzunlukları verilmiştir. Görseli inceleyip soruları cevaplayalım.



Pınar'ın boy uzunluğu nedir?
..... metre santimetre



Pınar'ın annesinin boy uzunluğu nedir?
..... metre santimetre



Pınar'ın babasının boy uzunluğu nedir?
..... metre santimetre




Pınar, annesinden kaç santimetre kısadır?
.....



Pınar, babasından kaç santimetre kısadır?
.....



Pınar'ın babası, annesinden kaç santimetre uzundur?
.....



➔ Aşağıdaki cümleleri okuyalım. Doğru olanların başına (D), yanlış olanların başına (Y) yazalım.

- Deprem sarsıntısı başladığında hemen asansöre binmeliyiz.
- Afet çantamızı kapıya yakın, kolay ulaşılabilecek bir yerde tutmalıyız.
- Sel baskınlarından korunmak için evlerimizi dere yataklarına yapmamalıyız.
- Çığ riskine karşı dik yamaçlardaki ağaçları korumalıyız.
- Deprem sırasında pencere kenarlarından uzak durmalıyız.
- Heyelan riskini azaltmak için ağaçlandırma yapmalıyız.
- Afet çantamızdaki bisküvi ve suların tarihini ara sıra kontrol etmeliyiz.
- Orman yangınlarını önlemek için piknik ateşini söndürmeden bırakmamalıyız.

➔ Aşağıdaki nesnelere inceleyelim. Bir afet çantasında bulunması gerekenlerin dairesini boyayalım.

el feneri

oyuncak araba

battaniye

düdük

elma

su

boya kalemi

şarj aleti

pil

radyo

kitap

boya kalemi

A. Soruları cevaplayalım.



1. Where is the cat?
It is



2. Where are the fish?
It is



3. Where is the bird?
It is



4. Where are the cat?
It is



5. Where is the turtle?
It is



6. Where are the parrot?
It is

B. Resimlere göre örnekteki gibi cümleler yazınız.



This is my bird.

