

İLKBAHAR SEVİNCİ

Buse bütün mevsimleri seviyordu ama ilkbaharın yeri başkaydı. Yağmur, kar ve soğuk havalar artık geride kalmıştı. Mart ayı ile başlayan ilkbaharda havalar ısınmaya başlamıştı. Buse ise güneşli havanın, rengarenk çiçeklerin, yeşillenen ağaçların tadını çıkarabilecekti. Babası ile parka gidebilecek, arkadaşları ile dışarıda oyun oynayabilecekti. Buse'nin mutluluğu gözlerinden okunuyordu.

1, 2 ve 3. soruları metne göre cevaplayalım.

1. Buse'nin en çok sevdiği mevsim hangisidir?


- A. Mart
- B. Yaz
- C. İlkbahar

2. İlkbahar mevsimi hangi ay ile başlar?

- A. Mart
- B. Nisan
- C. Mayıs

3. Hangisi ilkbaharda yaşanan durumlardan biri değildir?

- A. Hava ısınmaya başlar.
- B. Ağaçlar yeşillenir.
- C. Kış mevsimine hazırlık yapılır.

4.  Verilen meyveler sözlük sırasına göre dizildiğinde ortadaki meyve en sevdiğim meyvedir.



Emre'nin en sevdiği meyve hangisidir?

- A. 
- B. 
- C. 

5.

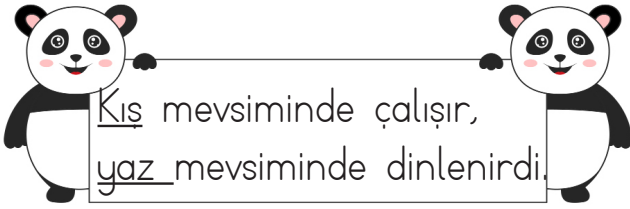


talebe	tane
adet	zengin
yoksul	öğrenci

Verilen sözcükler eş anlamlıları ile eşleştirilirse hangi sözcükler dışarıda kalır?

- A. adet, tane
- B. yoksul, zengin
- C. öğrenci, talebe

6.



Altı çizili sözcükler arasındaki anlam ilişkisi hangi seçenekteki sözcükler arasında vardır?

- A. git - gitme B. kalem - silgi
C. uzun - kısa

7.



Özel isimlerin ilk harfi büyük harfle başlar.

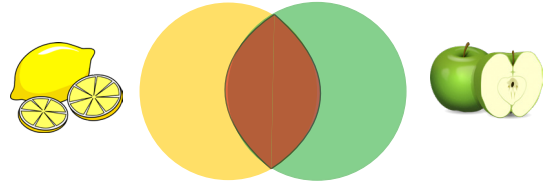
Buse'nin verdiği bilgiye göre hangi cümlede bu kurala uyulmamıştır?

- A. Eda, ilkbaharla ilgili şiir okudu.
B. Babam İzmir'de doğmuş.
C. Tiyatroda emiri gördüm

8. Aşağıdaki cümlelerin hangisinde karşılaştırma ifadesi kullanılmamıştır?

- A. Ali kitabı almak için geldi.
B. Eda, benden daha çalışkandır.
C. Limon, portakala göre ekşidir.

9. SORUYA GEL



Tatlı Taze Sarı Yeşil Sulu

Yukarıda verilen sözcüklerden sadece limonun özelliğini belirten sözcükler sarı alana, sadece elmanın özelliklerini belirten sözcükler yeşil alana yazılacaktır. Limon ve elmanın ortak özelliği olabilecek sözcükler de kahverengi alana yazılacaktır.

Buna göre kahverengi alana hangi sözcükler yazılmış olabilir?

- A. taze, sulu
B. sarı, yeşil
C. sulu, tatlı

10.

Bambu - severler - pandalar - çok- yemeyi - en

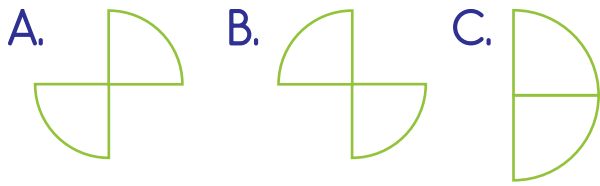
Yukarıdaki sözcüklerden anlamlı ve kurallı bir cümle oluşturduğunda cümlenin sonuna hangi noktalama işareti getirilir?

- A. B. C.

11.



Yukarıdaki şekilde yazım yanlışı olan bölümler çıkarıldığında oluşan şekil hangisi olur?



12.



Aşağıdakilerden hangisi verilen görsele ait bir cümle olamaz?

- A. Yaşlı kadın güçlüğüyle yürüyordu.
- B. Genç, parkta spor yapıyor.
- C. Genç, yaşlı kadına yardım ediyor.

13.

..... demir tutmaz.

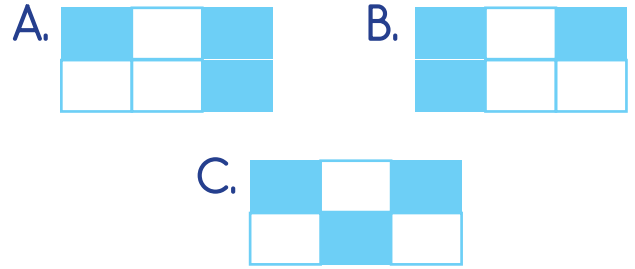
Yukarıdaki atasözünde boş bırakılan yerlere hangi sözcükler yazılmalıdır?

- A. İşleyen, altın
- B. İşleyen, pas
- C. Çalışan, demir

14.

kuş	az	sepet
gel	silgi	ile

Tabloda ad türündeki sözcükler boyanırsa tablonun görüntüsü nasıl olur?



15.

Ezgi, bahçede oynadı?

Yukarıdaki cümlenin anlamlı bir soru cümlesi olması için hangi kutucukları boyamalıyız?

- A.
- B.
- C.

1. $10 + 10 + 10 + 10 + 1 + 1 + 1$

Yukarıdaki onluk ve birlikleri gösterilen sayı hangisi olamaz?

- A. 43
B. 44
C. 4 onluk 3 birlik

2.



Günde 4 tane yumurta yumurtlayan tavuğun 6. günün sonunda yumurta sayısı 2 desteden kaç fazladır?

- A. 4 B. 6 C. 8

3.



Yukarıdaki sayılar, verilen sayıdan başlayarak belli bir kurala göre dizilmiştir. Buna göre hangisi boşluklara gelmesi gereken sayılardan biri değildir?

- A. 20 B. 28 C. 21

4.



$24 + 34$ (yellow bar with a small yellow square on the right)


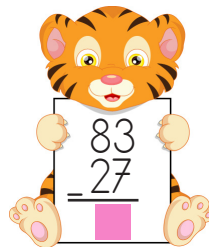
$35 + 44$ (green bar with a small green triangle on the right)

$14 + 23$ (red bar with a small red circle on the right)

Yukarıdaki toplama işlemleri en yakın onluğa yuvarlanarak tahmin ediliyor. Buna göre hangi işlemin tahmini ile gerçek sonucu arasındaki fark en azdır?

- A. B.
C.

5.



Yukarıda verilen çıkarma işlemlerine göre - işleminin sonucu kaçtır?

- A. 10 B. 7 C. 8

6.



3 sürahi su bir kovayı tamamen doldurduğuna göre 9 sürahi su kaç kovayı doldurur?

- A. 3 B. 9 C. 7

7.



Ayakkabının fiyatı gömlekten 5 lira eksik, şorttan 10 lira fazladır.

Ayakkabı 20 lira olduğuna göre 3 ürünün toplamı ne kadardır?

- A. 55 B. 90 C. 85

8.



Yukarıdaki geometrik şekillerin köşelerine üçer tane yıldız konuluyor. Toplam yıldız sayısının 4 onluk olması için kaç yıldız daha ihtiyaç vardır?

- A. 5 B. 7 C. 6

9. SORUYA GEL



Ders zili çaldığında sınıfımızdaki duvar saatinin görünümünü yukarıdaki gibidir. Her ders 30 dakika olup ders sonunda 15 dakika tenffüs için zaman ayrılmıştır. Ayrıca 2. dersin başında 15 dakikalık beslenme yapılmaktadır.

Buna göre beslenme için ayrılan sürenin başlangıç ve bitiş süresi hangi seçenekte belirtilmiştir?

- A. 09:30 - 09:50
B. 09:40 - 09:50
C. 09:15 - 09:30

10.



Üzerindeki çarpma işlemi doğru olan balıklar gölde yaşamaktadır. Buna göre hangi balıklar gölde yaşamaktadır?

- A. B.
C.

11. $15 - 3 = \blacksquare$
 $\blacksquare \div 3 = \blacktriangle$
 $\blacktriangle \div 1 = \bullet$

Yukarıda verilenlere göre \bullet sayısı kaçtır?


- A.4 B.1 C.2

12. 4 çeyrek ... yarım eder.

3 bütünde çeyrek vardır.

Yukarıda verilen ifadelerdeki boşluklara hangisi yazılamaz?

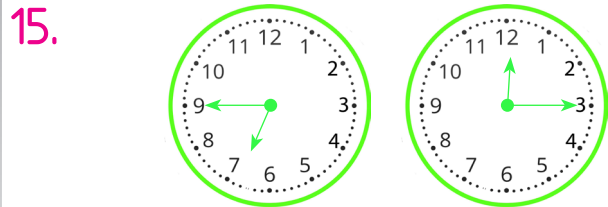
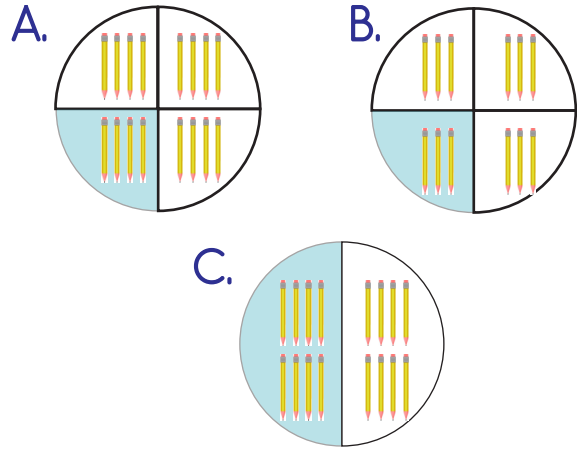
- A. 12 B. 8 C. 2

13.  Evden çıktığımda akrep 8 ile 9 arasında, yelkovan 6'nın üzerindeydi.

Eda'nın söylediği zamandan 1 saat sonrası hangi seçenekte ifade edilmiştir?

- A.  B.  C. 

14. 16 kalemın çeyreği hangi görselde ifade edilmiştir?



Aşağıdakilerden hangisi yukarıda verilen saatlerin okunuşlarından biri değildir?

- A. Saat yediye çeyrek var.
 B. Saat on ikiyi çeyrek geçiyor.
 C. Saat yediyi çeyrek geçiyor.

1. **a** – Milli Marşı'mızın adı İstiklal Marşı'dır.

b – Milli Marşı'mızın şairi Atatürk'tür.

Yukarıdaki ifadeler için hangisi söylenebilir?

- A. a doğru, b yanlıştır.
- B. a yanlış, b doğrudur.
- C. Her ikisi de yanlıştır

2. Atatürk'ün çocukluğunda derslerinde başarılı bir öğrenci olması hangi özelliği ile açıklanabilir?

- A. Liderliği
- B. Çalışkanlığı
- C. Barışseverliği

3. Aşağıdaki ifadelerden hangisi dini bayramlarımızla ilgilidir?

- A. Okullarda yapılan törenlerde şiirler okunur ve gösteriler yapılır.
- B. Sınıfımızın camlarına bayraklar asılır.
- C. Aile büyüklerinin elleri öpülür, dargınlar barışır.

4.

Doğada yönünü kaybetmiş bir gözlemci, önündeki karınca yuvasının toprak yığılı tarafına doğru bakmaktadır.

Buna göre, gözlemcinin baktığı yön hangisidir?

- A. doğu
- B. kuzey
- C. güney

5.



Çocuklar; sağ kolumuzu Güneş'in doğduğu yöne doğru uzatırsak, önümüz (.....), arkamız ise (.....) yönünü gösterir.

Öğretmenin konuşmasındaki boşluklara sırasıyla hangi ana yönler gelmelidir?

- A. Kuzey – Güney
- B. Batı – Doğu
- C. Güney – Kuzey

6. Aşağıdaki ifadelerden hangisi yanlıştır?

- A. Bulutlu havalarda gökyüzünde güneş görülmeyebilir.
- B. Hava olayları her mevsimde aynı şekilde gerçekleşir.
- C. Kar yağışı genellikle havanın çok soğuk olduğu zamanlarda görülür.

7. İlkbahar Kış

Aşağıdakilerden hangisi yukarıdaki mevsimlerde yer alan aylardan birisi değildir?

- A. Mayıs
- B. Temmuz
- C. Aralık

8. Aşağıdakilerden hangisi "deprem öncesinde" yapılması gereken önlemlerdendir?

- A. Asansörleri kullanmamak ve sarsıntı bitene kadar merdivenlere koşmamak.
- B. Pencere ve camlardan uzak bir yerde durmak.
- C. Aile afet ve acil durum planı hazırlamak.

9.

- 1 - Ağır dolapları duvara monte etmek.
- 2 - Deprem çantasını ulaşılması zor bir dolaba kaldırmak.
- 3 - Afet sonrası toplanacak güvenli bir nokta belirlemek.

Yukarıdaki listedeki maddelerden hangileri afet riskini azaltmaya yönelik doğru önlemlerdir?

- A. 1 ve 3
- B. 2 ve 3
- C. 1, 2 ve 3

10.

Trafik kazası	Erozyon
Heyalan	Sel

Yukarıdakilerden kaç tanesi doğal afettir?

- A. 1
- B. 2
- C. 3

1.



Tavşanın yerine göre "It is the box." cümlesinde boş bırakılan yere aşağıdakilerden hangisi gelmelidir?

A. in B. on C. under

2.



Yukarda verilen nesnenin İngilizce karşılığı hangi seçenekte verilmiştir?

A. hat
B. umbrella
C. gloves

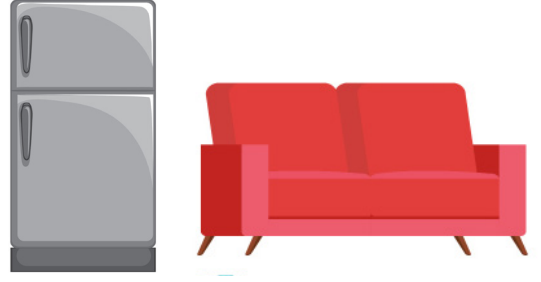
3.



Aşağıdakilerden hangisi yukarıdaki varlıklardan birinin rengi değildir?

A. yellow B. red
C. green

4.



Verilen kelimelerden hangisi yukarıdaki varlıklardan birinin İngilizce'si değildir?

A. fridge
B. table
C. armchair

5.



Aşağıdaki cümlelerden hangisi yukarıdaki görselle ilgilidir?

A. There are two dogs under the table.
B. There are two cats under the table.
C. There is dog under the table.