

Sonbahar gelmişti. Ağaçtaki yapraklar sararıp dökülmeye başlamıştı. Evimizin önündeki ağaç da artık yapraklarını dökmeye başlamıştı. Her gün daha fazla yaprağı dökülüyordu. Bu duruma çok üzül-müştüm. Ağaçların yapraklarının dökülmesi beni rahatsız ediyordu. Kardeşim Serhat üzgün oldu-ğ-



mu görünce nedenini sordu. Ben de anlattım. Anlattıklarına gülmeye başladı. Serhat:

- Her sonbaharda yapraklar dökülmeye başlar. Tabii her ağaç için durum aynı değil. Bazı ağaçlar yapraklarını dökmez. Ağaçlar yeni çıkacak yapraklara hazırlık yapar, dedi.

Serhat'ın anlattıkları rahatlatmıştı. Birlikte dışarı çıkıp dökülen yaprak-ları temizledik. Çıkacak yeni yaprakları heyecanla bekliyordum.

Sorular

1) Hikayeye uygun bir başlık yazalım.

2) Hangi mevsimde yapraklar dökülmeye başlar?

3) Serhat'ın kardeşini rahatsız eden durum neydi?

4) Aşağıdakilerden hangisi hem harf hem hecedir?

A. kol

B. o

C. bu


5) Aşağıdakilerden hangisinin eş anlamlısı yoktur?

A. Siyah

B. Kırmızı

C. Mavi




✏️ Aşağıdaki resmi boyamak için yönergeleri okuyalım. Okuduğumuz bu yönergelere göre resmi boyayalım. Yönergenin dışında kalan yerleri istediğimiz renge boyayalım.



YÖNERGELER

- ➔ Büyük dinozoru pembeye boyayalım.
- ➔ Küçük dinozoru maviye boyayalım.
- ➔ Kırık yumurtanın daireleri sarı olsun.
- ➔ Öndeki taşı kahverengiye boyayalım.
- ➔ Ağacın yaprakları yeşil, gövdesi kahverengi olsun.
- ➔ Dağı koyu kahverengiye boyayalım.
- ➔ Dağın tepesindeki lavları turuncuya boyayalım.
- ➔ Bulutları ve dumanları griye boyayalım.

✏️ Aşağıda karışık olarak verilen harflerle anlamlı sözcükler oluşturalım ve yazalım.



.....



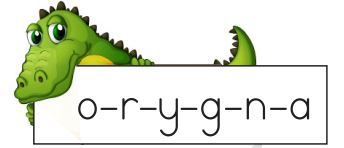


.....



.....



.....



.....



.....



.....



.....

✏️ Aşağıdaki kelimeleri örnekteki gibi heceleyelim. Hece sayılarını yazalım.

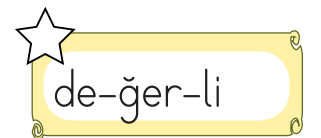
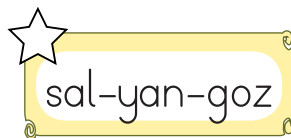
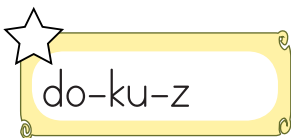
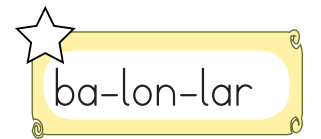
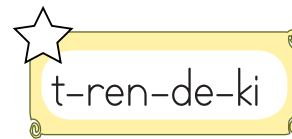
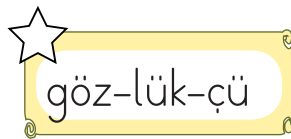
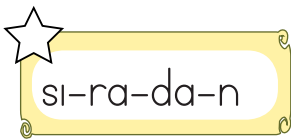


Hece	Hece Sayısı
Oran <u>g</u> utan	4
Sarılar	
Padişah	
Hanimeli	
Kar	

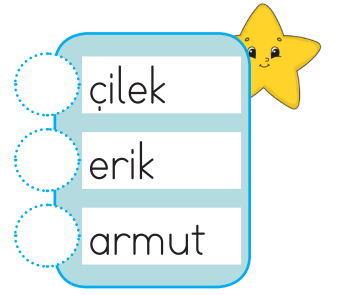
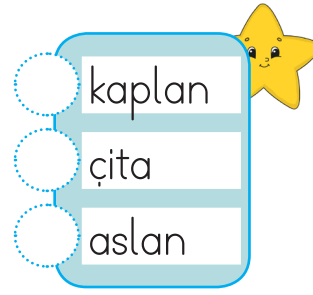
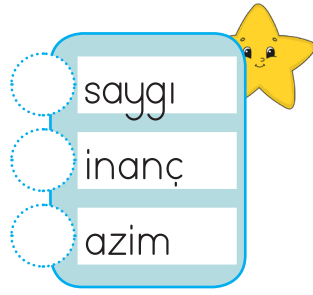
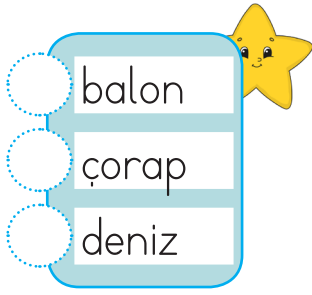
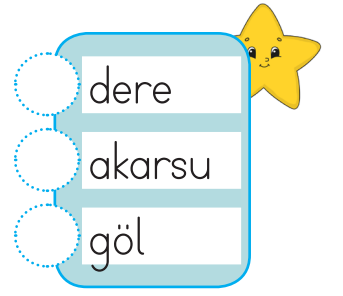
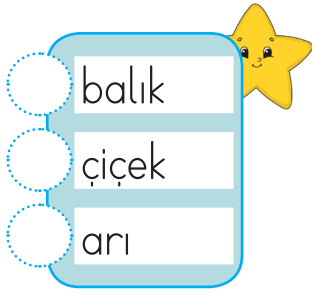


Hece	Hece Sayısı
Cevaplar	
Sorgu	
Taneler	
İlkokul	
Trenler	


✏️ Heceleri doğru ayrılan kelimelerin yıldızını boyayalım.



 Aşağıdaki sözcük gruplarını alfabe sırasına göre numaralandıralım.



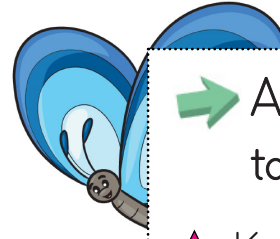
 Aşağıdaki cümlelerle ilgili 5N1K sorularını cevaplayalım.



→ Sibel, eve geldikten sonra dinlendi.

★ Kim dinlendi?

★ Ne zaman dinlendi?



→ Alper ormanda mantar topladı.

★ Kim topladı?

★ Nerede topladı?

 Aşağıda ifadelerden cümle olanların kutucuklarını işaretleyelim.

Arkadaşımın doğum gününe

Koştum

Bilgisayarımın bataryası

Evden yeni çıktık

✎ Aşağıda verilen sözcüklerle anlamlı ve kurallı cümleler oluşturalım.

kirtasiyeden

annem

silgi

aldı

dedi

küçük

kedi

miyav

✎ Aşağıdaki kelimelerin zıt anlamlılarını yazarak cümle içinde kullanalım.

uzun

kisa

Kısa boyuyla basket attı.

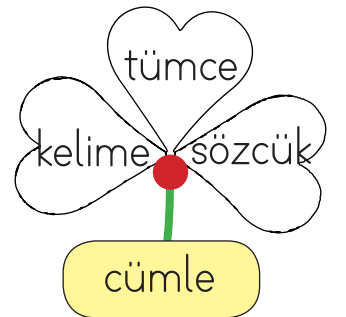
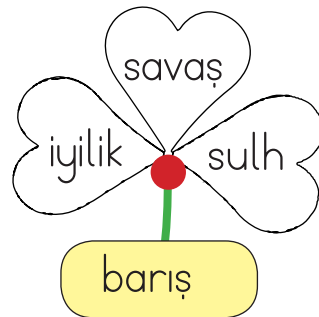
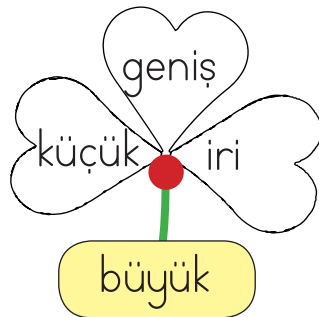
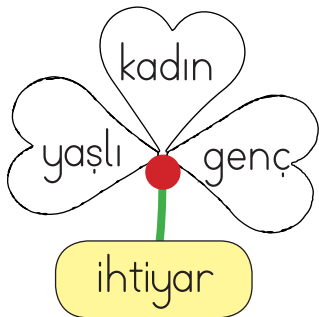
mutlu

ince

derin

büyük

✎ Aşağıda verilen sözcüklerin eş anlamlılarını yonca yapraklarından bulalım. Bulduğumuz sözcüklerin yazılı olduğu yaprakları boyayalım.



✎ Aşağıdaki görselleri inceleyelim. İsim vererek neler yaptıklarını örnekteki gibi yazalım.



Erhan kitap okuyor.



✎ Aşağıdaki cümlelerin sonuna gelmesi gereken noktalama işaretlerini örnekteki gibi işaretleyelim.



CÜMLELER

Kaç tane şeker yedin

Hangi takımı daha çok seviyorsun

Babam saçlarını taramış

Süt içmeyi çok seviyorum

Benimle tiyatroya gelir misin

Kimin tokasını aldın

Saatini çok beğendim

?

.



 Aşağıdaki cümlelerdeki yazım yanlışlarını örnekteki gibi düzeltip cümleyi tekrar yazalım.

aslı istanbula gidecek.



Aslı İstanbul'a gidecek.

babam gaste okuyor.



.....

sevdanın kazağı güzelmiş.



.....

ders planı hazırladı.



.....

 Aşağıdaki olayları "önce - sonra - daha sonra" kavramlarını kullanarak doğru şekilde yazalım.



Yolda bir tavşan gördü.
Tüylerini okşadı.
Tavşanı kucağına aldı.



Önce yolda bir tavşan gördü.
Sonra tavşanı kucağına aldı.
Daha sonra tüylerini okşadı.



Bakkaldan dondurma aldı.
Dondurmayı güzelce yedi.
Bakkala gitti



Önce
Sonra
Daha sonra




Kitabını kapattı.
Kitabını açtı.
Sayfalarını okudu.

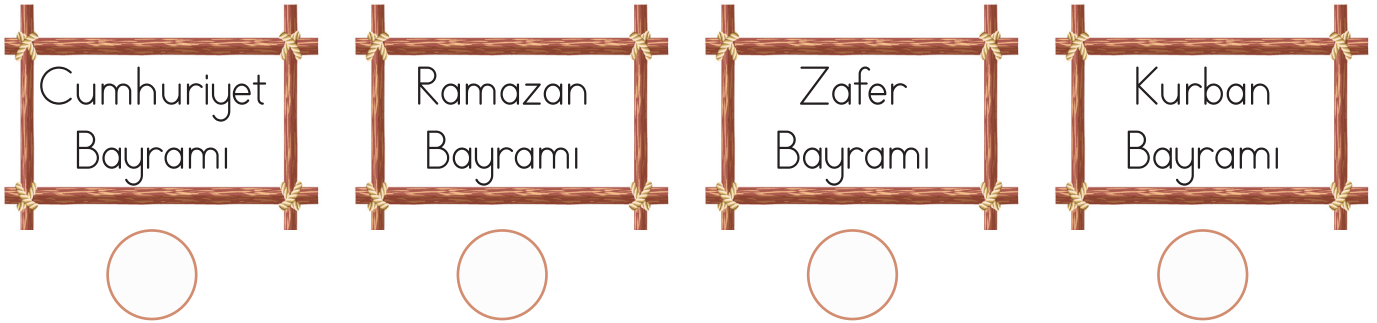


Önce
Sonra
Daha sonra

 Aşağıdaki soruların cevapları olan kutucuğu işaretleyelim.

- | | | | | |
|--|-----------------------|----------------|-----------------------|----------------|
| <input type="text" value="Ülkemizin adı nedir?"/> | <input type="radio"/> | Türkiye | <input type="radio"/> | Ankara |
| <input type="text" value="Ülkemizin başkenti neresidir?"/> | <input type="radio"/> | İstanbul | <input type="radio"/> | Ankara |
| <input type="text" value="Milli marşımızın adı nedir?"/> | <input type="radio"/> | Öğretmen Marşı | <input type="radio"/> | İstiklal Marşı |

 Dini bayramlarımızı belirten ifadelerin altındaki daireleri yeşile, milli bayramlarımızı belirten ifadelerin altındaki daireleri maviye boyayalım.






 Aşağıdaki cümleler doğruysa başına "D", yanlışsa başına "Y" harfini yazalım.

- Ay, Dünya'yı ısıtır ve aydınlatır.
- İlbahar mevsiminde bitkiler yeşerir.
- Okullar sonbahar ayında açılır.
- Bir yılda dört mevsim vardır.
- Kışın ince kıyafetler giyeriz.
- En sıcak mevsim ilbahardır.
- Ekinler yaz mevsiminde biçilir.




➔ Aşağıdaki tablolara göre soruları yanıtlayalım.

Tablo: Bir Çiftlikteki Hayvanların Sayısı	
Adı	Sayısı
İnek	
Koyun	
Tavuk	

Not: Her görsel 1 hayvanı göstermektedir.

1. Çiftlikte kaç inek vardır? ➔
2. Çiftlikte kaç koyun vardır? ➔
3. Çiftlikte kaç tavuk vardır? ➔

➔ Aşağıdaki tablolara göre soruları yanıtlayalım.

Kız Öğrenciler	
Erkek Öğrenciler	

Not: Her görsel 1 öğrenciyi göstermektedir.

1. Toplam kaç kız öğrenci vardır? ➔
2. Toplam kaç erkek öğrenci vardır? ➔
3. Toplam kaç öğrenci vardır? ➔

➔ Verilen çetele tablolarına göre sıklık tablolarını örnekteki gibi dolduralım.

Tablo: En Çok Sevilen Renkler	
Renkler	Sayısı
Sarı	
Yeşil	
Beyaz	

Tablo: En Çok Sevilen Renkler	
Renkler	Sayısı
Sarı	9
Yeşil	3
Beyaz	13

Tablo: En Çok Sevilen Dersler	
Dersler	Sayısı
Türkçe	
Matematik	
Müzik	
Resim	


Tablo:	
Renkler	Sayısı
Türkçe	
Matematik	
Müzik	
Resim	

Tablo: En Çok Sevilen Meyveler	
Meyveler	Sayısı
Muz	
Elma	
Çilek	
Karpuz	

Tablo:	
Meyveler	Sayısı
Muz	
Elma	
Çilek	
Karpuz	

Tablo: En Çok Sevilen Hayvanlar	
Hayvanlar	Sayısı
Köpek	
Kedi	
Kuş	
Balık	

Tablo:	
Hayvanlar	Sayısı
Köpek	
Kedi	
Kuş	
Balık	

 Aşağıdaki tavşanın bir haftada yediği havuçlar tabloda gösterilmiştir. Tavşanın kaç havuç yediğini bulup soruları cevaplayalım.



Pazartesi	
Salı	
Çarşamba	
Perşembe	
Cuma	
Cumartesi	
Pazar	

Her şekil 1 havucu göstermektedir.

1. Tavşan en fazla havucu hangi gün yemiştir?

.....

2. Tavşan en az havucu hangi gün yemiştir?

.....

3. Tavşan perşembe günü kaç havuç yemiştir?

.....

4. Hafta sonu toplam kaç havuç yemiştir?

.....

5. Salı ve cuma günleri toplam kaç havuç yemiştir?

.....

✏️ Aşağıdaki tabloyu inceleyelim. Soruları cevaplayalım.

Çiftlikteki Hayvanlar	
Hayvanlar	Hayvan sayısı
	11
	9
	14
	5

1. Çiftlikte kaç tavuk var?

.....

2. Çiftlikte kaç inek var?

.....

3. Çiftlikteki köpek ve keçilerin toplam sayısı kaçtır?

.....



4. Çiftlikteki keçi sayısı tavuk sayısından kaç fazladır?

.....

5. Çiftlikte en az ve en çok olan hayvanların toplam sayısı kaçtır?

.....

 Aşağıdaki tabloyu inceleyelim. Soruları cevaplayalım.

Pazartesi	Salı	Çarşamba	Perşembe	Cuma	Cumartesi	Pazar
						
Güneşli	Rüzgarlı	Güneşli	Yağmurlu	Rüzgarlı	Güneşli	Kar yağışlı

1. Hangi gün kardan adam yapılabilir?

.....

2. Hangi günler bahçede top oynanabilir?

.....

3. Hangi günlerde yanımızda şemsiye bulundurmalıyız?

.....

4. Yağmurlu olmayan gün sayısı kaçtır?

.....

5. Hava durumu tablosu hangi mevsime ait olabilir?

.....

 Aşağıdaki tabloyu inceleyelim. Soruları cevaplayalım.

Sınıf başkanı oylama tablosu	
Adaylar	Aldığı oy
Sema	9
Ali	15
Nuray	5
Caner	9

1. En az oyu kim almıştır?

.....

2. Hangi adayların oyları eşittir?

.....

3. Caner ve Sema'nın oyları farkı kaçtır?

.....

4. Sınıf başkanı kim seçilmiştir?

.....

5. En az ve en çok oy alan adayların oyları toplamı kaçtır?

.....

»» Bilgi Notu

İçimizdeki duyguları, düşünceleri ve hayalleri anlatmanın en güzel yolu sanattır. İnsanlar resim yaparak, şarkı söyleyerek, dans ederek veya tiyatro oynayarak kendilerini ifade ederler. Çevremizde gördüğümüz renkli çizimler, dinlediğimiz güzel müzikler ve izlediğimiz gösteriler sanatın birer parçasıdır. Sanat, hayal gücümüzü büyütür ve dünyamızı güzelleştirir.

Aşağıdaki cümleleri oku. Bahsedilen sanat dalını bul ve altındaki yıldızı boyayalım.

Elimde boyalarım var, kağıdıma rengarenk resimler yaparım.



Müzik



Resim



Tiyatro

Kostümümle sahnede bir hikayeyi canlandırırım.



Sinema



Tiyatro



Çini Sanatı

Özel bir suyun üzerine boyalar damlatırım, sihirli desenler çıkarırım.



Sinema



Müzik



Ebru Sanatı

Tabakları, vazoları veya duvar taşlarını çeşitli renklerle süslerim.



Çini sanatı



Resim



Sinema

Çevremizdeki sanat örneklerini dikkatlice inceleyelim ve soruları yanatlayalım.



Evinde veya okulunda gördüğün en renkli resim nerede duruyor?

.....



Bugün dinlediğin ve hoşuna giden bir şarkının adı nedir?

.....



İzlemekten en çok keyif aldığın çizgi filmin adı nedir?

.....



Çevrende gördüğün desenli bir vazo, tabak veya süs eşyasını yazar mısın?

.....