

Kenan ve Pınar her sabah okula birlikte gidiyor, okuldan da birlikte dönüyorlardı. Bir sabah okula gitmek için sokağın başında buluşup hızlı bir şekilde yürümeye başladılar. Okulun bulunduğu caddeye vardıklarında trafik ışıklarının önünde durdular. Yayalara kırmızı ışık yanıyordu. Kenan "Yolda araba yok, dikkatli bir şekilde karşıya geçelim." dedi. Trafik kurallarına uyacağına dair annesine söz veren Pınar, Kenan'ın teklifini kabul etmedi. Yeşil ışık yanınca güvenli şekilde karşıya geçtiler.

1 ve 2. soruları metne göre cevaplayalım.

1. Kenan ve Pınar sokağın başında niçin buluşmuşlar?

- A. Oyun oynamak için
- B. Okula gitmek için
- C. Parka gitmek için

2. Pınar, Kenan'ın teklifini niçin kabul etmemiş?

- A. Trafik kurallarına uyacağına dair annesine söz verdiği için.
- B. Okula gideceği için.
- C. Ders çalışacağı için.

3.



Verilen harfler ile ilgili hangisi yanlıştır?

- A. 3 sesli, 5 sessiz harf vardır.
- B. Alfabetik sıralamada "u" harfi "m" harfinden önce gelir.
- C. Alfabemizin ilk ve son harfleri yer almaktadır.

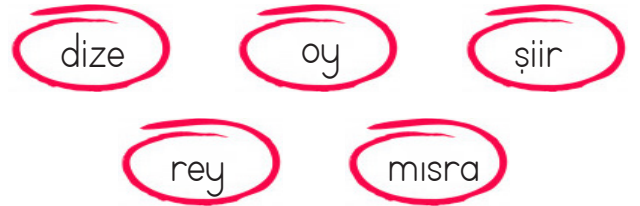
4.



Verilen sözcüklerden kaç tanesinin tek başına anlamı yoktur?

- A. 4
- B. 2
- C. 3

5.



Yukarıdaki sözcüklerden eş anlamlılar eşleştirildiğinde hangi sözcük dışarıda kalır?

- A. şiir
- B. oy
- C. dize

6. 

Karışık olarak verilen sözcükler kurallı bir cümle haline getirilecektir. Bu cümlede uygun noktalama işaretleri kullanırsak hangi seçenek doğru olur?

- A. Kitabımı, silgimi Okul'da unuttum.
B. Kitabımı, silgimi okulda unuttum.
C. Unuttum kitabımı, silgimi okulda.

7. 

Asu ile Mine'nin kiloları toplamı Ali'nin kilosundan kaç kilogram eksiktir?

- A. 6 B. 7 C. 8

8. 

96 metre halatın önce 18, sonra 38 metresi satılmıştır. Halatın kalan kısmı da 5 eşit parçaya bölünmüştür. Buna göre bir parça halat kaç metredir?

- A. 6 B. 5 C. 8

9.



50 cm 3 cm

Kitabın kalınlığı 3 cm, kedinin boyu ise 50 cm'dir. Buna göre 8 kitap üst üste konulup kedi kitapların üstüne çıktığında oluşan yükseklik kaç cm olur?

- A. 96 B. 75 C. 74

10. Manavdan 6 kg limon alan babam kaç lira ödemiştir?




- A. 15 B. 18 C. 21


11. Efe 26 kilogramdır. Ege, Efe'den 4 kg fazla, Mert'ten 3 kg eksiktir. Buna göre Efe, Ege ve Mert'in kütleleri toplamı kaç kilogramdır?


- A. 89 B. 85 C. 91

12. Aşağıdakilerden hangisi bilim insanlarının ortak özelliklerinden biri değildir?

- A. Azimli ve kararlı olmak.
- B. Zamanını boş geçirmek.
- C. Planlı çalışmak.

13.  Bilim insanları meraklıdır ve sürekli soru sorarlar.

 Ampulü icat eden kişi Thomas Edison'dur.

 Bilim insanları başarısız olunca hemen vazgeçerler.

Bilim insanları ile ilgili yukarıdaki sembollerin hangisinin önündeki bilgi hatalıdır?

- A. 
- B. 
- C. 

14. Aşağıdaki eşleştirmelerden hangisinde hata yapılmıştır?

- A. İlk Türk Astronot → Alper Gezeravcı
- B. İlk Uçağımız → Vecihi Hürkuş
- C. Fizik Çalışmaları → Jale İnan

15. – Çok iyi bir matematikçidir.
– Dünya çapında tanınan bir bilim insanımızdır.
– 10 TL'lik kağıt paramızın arkasında resmi vardır
Yukarıda özellikleri verilen bilim insanımız kimdir?

- A. Cahit Arf
- B. Engin Arık
- C. Jale İnan

senefhoca.net

ADI:

SOYADI:

SINIFI:

1	A	B	C
2	A	B	C
3	A	B	C
4	A	B	C
5	A	B	C
6	A	B	C
7	A	B	C
8	A	B	C
9	A	B	C
10	A	B	C
11	A	B	C
12	A	B	C
13	A	B	C
14	A	B	C
15	A	B	C