

Nasrettin Hoca'nın evine tüccar arkadaşı misafir olmuş. Hoca'nın eşi onlara mantı pişirmiş. Arkadaşı acele edip mantıyı hemen ağzına atınca boğazı yanmış. Boğazının yandığını belli etmemek için başını tavana doğru dikmiş. Yanmanın etkisi geçince başını tavandan çevirmeden sormuş:

-Hocam bu tavanı ne zaman yaptırınız?

Hoca hemen cevap vermiş:

-Boğazıma ateş düştüğü zaman...

1 ve 2. soruları metne göre cevaplayalım.

1. Nasrettin Hoca'nın arkadaşının boğazı niçin yanmış?
 - A. Çok acıktığı için
 - B. Acele edip mantıyı hemen ağzına attığı için
 - C. Yemek çok acı olduğu için

2. Nasrettin Hoca tavanı ne zaman yaptırmıştır?
 - A. Boğazına ateş düştüğü zaman
 - B. Misafiri geldiği zaman
 - C. Eşi mantı yaptırdığı zaman

3.

	Özel Ad	Tür Adı
■	Avrupa	Bitki
●	Ankara	Ağaç
★	Silgi	Esmâ

Yukarıdaki tabloda hangi satırdaki adlar yanlış gruplanmıştır?

- A. ■ B. ★ C. ●

4.



Yukarıdaki sözcüklerle anlamlı ve kurallı cümle oluşturulduğunda üçüncü sıradaki sözcük için aşağıdakilerden hangisi söylenemez?

- A. 5 harften oluşur
- B. Zıt anlamlısı "geç" sözcüğüdür
- C. Üç hecelidir.

5.

Beni biraz dinler misiniz?
Ankara'ya mı gideceksin?
Ali Okulunu çok seviyor.

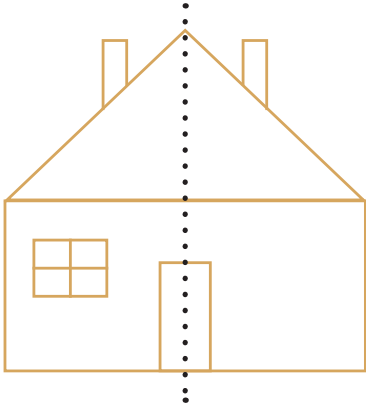
Yukarıdaki verilen cümlelerin kaç tanesinde yazım yanlışı yapılmıştır?

- A. 3 B. 2 C. 1

6. Aşağıdaki cümlelerin hangisinde noktalama işareti yanlış kullanılmıştır?

- A. Kalemimi yeni mi aldın.
 B. Saat 20.00'da buluşalım.
 C. Eyvah, okula geç kaldım!

7.



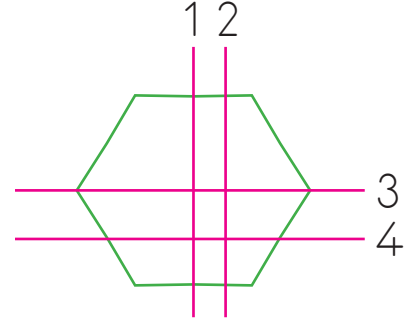
Yukarıdaki simetriyi bozan şekil hangisidir?

- A. baca B. kapı C. pencere

8. Bir kasada 25 kg portakal, portakallardan 15 kg fazla limon vardır. Bu kasadaki portakal ve limonların toplam kütlesi kaç kg'dir?

- A. 40 B. 55 C. 65

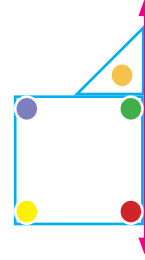
9.



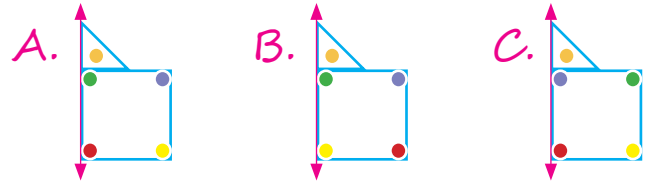
Kaç numaralı çizgiler şekli iki eş parçaya ayırmıştır?

- A. 1-3 B. 2-3 C. 1-2

10.



Yukarıdaki şeklin doğruya göre simetriği hangisidir?



11. Aşağıdakilerden hangisi iki eş parçaya ayrılabilir?



12. Teknolojinin gelişmesinde ve yeni icatların yapılmasında temel rol oynayan duygu aşağıdakilerden hangisidir?

- A. Korku duygusu
- B. Merak duygusu
- C. Kıskançlık duygusu

13.

Duvarların arkasını görmemizi sağlayan özel teknolojik cihaz

Nesnelerin kendi sıcaklığını gösteren piller

Aşağıdakilerden hangisi yukarıda özellikleri verilen teknolojik aletlerden birisi değildir?

- A. Güneş Pilleri
- B. Isıl Piller
- C. Rüzgâr Arkası Radar

14. Ülkemizin uzayda görev yapan yerli ve milli haberleşme uydusu aşağıdakilerden hangisidir?

- A. TÜRK SAT 6A
- B. İHA / SİHA
- C. MİLRÉS

15. Gelecekte yeni bir buluş yapmak ve sorunlara çözüm bulmak isteyen bir öğrenci ilk olarak ne yapmalıdır?

- A. Sadece televizyon izlemelidir.
- B. Çevresindeki sorunları gözlemlemelidir.
- C. Büyüyene kadar hiçbir şey yapmamalıdır.

senefoca.net

ADI:

SOYADI:

SINIFI:

1	A	B	C
2	A	B	C
3	A	B	C
4	A	B	C
5	A	B	C
6	A	B	C
7	A	B	C
8	A	B	C
9	A	B	C
10	A	B	C
11	A	B	C
12	A	B	C
13	A	B	C
14	A	B	C
15	A	B	C