

Bukalemunlar gezegendeki en sıra dışı ve güzel kertenkelelerden birisidir. Tehlike anında veya herhangi bir durum söz konusu olduğunda renklerini değiştirmeleri ile ünlü bu hayvanlar, son derece ilgi çekicidirler. Bunun yanında bukalemun türü, genellikle evde beslenebilecek canlılar arasında değildir. Çünkü bu hayvanlar, kolay hasta olabilmeye özelliğine sahiptirler.



1 ve 2. soruları metne göre cevaplayalım.

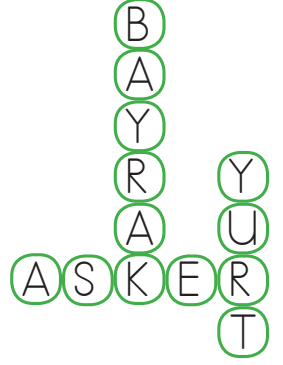
1. Bukalemunlar hangi özelliği ile ünlüdürler?

- A. Cesaretleri ile
- B. Tehlike anında renklerini değiştirmeleri ile
- C. Sevimli olması ile

2. Bukalemunlar niçin evde beslenebilecek canlılar değildir?

- A. Saldırgan oldukları için
- B. Renk değiştirdikleri için
- C. Kolay hasta oldukları için


3. Aşağıdaki açıklamalardan hangisinin karşılığı bulmacada verilmemiştir?



- A. Bir ulusun birliğini simgeleyen, renk ve biçimle özelleştirilmiş genellikle dikdörtgen biçiminde kumaş
- B. Bir halkın üzerinde egemen olarak yaşadığı, kültür ve uygarlığını oluşturduğu toprak parçası
- C. Eğitim ve öğretim yapılan yer

sonerhoca.net

4.



Eş anlamlı sözcüklerin yan yana olması için kaç numaralı çocuklar yer değiştirmelidir?

- A. 2 ve 3
- B. 1 ve 2
- C. 3 ve 4

5.



Eyvah() kar yağıyor()

Yukarıdaki cümlede hangi noktalama işareti kullanılmaz?

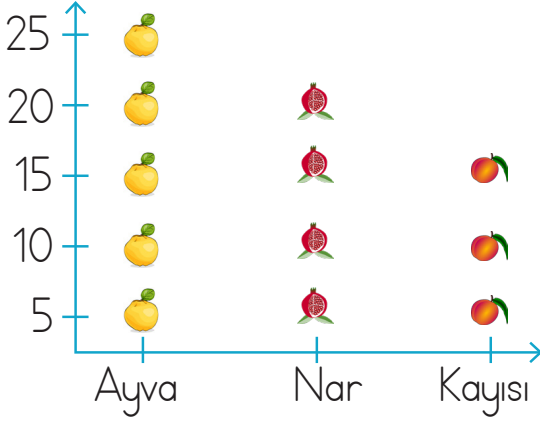
- A. ünlem
- B. virgöl
- C. nokta

6. Suna ve ailesi sinemaya gittikleri için çok mutluydular.

Yukarıdaki cümlede hangi sorunun cevabı yoktur?

A. Kim? B. Niçin? C. Ne zaman?

Bir Ayda Toplanan Meyveler Grafiği



7 ve 8. soruları metne göre cevaplayalım.

7. Kaç tane daha meyve toplanırsa toplam meyve sayısı 90 olur?

A. 30 B. 40 C. 35

8. En az toplanan meyvelerin sayısı 30'dan kaç eksiktir?

A. 10 B. 20 C. 15

Tablo: Bir çiçekçideki çiçek sayısı.

Çiçek türü	Çiçek sayısı
Lale	22
Karanfil	18
Sümbül	19
Gül	13
Nergis	10

9, 10 ve 11. soruları tabloya göre cevaplayalım.

9. Tanesi 3 lira olan nergislerin hepsini alan bir kişi kaç lira ödeme yapar?

A. 30 B. 40 C. 45

10. Bu çiçekçideki sümbül ve gül sayılarının toplamı karanfil ve nergis sayılarının toplamından kaç fazladır?

A. 2 B. 3 C. 4

11. Bu çiçekçideki çiçek sayısının toplamının en yakın onluğa yuvarlanmış hali aşağıdakilerden hangisidir?

A. 80 B. 70 C. 60

12. Sanat eserleri ortaya çıkarken sanatçıların en çok ihtiyaç duyduğu şey aşağıdakilerden hangisidir?

- A. Korku ve endişe
- B. Uyku ve dinlenme
- C. Merak ve hayal gücü

13. Deniz, ormanda yürürken kuşların farklı sesler çıkardığını fark etti ve bu seslerin ne anlama geldiğini çok merak etti. Bu merakı sayesinde eve döndüğünde kendi kendine mırıldanarak bir melodi oluşturdu ve bu melodiye uygun sözler yazdı.

Deniz'in merak duygusu onu hangi sanat dalına yönlendirmiştir?

- A. Resim
- B. Müzik
- C. Tiyatro

14. Merak etmek, içimizdeki duyguların ve yeni doğmasını sağlar.

Yukarıdaki cümledeki boşluğa aşağıdakilerden hangisi gelmelidir?

- A. sanat eserlerinin
- B. oyuncakların
- C. binaların

15. Aşağıdakilerden hangisi bir öğrencinin merakını sanata dönüştürdüğüne örnektir?

- A. Karıncaların nasıl yürüdüğünü büyüteçle izlemek.
- B. Karıncaların kraliçesini bulmak için araştırma yapmak.
- C. İzlediği karıncaların maceralarını anlatan bir masal yazmak.

senefhoca.net

ADI:

SOYADI:

SINIFI:

1	A	B	C
2	A	B	C
3	A	B	C
4	A	B	C
5	A	B	C
6	A	B	C
7	A	B	C
8	A	B	C
9	A	B	C
10	A	B	C
11	A	B	C
12	A	B	C
13	A	B	C
14	A	B	C
15	A	B	C