

YENİ KOMŞU

Seda, o gece uzun süre uyuyamadı. Çok yalnızım, hiç arkadaşım yok diye düşündü. Seda'nın bu üzüntüsü sabah kahvaltısında da sürdü. Üzgün bir şekilde pencereden dışarıyı seyrederken içi eşya dolu bir kamyon gördü. Kam-yon, yanlarındaki apartmanın önüne yanaşmıştı. Adamlar ve ona yardım eden küçük bir kız çocuğu eşya taşıyorlardı. Bir arkadaşı olacağını düşünen Seda, gülümsemeye başlamıştı.

1, 2 ve 3. soruları metne göre cevaplayalım.

1. Seda, gece neden uyuyamamış?

- A. Arkadaşlarını özlediği için
- B. Gece uykusu kaçtığı için
- C. Hiç arkadaşı olmadığı için

2. Seda, üzgün bir şekilde pencereyi seyrederken ne görmüş?

- A. İçi eşya dolu bir kamyon
- B. Dışarıda oynayan çocuklar
- C. Eski komşularını

3. Seda neden gülümsemeye başlamış?

- A. Sabah olduğu için
- B. Okula gideceği için
- C. Bir arkadaşı olacağı için

4.



Yukarıdaki sözcükler sözlük sırasına göre dizildiğinde sıralama nasıl olur?

- A. 3,1,2
- B. 2,1,3
- C. 1,3,2


5.



Yukarıdaki sözcükle ilgili ifadelerden hangisi yanlıştır?

- A. Satır sonunda doğru yazılmıştır.
- B. 3 heceden oluşmuştur.
- C. Dört tane ünlü harfi bulunmaktadır.

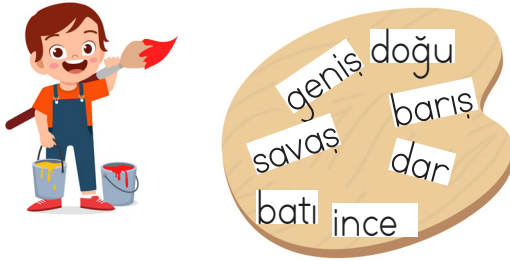
6.



Aşağıdaki cümlelerin hangisinde yukarıda verilen sözcüklerden birinin eş anlamlısı kullanılmamıştır?

- A. Babam, bana yeni ayakkabı aldı.
 B. Sınıf başkanlığı için rey kullandım.
 C. Yaşlı adama yardım ettim.

7.



Emre yukarıda verilen sözcüklerden birbiri ile zıt anlamlı olanları boyayacaktır. Buna göre boşta kalan sözcüğün zıt anlamlısı hangisidir?

- A. kalın B. eski C. yaşlı

8.



Ben soruların tamamını çözdüm.

Yukarıdaki cümleden hangi sözcük çıkarılırsa cümlenin anlamı değişmez?

- A. çözdüm B. soruların C. ben

9. SORUYA GEL



Sema torbadan 2 kart çekip kartta yazan özelliklere göre cümle kuruyor. Alper ise Sema'nın kurduğu cümleyi soru cümlesi yapıyor.




Sema torbadan sarı ve pembe kartları çektiğine göre hangisi Alper'in cümlesi olabilir?

- A. Bahçede top oynamadın mı?
 B. Oynadın mı top bahçede?
 C. Oynamadın mı top bahçede?

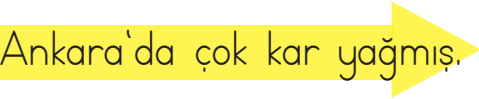


10. "Arkadaş" sözcüğü aşağıdaki noktalama işaretlerinden hangisinden sonra büyük harfle başlamaz?

- A. virgöl
 B. nokta
 C. soru işareti

11. Aşağıdaki cümlelerin hangisinde kesme işareti ile ayrılması gereken bir sözcük yoktur?

- A.  Aliye oyuncak aldım.
 B.  Ecenin annesi doktormuş.
 C.  Babam çiçekleri suladı.

12. Aşağıdaki cümlelerden hangisinde yazım yanlışı yapılmıştır?

- A.  Ankara'da çok kar yağmış.
 B.  İzmir de deprem olmuş.
 C.  Adana da sıcakmış.

13.  Akan su yosun tutmaz.

Yukarıdaki cümle için aşağıdakilerden hangisi söylenemez?

- A. Çalışmanın önemini anlatan bir cümledir.
 B. Atasözüdür.
 C. Söyleyeni bellidir.

14.



Emel okuldan geldi,
elini yıkadı, yemek yedi.

Yukarıdaki cümlede iş, oluş, hareket bildiren kaç sözcük vardır?

- A. 3 B. 2 C. 4

15.



Yukarıdaki görselde anlatılmak istenen nedir?

- A. Bütün çöpleri geri dönüşüm kusunna atmalıyız.
 B. Çiçeklere zarar vermemeliyiz.
 C. Çöpleri, çöp kutusuna atmalıyız.

1.

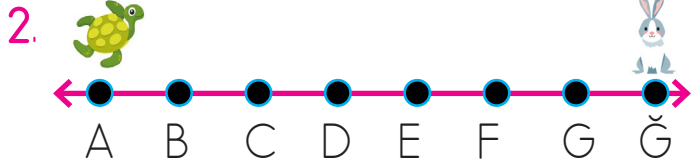
23
2 onluk+3 birlik

72
7 onluk+2 birlik

56
6 onluk+5 birlik

Yukarıdaki sayılardan hangisi onluk ve birliklerine yanlış ayrılmıştır?

- A. 72 B. 56 C. 23



Kaplumbağa sağa doğru 3 birim gittiğinde tavşan sola doğru 4 birim gitmektedir. Buna göre tavşan ve kaplumbağa hangi noktada karşılaşır?

- A. D B. E C. F

3.

18
27



44
36

Ece yukarıdaki 3 kutuyu kullanarak toplamı 81 olan sayıyı bulmak istiyor. Buna göre Ece'nin kullanmadığı kutunun içindeki sayı kaçtır?

- A. 27 B. 36 C. 44

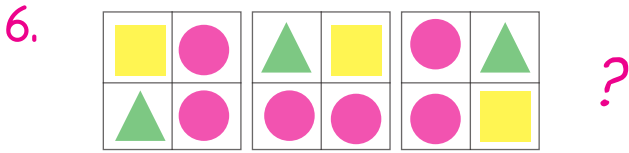
4. Aşağıdakilerden hangisi iki eş parçaya ayrılmaz?

A.  B.  C. 

5. 


Yukarıdaki sıvı ölçme araçları incelendiğinde bir sürahi su kaç kepçe ile dolar?

- A. 16 B. 24 C. 28


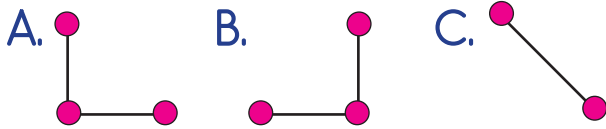


Yukarıdaki geometrik şekiller bir örüntü oluşturmaktadır. Örüntü devam ettirildiğinde en altta bulunan geometrik şekiller hangi seçenekte verilmiştir?

- A. B. C.

- 7.
- $3 \times \dots = 3$ $7 \times \dots = 0$
- $9 \times \dots = 9$ $5 \times \dots = 5$

Yukarıdaki çarpma işleminde verilmeyen sayılardan aynı olanlar eşleştirildiğinde hangisi doğru olur?



Peynirleri farelere eşit olarak dağıttığımızda her fareye kaç dilim peynir düşer?

- A. 6 B. 7 C. 8

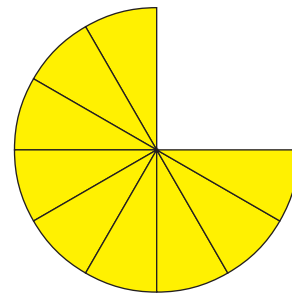
9. SORUYA GEL



Babası, Yusuf'a görseldeki kadar para veriyor. Kardeşleri ile eşit olarak paylaşmasını istiyor. Eşit olarak paylaşmak için sadece 50 lirayı bozdurması gerekiyor. Yusuf, 50 lirayı nasıl bozdurursa eşit paylaşım yapabilir?



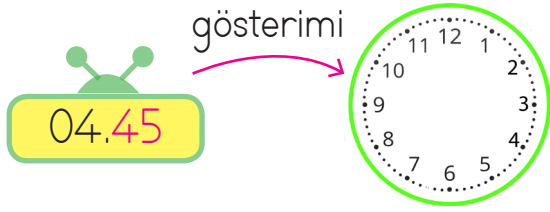
10.



Yukarıdaki pizzanın her dilimi 6 lira olduğuna göre kaç liralık pizza tüketilmiştir?

- A. 18 B. 20 C. 24

11.



Yanda verilen saati çizmek istersek akrep ve yelkovan için hangisi doğru olur?

- A. Akrep 4 ile 5'in arasında, yelkovan 9'un üzerinde olur.
- B. Akrep 4'ün, yelkovan 6'nın üzerinde olur.
- C. Akrep 5'in, yelkovan 9'un üzerinde olur.

12.



Aşağıdakilerden hangisi yukarıda verilen para miktarından daha fazladır?

- A.
- B.
- C.

Otoparktaki taşıt sayısı	
Taşıt	Taşıt sayısı
Otomobil	★★★★
Kamyonet	★★
Otobüs	★★★
Motosiklet	★

Her şekil "3" taşıtı temsil etmektedir.

13, 14 ve 15. soruları tabloya göre cevaplayalım.

- 13. Otoparkta en fazla ve en az bulunan taşıtların farkı kaçtır?
 - A. 10
 - B. 9
 - C. 8
- 14. Otoparka kaç kamyonet daha gelirse kamyonet sayısı 15 olur?
 - A. 9
 - B. 10
 - C. 11
- 15. Otobüs ile kamyonet sayısının toplamı otomobil sayısından kaç fazladır?
 - A. 5
 - B. 4
 - C. 3

1. Afetlere karşı önceden hazırlıklı olmak ve gerekli önlemleri almak isteyen bir aile için hangisi söylenemez?

- A. Aile afet planı yaparak güvenli buluşma yerleri belirlerler.
- B. Afet çantası hazırlamayı gereksiz bulurlar.
- C. Yaşadıkları alanlardaki riskleri azaltmaya çalışırlar.

2. Aşağıdakilerden hangisi İstiklal Marşı'mızın özelliklerinden biri değildir?

- A. Şairi Mehmet Akif Ersoy'dur.
- B. 10 kıtadır.
- C. Sadece gençler için yazılmıştır.

3. Aşağıdaki ifadelerden hangisi yanlıştır?

- A. Dişlerimizi fırçalarken musluğu açık bırakmak su tasarrufu sağlar.
- B. Odadan çıkarken lambaları kapatmak elektrik enerjisini boşa harcamamızı önler.
- C. İhtiyacımız kadar ekmek almak gıda israfının önüne geçer.

4.

Yağmur	Kar
Deprem	Rüzgar
Sis	Dolu

Yukarıdaki kavramlar bir grup oluşturmaktadır. Buna göre grubun dışında kalan olay aşağıdakilerden hangisidir?

- A. Deprem
- B. Dolu
- C. Sis

5.



Hafta sonu ormanda yürüyüş yaparken yönümü kaybettim. Neyse ki doğadaki ipuçlarını kullanarak yönümü kolayca buldum.

Hangisi Arda'nın yönünü bulmak için yararlandığı doğal yöntemlerden biri olamaz?

- A. Ağaçların ve taşların yosun tutan taraflarına bakmak
- B. Karınca yuvalarının ağzının hangi tarafa baktığını incelemek
- C. Kolundaki saate bakarak zamanı kontrol etmek

6. Hücrelerin hasar gören DNA'ları nasıl onardığını haritalandırarak Nobel Kimya Ödülü'nü kazanan Türk bilim insanı'dır.

Yukarıdaki boşluğa aşağıdakilerden hangisi gelmelidir?

- A. Cahit Arf
- B. Aziz Sancar
- C. Oktay Sinanoğlu

7. Aşağıdakilerden hangisi bir bilim insanında bulunması beklenen özelliklerden biri değildir?

- A. Çalışmalarında sabırlı ve kararlı olmak
- B. Meraklı ve iyi bir gözlemci olmak
- C. Karşılaştığı ilk başarısızlıkta çalışmaktan vazgeçmek

8. Aşağıdaki ifadelerin hangisinde bir hava olayından bahsedilmiştir?

- A. Yaz mevsiminde havalar çok sıcak olur.
- B. Dışarıda aniden çok şiddetli bir rüzgar başladı.
- C. Sonbaharda ağaçların yaprakları sararıp dökülür.

9. Teknolojideki gelişmeleri merak eden ve bu gelişmeleri hayatına doğru şekilde uygulamak isteyen bir çocuk için hangisi söylenemez?

- A. Yeni icatların ve araçların nasıl çalıştığını araştırmaktan keyif alır.
- B. Merak ettiği bilgilere güvenilir kaynaklardan ulaşmaya çalışır.
- C. Teknolojik araçları sadece zaman geçirmek ve oyun oynamak için kullanır.

10. Ali, bir akşam bahçede otururken gökyüzünde parıldayan yıldızları gördü. Yıldızların neden parladığını ve ne kadar uzakta olduklarını çok merak etti. Ertesi gün okula gittiğinde bu merakını öğretmenine anlattı. Öğretmeni Ali'ye gülümseyerek, "Harika bir soru Ali, Dünya'mızı ve evreni senin gibi merak edip araştıran insanlara denir." dedi.

Yukarıdaki hikayede boş bırakılan yere hangisi gelmelidir?

- A. bilim insanı
- B. astronot
- C. mühendis

1. Aşağıdakilerden İngilizce kelimelerden hangisinin Türkçe karşılığı yanlış verilmiştir?

- A. garden – bahçe
- B. kitchen – mutfak
- C. living room – banyo

2.

parrot

duck

Verilen görsellerden hangisi yukarıdaki kelimelerden birini temsil etmez?




3.



Aşağıdakilerden hangisi sırasıyla yukarıdaki meyvelerin İngilizce karşılıklarıdır?

- A. apple – orange
- B. strawberry – peach
- C. strawberry – orange

4.



Yukarıdaki boşluğa aşağıdaki ifadelerden hangisi gelmelidir?

- A. ten
- B. fifteen
- C. seventeen

5.



Aşağıdakilerden cümlelerden hangisi yukarıdaki görseli ifade eder?

- A. The cat on the box.
- B. The cat in the box.
- C. The cat under the box.