






11. Ersin Usta 24 metre uzunluğunda bir tahtanın önce çeyreğini daha sonra da kalanın yarısını kullanmıştır. Buna göre Ersin Usta kaç metre tahta kullanmıştır?




 Çözüm:

13. Yapılan bir deneme sınavında sınav süresi 45 dakikadır. Sınav saat 10.45'te bittiğine göre saat kaçta başlamıştır?

 Çözüm:

12.


Sipariş edilen



Kalan




Yukarıda sipariş edilen ve kalan pizza miktarı verilmiştir. Buna göre kaç çeyrek pizza yenmiştir?


 Çözüm:

sonerhoca.net

14. Haftada 3 saat yüzme dersi alan Emre, 18 saatlik dersi kaç haftada tamamlar?

 Çözüm:

15. 3 mevsim ile 2 ayın toplamı kaç ay eder?

 Çözüm: