

OKULUN SON HAFTASI

Alper, ikinci sınıfa heyecanla başlamış ve okul hayatının bir yılını geride bırakmasına bir hafta kalmıştı. Öğretmeni ve arkadaşlarıyla çok iyi zaman geçirmişti. Özellikle, aynı sınıfı paylaştığı arkadaşlarıyla yaptığı etkinliklerle çok eğlenmişti. Her yıl olduğu gibi okulların kapanacağı tarih yaklaşınca biraz üzülmüştü. Öğretmenini ve arkadaşlarını çok özleyeceği belliydi. Tek isteği yaz tatilinin çabucak bitip okulların açılmasıydı.

1, 2 ve 3. soruları metne göre cevaplayalım.

1. Alper ikinci sınıfa nasıl başlamış?

- A. Endişeyle
- B. Üzüntüyle
- C. Heyecanla


2. Alper, niçin üzülmüş?

- A. Okullar kapanacağı için
- B. Başka okula gideceği için
- C. Başarısız olduğu için

3. Alper'in tek isteği neymiş?

- A. Güzel bir yaz tatili
- B. İkinci sınıfı tekrar okumak
- C. Okulların açılması

4.



Yukarıdaki sözcükler sözlük sırasına göre dizildiğinde en sonda yer alan sözcük hangisi olur?






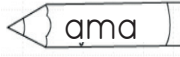
- A. Pırasa
- B. Rize
- C. Masa

5.



Yukarıdaki varlıklardan hangisinin hece sayısı diğerlerinden fazladır?

- A. 
- B. 
- C. 

6.   
  

Yukarıdaki sözcüklerden tek başına anlamı olmayanlar boyanacaktır. Buna göre boyanmayan sözcük sayısı kaçtır?

- A. 1
B. 3
C. 2

7.



Yukarıdaki sözcükler arasındaki anlam ilişkisi hangi sözcükler arasında vardır?

- A. Soru - Sual
B. İyi - Kötü
C. Aşağı - Yukarı

8.



Aşağıdakilerden hangisi yukarıda verilen sözcüklerin zıt anlamı olmaz?

- A. Dar B. Bayat C. Enli

9. SORUYA GEL



Yukarıda çocukların ellerinde tuttukları sözcükler arasında bir kural vardır.

Buna göre soru işareti ile belirtilen yere hangi sözcük yazılabilir?

- A. Tatlı
B. Yalı
C. Nazlı

10.



Aşağıdaki sözcüklerle bir cümle oluşturulacaktır. Buna göre sıralama nasıl olmalıdır?

- A. 4 - 2 - 3 - 1
B. 4 - 3 - 2 - 1
C. 4 - 2 - 1 - 3

11. Aşağıdaki cümlelerin hangisinde yazım yanlışı yapılmıştır?
- A. Annemle kitap, kalem, boya kalemi aldık.
- B. Babam bizi pikniğe götürdü.
- C. Parka ardayla birlikte gittik.

12. Hangi cümlede "Kim?" ve "Ne?" sorusunun yanıtı vardır?

A. Yuvarlak çerçeveyi inceledi.

B. Babam, bahçeye fidan dikti.

C. Adana daha sıcakmış.

13. Damlaya damlaya göl olur.

Yukarıdaki cümle için aşağıdakilerden hangisi söylenemez?

- A. Birikimin önemini anlatan bir cümledir.
- B. Atasözüdür.
- C. Söyleyeni bellidir.

- 14.

Hikayenin unsurları	
Olay	Yer
Zaman	Duygu

Yukarıdaki tablodaki hatanın düzeltilmesi için hangi sözcüğün değiştirilmesi gerekir?

- A. Duygu
- B. Olay
- C. Zaman

- 15.

Babam Muğla()ya bir oku()
la müdür olarak atandı()

Yukarıdaki cümlede parantez içine hangi noktalama işareti gelemmez?

- A. Kısa çizgi (-)
- B. Kesme İşareti (')
- C. Soru İşareti (?)


1.



Aşağıdaki sayılardan hangisi yukarıda çözümlenmesi yapılan sayıdan büyüktür?

- A. 37 B. 56 C. 23

2.




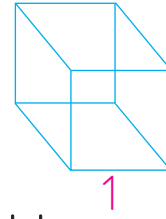
Yukarıdaki işlemlere göre ● ve ▲ sembollerine karşılık gelen sayıların toplamı kaçtır?

- A. 89 B. 72 C. 51

3. 3 ve 8 rakamlarını kullanarak yazılabilecek en büyük ve en küçük sayıların farkı kaçtır?

- A. 27 B. 45 C. 41

4.



Yukarıdaki geometrik cisimler için hangisi söylenemez?

- A. 1 numaralı geometrik cisimde iki tane kare bulunur.
 B. Köşe sayıları birbirine eşittir.
 C. Verilen geometrik cisimlerin ortak özelliği yoktur.

5. Bir sinema salonunda 10 sıra ve her sırada 4 koltuk vardır.




Koltukların 26 tanesi dolu olduğuna göre kaç tanesi boştur?

- A. 16 B. 14 C. 28


6.

$21 \div 3$ $20 \div 5$ $25 \div 5$

Yukarıdaki bölme işleminin sonuçları büyükten küçüğe sıralanacaktır. Buna göre hangi sıralama doğrudur?

- A. 
 B. 
 C. 

7.



Bakkaldan 3 ekmek aldım. Evde de 4 yarım ekmek vardı.

Buna göre Alperlerin evinde toplam kaç ekmek olmuştur?

- A. 4 B. 5 C. 6

8.



Aşağıdakilerden hangisi görseli verilen resim ile özdeşleşen mevsimin aylarından biri değildir?

- A. Mart B. Ocak C. Şubat

9.

SORUYA GEL



Bir bakkal 66 kg pirincin 40 kilogramını 5 kg'lık torbalara, 16 kilogramını 4 kg'lık torbalara, kalanını ise 2 kg'lık torbalara dolduruyor.

Buna göre bakkalın elinde sırasıyla 5, 4 ve 2 kilogramlık pirinç torbalarının sayısı kaçtır?

- A. 5, 4, 8
 B. 8, 5, 4
 C. 8, 4, 5

10.

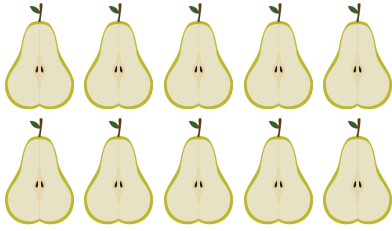


Aylık 60 lira harçlık alıp 10 lirasını biriktiriyorum.

Esmayaz mevsiminde kaç lira biriktirmiştir?

- A. 30 B. 20 C. 40

11.



Yukarıda verilen armutların sayısı için hangisi söylenemez?

- A. 4 bütün, 2 çeyreğe eşittir.
- B. 20 çeyreğe eşittir.
- C. 5 bütüne eşittir.

12.



76 metre kurdelenin 24 metresi kullanılmış, 31 metresi satılmıştır. Artan kurdele hangi renk ile ifade edilmiştir?

- A.
- B.
- C.

13. Aşağıdakilerden hangisi bir yılın çeyreğini ifade eder?

- A. 1 haftadaki gün sayısı
- B. 1 mevsimdeki ay sayısı
- C. 1 yıldaki gün sayısı

14.

Çiçekler	Çiçek sayısı
Lale	7
Menekşe	11
Gül	9
Nergis	5

Yukarıdaki sıklık tablosunda bir çiçek bahçesindeki çiçeklerin sayısı ifade edilmiştir. Buna göre aşağıdaki ifadelerden hangisi yanlıştır?

- A. Lalenin çeteli ile gösterilişi şeklindedir.
- B. Gül ve nergislerin toplamı bir desteden 4 fazladır.
- C. Menekşelerin sayısı diğerlerinden fazladır.

15.



Not: Her biberin ağırlığı eşittir. Yukarıdaki terazinin durumu ile ilgili hangi ifade yanlıştır?

- A. Terazî dengededir.
- B. 6 biberin ağırlığı 1 kilograma eşittir.
- C. Biberlerin toplam ağırlığı 2 kilogramdan azdır.

1. İnsanların "Gökyüzündeki kuşlar gibi uçabilir miyiz?" ya da "Uzayda ne var?" diye merak etmesi aşağıdakilerden hangisini sağlamıştır?
 - A. Yeni teknolojilerin ve icatların yapılmasını
 - B. Dünyadaki tüm ağaçların yeşermesini
 - C. Havada uçan kuşların çoğalmasını

2. Arda ve Aras bahçede karşılıklı durup birbirine bakmaktadır. Arda'nın arkası kuzey yönünü gösterdiğine göre, Arda'nın yüzünün dönük olduğu ve Aras'ın baktığı yönler sırasıyla hangisidir?
 - A. Arda kuzeye, Aras güneye bakmaktadır.
 - B. Arda batıya, Aras doğuya bakmaktadır.
 - C. Arda güneye, Aras kuzeye bakmaktadır.


3. Aşağıdakilerden hangisi yeni teknolojiler ve icatlar üreten bilim insanlarının özelliklerinden biri değildir?
 - A. Aceleci
 - B. Sabırlı
 - C. Meraklı


4. Zeynep, bir sonbahar günü parktaki ağaçların yapraklarının neden sarardığını ve kırmızıya döndüğünü çok merak etti. Günlerce yaprakları inceledi ve renk değişimlerini izledi. Sonunda bu renklerin güzelliğini herkese göstermek için tuvalin başına geçip harika bir doğa resmi yaptı.


Zeynep'in bu güzel sanat çalışmasını yapmasını sağlayan ilk duygu aşağıdakilerden hangisidir?


- A. Sabır
- B. Merak
- C. Yetenek


5. Öğretmenimiz tahtaya "Kaynaklarımızı israf etmeden, ihtiyacımız kadar kullanmalıyız." yazdı. Buna göre hangi öğrenci öğretmenin tahtaya yazdığı bu kurala doğru bir örnek vermiştir?


A.  Dişlerimi fırçalarken musluğu açık bırakırım.

B.  Tabağıma yiyebileceğim kadar yemek alırım.

C.  Gündüz olsa da odamın lambasını yakarım

6.  İHA ve SİHA, gökyüzünde uçarak ülkemizi koruyan insansız hava araçlarımızdır.

 MİLRES, rüzgardan elektrik üretmek için yapılan yerli rüzgar türbinimizdir.

 HÜRKUŞ, ülkemizin denizlerde görev yapması için ürettiği ilk yerli askeri gemidir.

Yukarıdaki sembollerin önüne ülkemizin yerli teknolojileriyle ilgili bilgiler yazılmıştır. Buna göre hangi sembolün önündeki bilgi yanlıştır?

- A.  B.  C. 

7. Aşağıdakilerden hangisi afetlere karşı almamız gereken önlemlerden biri değildir?

- A. Aile bireylerinin telefon numaralarının yazılı olduğu bir acil durum kartı hazırlamak
B. İçinde su ve ilk yardım malzemeleri olan bir afet çantası bulundurmak
C. Afetlerin ne zaman geleceğini tahmin etmeye çalışıp evden hiç dışarı çıkmamak

8. Ülkemizde matematik alanında çok önemli çalışmalar yapmış bilim insanımız aşağıdakilerden hangisidir?

- A. Cahit Arf B. Jale İnan
C. Aziz Sancar

9. Hava sıcaklığının aniden düşmesiyle gökyüzündeki su damlacıkları buz tutar ve yeryüzüne küçük buz topları şeklinde hızla düşer.


Yukarıda anlatılan hava olayı aşağıdakilerden hangisidir?

- A. yağmur B. kar
C. dolu

10. Bir sanatçı, yeni bir eser üretirken her zaman merak duygusuyla hareket eder. Buna göre, hangi öğrenci bir sanatçının merak duygusuna uygun bir davranış yapmıştır?

- A. Pelin: "Bahçedeki ilginç taşlardan çok farklı bir şekil oluşturdum."
B. Utku: "Boyama kitabımı her zamanki gibi aynı renklerle boyadım."
C. Çınar: "Öğretmenin çizdiği resmin aynısını defterime yaptım."

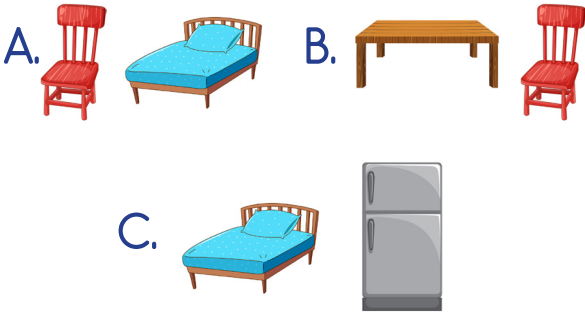
1. Verilen görsellerden hangisinin İngilizce karşılığı yanlış verilmiştir?



2.

bed – chair

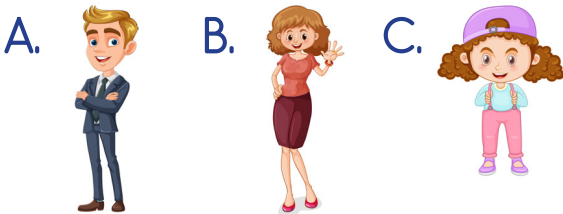
Hangi seçenekte yukarıda verilen kelimelerin görselleri birlikte verilmiştir?



3.

a-t-f-e-r-h

Yukarıda harfleri karışık olarak verilen İngilizce kelimeyi çağrıştıran görsel aşağıdakilerden hangisi olabilir?



4.



The rabbit is the hat.

Yukarıdaki boşluğa aşağıdaki kelimelerden hangisi gelmelidir?

- A. under
B. in
C. on

5.



Aşağıdakilerden hangisi yukarıdaki görsellerden birinin İngilizce karşılığı değildir?

- A. fish
B. dog
C. frog