

İlkbahar mevsiminin sıcak bir günüydü. Mert bahçeye çıktı. Çiçeklerin güzel kokusu çok hoşuna gitti. Daha sonra arkadaşı Efe'yi çağırdı. İkiisi birlikte çok güzel oyunlar oynadılar. Efe ve Mert o gün çok güzel vakit geçirip akşam olunca eve döndüler.

1 ve 2. soruyu metne göre cevaplayalım.

1. Yukarıdaki metinde olay ne zaman geçmektedir?

- A. Soğuk bir kış günü
- B. Sıcak bir yaz günü
- C. Sıcak bir ilkbahar günü

2. Mert bahçeye çıktıktan sonra kimi çağırdı?

- A. Annesini
- B. Babasını
- C. Arkadaşını


3. ★ test

● kara

▲ siyah

Yukarıdaki kelimelerden hangisinin hece sayısı en azdır?

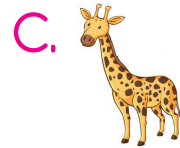
- A. ★
- B. ●
- C. ▲



Yukarıda verilen meslek gruplarının isimlerinin harfleri ile ilgili söylenenlerden hangisi yanlıştır?

- A. 1. meslek grubunun isminde 4 ünsüz harf vardır.
- B. 2. meslek grubunun ismi alfabemizin 14. harfi ile başlar.
- C. 3. meslek grubunun ismi alfabemizin ilk harfi ile başlar.

5. Aşağıdaki hayvanlardan hangisi ismi alfabemizin son harfi ile başlar?



6. 

la	ta	sa	lık
----	----	----	-----

Yukarıdaki hecelerin tamamı ile aşağıdaki sözcüklerden hangisi oluşturulabilir?

- A. lahana
- B. salatalık
- C. salamura



Aşağıdakilerden hangisi yukarıdaki ritmik sayma verilmeyen semboller için yanlıştır?


A.  $\blacktriangle + 5 = 16$

B.  $\bullet + 3 = 11$

C.  $\blacktriangle + \bullet = 18$

8. Toplamı verilen verilmeyenli bir toplama işleminde verilmeyen eleman hangisidir?

A. eksilen B. toplanan C. toplam

9. 

Yukarıdaki toplama işleminde verilmeyen toplanan kaçtır?

A. 7

B. 8

C. 9




Yukarıdaki toplara kaç top daha eklenirse top sayısı 20 olur?

A. 10

B. 11

C. 12

11.



Yukarıdaki sayıların toplamı ile aşağıdaki sayılardan hangisini toplarsak sonuç "18" yapar?

A. 2

B. 3

C. 4



12. Her bağımsız ..... bir bayrağı ve milli bir marşı vardır.

Yukarıdaki cümlede boş bırakılan yere hangi kelime gelmelidir?

- A. okulun
- B. şehrin
- C. ülkenin

13. Resim dersinde Türk bayrağı çizecek olan Ali, boya kutusundan iki tane renk seçti.

Ali bayrağımız için hangi renkleri seçmiştir?

- A. Kırmızı ve Mavi
- B. Kırmızı ve Beyaz
- C. Beyaz ve Siyah

14. Aşağıdakilerden hangisi bizim milli değerlerimizdendir?

- A. En sevdiğimiz oyuncaklarımız
- B. Okul eşyalarımız
- C. Bayrağımız ve İstiklal Marşı'mız

15. Okul bahçesinde oyun oynarken birden okulun hoparlöründen İstiklal Marşı çalmaya başladı. Bu durumda yapılması gereken doğru davranış hangisidir?

- A. Oyuna sessizce devam etmek.
- B. Hızlıca sınıfa doğru koşmak.
- C. Hemen durup hazır ol duruşuna geçmek.

ADI: .....

SOYADI: .....

SINIFI: .....

1	A	B	C
2	A	B	C
3	A	B	C
4	A	B	C
5	A	B	C
6	A	B	C
7	A	B	C
8	A	B	C
9	A	B	C
10	A	B	C
11	A	B	C
12	A	B	C
13	A	B	C
14	A	B	C
15	A	B	C