

1. Yandaki görsel için aşağıdakilerden hangisi söylenebilir?



- A. Kaplumbağa, kabuğunun içine çekilmiş.
- B. Kaplumbağa, çok mutlu görünüyor.
- C. Kaplumbağa zıplamış.

2.



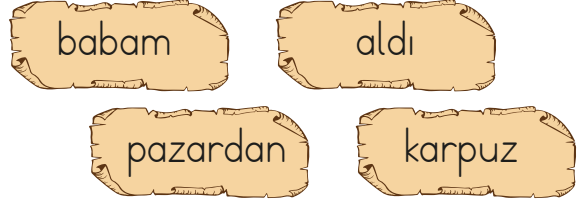
Arılar kovanlarına hangi çiçekten polen taşıyamaz?

- A. papatya
- B. lale
- C. menekşe

3. Aşağıdaki sözcük çiftlerinden hangisi zıt anlamlı değildir?

- A. uzun - kısa
- B. ince - kalın
- C. derin - çukur

4.



Aşağıdakilerden hangisi yukarıdaki sözcüklerle oluşturulabilecek anlamlı ve kurallı bir cümledir?

- A. Babam pazardan karpuz aldı.
- B. Babam aldı pazardan karpuz.
- C. Pazardan karpuz aldı babam.

5. Kediler, insanların duyamadığı sesleri duyabilirler. Uyumayı çok severler. Karanlıkta insanlardan daha iyi görürler. Ayrıca oldukça meraklıdırlar.

Hangisi kedilerin özelliklerinden biri değildir?

- A. İnsanlar kedilerden daha iyi duyar.
- B. Oldukça meraklıdırlar.
- C. Karanlıkta insanlardan daha iyi görürler.

6. "Deniz" sözcüğündeki ünlü harfler kırmızı renkle, ünsüz harfler beyaz renkle gösterilmek istenirse dairelerin görünüşü nasıl olur?




- A. ○ ● ● ● ○
- B. ● ○ ● ○ ●
- C. ○ ● ○ ● ○




7.  +  = 




Yukarıdaki görselde "?" yerine kaç elma gelmelidir?

- A. 10      B. 9      C. 8

8. Aşağıdaki modellenen işlemlerden hangisinde verilmeyen varlığın sayısı 6 olmalıdır?

A.  +  = 

B.  +  = 

C.  +  = 

9. Yandaki tabloda " " ile gösterilen yere hangi sayı gelmelidir?

|   |     |   |
|---|-----|---|
| + | 4   | 2 |
| 6 | " " |   |
| 5 |     | 7 |

- A. 8      B. 9      C. 10

10. Tavşan Şan birinci gün 8 havuç ikinci gün 4 havuç, üçüncü gün ise 2 havuç yedi. Tavşan Şan üç günde toplam kaç havuç yedi?

- A. 14      B. 12      C. 10

12. Terzi Mustafa Bey pazartesi günü 4 pantolon, salı günü ise pazartesi gününden 5 fazla pantolon dikmiştir. Terzi Mustafa Bey salı günü kaç tane pantolon dikmiştir?



- A. 10      B. 11      C. 9



12. Ülkemizin yönetim merkezi olan ve başkentimiz aşağıdaki şehirlerimizden hangisidir?

- A. Adana
- B. İstanbul
- C. Ankara

13. Aşağıdaki ifadelerden hangisi yanlıştır?

- A. Bayrağımız ve İstiklal Marşı'mız bağımsızlık sembollerimizdir.
- B. Bayrak törenlerinden İstiklal Marşı'mızın tamamını okuruz.
- C. İstiklal Marşı'mızın şairi Mehmet Akif Ersoy'dur.

14. Aşağıdakilerden hangisi ülkemizde bulunan tarihi eserleri korumak için yapılması gerekenlerden biridir?

- A. Eserlerin üzerine yazı yazmak.
- B. Tarihi yerleri temiz tutmak.
- C. Çöplerimizi gittiğimiz tarihi alanlarda yerlere atmak

15. "Dolmabahçe Sarayı ..... bulunur." cümlesinde boş bırakılan yere aşağıdakilerden hangisi gelmelidir?

- A. Ankara'da
- B. İstanbul'da
- C. Bursa'da

ADI: .....

SOYADI: .....

SINIFI: .....

|    |   |   |   |
|----|---|---|---|
| 1  | A | B | C |
| 2  | A | B | C |
| 3  | A | B | C |
| 4  | A | B | C |
| 5  | A | B | C |
| 6  | A | B | C |
| 7  | A | B | C |
| 8  | A | B | C |
| 9  | A | B | C |
| 10 | A | B | C |
| 11 | A | B | C |
| 12 | A | B | C |
| 13 | A | B | C |
| 14 | A | B | C |
| 15 | A | B | C |