

Merve, geziye gitmek için hazırlanıyordu. Birden şimşek çaktı. Sonrasında şiddetli bir yağmur başladı. Ardından annesinin telefonu çaldı. Arayan öğretmeni idi. Gezinin ertelendiğini söyledi. Merve, bu duruma çok üzüldü.

1 ve 2. soruyu metne göre cevaplayalım.

1. Merve, nereye gitmek için hazırlanıyordu?

- A. Okula
- B. Geziye
- C. Pikniğe

2. Merve'nin üzülmesinin sebebi aşağıdakilerden hangisidir?

- A. En sevdiği arkadaşının geziye gelmemesi
- B. Yağmur yağdığı için gezinin ertelenmesi
- C. Annesinin geziye gitmesine izin vermemesi

3. Aşağıdaki sözcük çiftlerinin hangisinin tek harften oluşan bir hecesi vardır ?

- A. tren
- B. stad
- C. okul

4. Hakan, okula servisle gidiyor.

Yukarıdaki cümlede altı çizili sözcüklerden hangisi aşağıdaki sorulardan birinin cevabı değildir?

- A. ne zaman
- B. nereye
- C. kim

5. 1. kitap 2. para 3. ağaç




Yukarıdaki sözcüklerin alfabetik sıralaması aşağıdakilerden hangisidir?

- A. 1 - 2 - 3
- B. 2 - 3 - 1
- C. 3 - 1 - 2

6. 3 ünlü harfi bulunmaktadır
Sessiz harfle başlar.

?

Yukarıdaki "?" ile belirtilen yere aşağıdaki varlıklardan hangisinin ismi gelebilir?

- A. 
- B. 
- C. 

7. İleriye doğru ritmik sayarken 8'den sonra söylediğimiz sayı ile geriye doğru ritmik sayarken 5'ten sonra söylediğimiz sayı arasındaki fark kaçtır?

- A. 3 B. 4 C. 5

8. 12'nin altı eksiği kaçtır?

- A. 6 B. 5 C. 4

9.



Ali

7'nin 4 fazlası



Cenk

15'in 2 eksiği

Ali ve Cenk okudukları kitap sayılarını yukarıdaki gibi ifade etmişlerdir. İki çocuğun okudukları kitap sayıları arasındaki fark kaçtır?

- A. 2 B. 3 C. 4

10.





19 sayfa

Mehmet, öğretmeninin ödev olarak verdiği kitaptan birinci gün 8, ikinci gün 3 sayfa okumuştur. Mehmet'in bu kitabı bitirmesi için kaç sayfa daha okuması gerekir?

- A. 7 B. 8 C. 9

11.



Yukarıda bulunan 1 numaralı ve 2 numaralı kutularda varlıklar gösterilmiştir. 1 numaralı ve 2 numaralı varlıklar arasındaki fark kaçtır?

- A. 3 B. 4 C. 5



12. Aşağıdakilerden hangisi dini bayramlarımızdan birisi değildir?

- A. Ramazan Bayramı
- B. Cumhuriyet Bayramı
- C. Kurban Bayramı

13. Dini bayramlar, küs olan insanların barıştığı, dargınlıkların sona erdiği özel günlerdir. Buna göre dini bayramlar için aşağıdakilerden hangisi söylenebilir?

- A. İnsanları birbirinden uzaklaştırır.
- B. Toplumsal barışı ve huzuru artırır.
- C. İnsanların birbirinden daha çok çekinmesini sağlar.

14. Dini bayramlarımızda hangi duygu ön plandadır?

- A. Sevgi ve anlayış
- B. Kıskançlık
- C. Üzüntü

15. Ayşe, bayram günü sabah uyanınca annesinin, babasının ve dedesinin elini öperek bayramlaştı. Ayşe'nin bu davranışı bayramların hangi değerini yansıtır?

- A. Birlik ve beraberliği
- B. Harçlık alma isteğini
- C. Oyun oynama isteğini

ADI:

SOYADI:

SINIFI:

1	A	B	C
2	A	B	C
3	A	B	C
4	A	B	C
5	A	B	C
6	A	B	C
7	A	B	C
8	A	B	C
9	A	B	C
10	A	B	C
11	A	B	C
12	A	B	C
13	A	B	C
14	A	B	C
15	A	B	C